

Решение задач и выражений.



Урок № 93



УСТНЫЙ СЧЁТ

$$2 + 2 =$$

$$6 - 4 =$$



18



12

4

-

+

10

19

8

14

Составь задачи по решению.



$$5 + 3 = 8$$

$$5 - 3 = 2$$

$$8 - 3 = 5$$



Карандаш стоит 4 рубля, тетрадь 5 рублей. А маркер столько, сколько карандаш и тетрадь вместе. Сколько стоит маркер?



9 рублей

$$4 + 5 = 9$$

?




4 рубля


5 рублей

У Вики было 8 цветных карандашей. После того, как она отдала несколько брату, у неё осталось их 5. Сколько Вика карандашей отдала брату?

3 карандаша



$$8 - 5 = 3$$



НОВЫЙ МАТЕРИАЛ



Как удобнее сосчитать примеры?



$$6 + 5 + 4 =$$

$$6 + 4 + 5 = 15$$



$$7 + 5 + 3 =$$

15

$$9 + 4 + 1 =$$

14

$$8 + 3 + 2 =$$

13

$$5 + 8 + 5 =$$

18

Как удобнее сосчитать примеры?



$$14 - 6 - 4 =$$

$$14 - 4 - 6 = 4$$



$$14 - 7 - 4 =$$

3

$$12 - 5 - 2 =$$

5

$$11 - 7 - 1 =$$

3

$$17 - 9 - 7 =$$

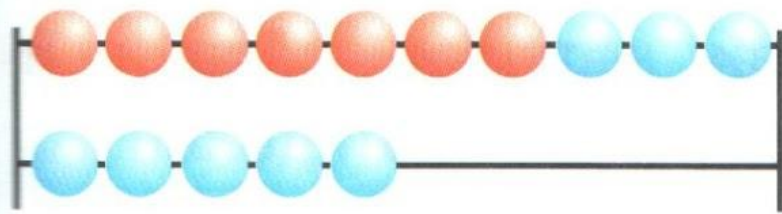
1

РАБОТА ПО УЧЕБНИКУ

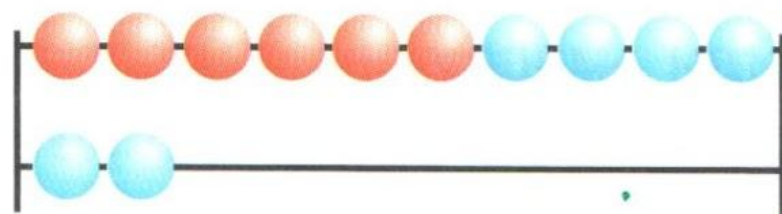


Стр. 53

Рассмотри каждый рисунок и запись под ним.
Объясни, сколько всего прибавили к числу,
сколько всего вычли.



$$7 + 3 + 5$$
$$15 - 5 - 3$$



$$6 + 4 + 2$$
$$12 - 2 - 4$$

1. Вычисли, каждый раз объясняя, сколько всего прибавили к числу или сколько всего вычли из него.

$$8 + 2 + 1$$
$$6 + 4 + 3$$

$$18 - 8 - 1$$
$$14 - 4 - 5$$

$$17 - 7 - 1$$
$$1 + 9 + 1$$

2. 1) В букете 8 васильков, а ромашек на 2 больше. Сколько ромашек в букете?

2) В букете 8 васильков и 10 ромашек. Сколько всего цветов в букете?

3. В банку входит 10 стаканов воды. Сколько стаканов воды можно долить в каждую банку?



10 ст.



8 ст.



3 ст.



6 ст.



7 ст.

4. Найди сумму чисел:

6 и 4, 4 и 5, 7 и 10.

Найди разность чисел:

10 и 6, 16 и 6, 7 и 7.

$$17 - 7 - 2$$


$$15 - 5 - 3$$

$$8 + 2 + 3$$

$$7 + 3 + 4$$



$$13 - 3 - 1$$

$$16 - 6 - 2$$



?

РАБОТА В ТЕТРАДИ



Стр. 27

- 5 Блокнот стоит 7 р., а ручка на 4 р. дешевле. Сколько стоит ручка?

Ответ:

Сколько стоят блокнот и ручка вместе?


Ответ:

- 6 $18 - 8 - 3 =$ $4 + 6 + 8 =$
 $19 - 9 - 2 =$ $1 + 9 + 4 =$

- 7 $18 - 1 = 17$ $9 - 1 - 3 = 13$

- \pm $18 - 1 = 19$ $3 - 7 - 4 = 6$

ЗАДАНИЯ ПОВЫШЕННОЙ ТРУДНОСТИ



Во дворе гуляют куры и петух. У каждой курицы по 2 цыплёнка. Всего птиц 7. Сколько кур гуляет во дворе?

2 курицы



В двух корзинах 9 кг овощей. Сколько овощей в каждой корзине, если во второй корзине на 1 кг овощей больше, чем в первой?

4 кг и 5 кг



9 кг





Что напутал художник? Найди десять отличий между картинками.



конец