



Десяток.

Счет десятками до

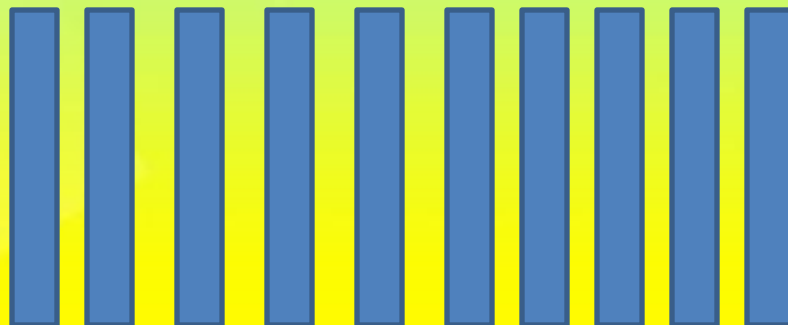
100






5
Б

Десять единиц = 1 десяток

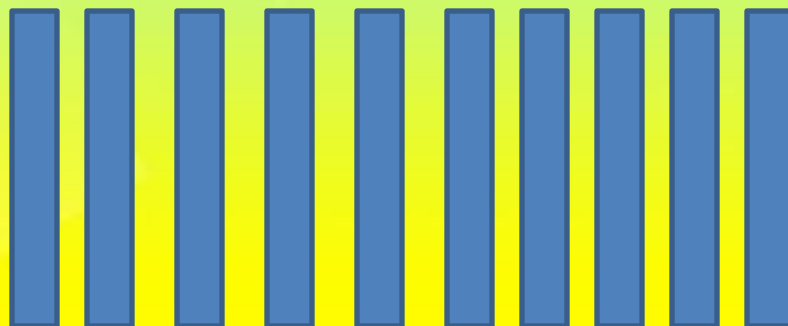




1 десяток = 10



Десять единиц = 1 десяток





1 десяток – **десять** – 10

2 десятка – **двадцать** – 20

3 десятка – **тридцать** – 30

4 десятка – **сорок** – 40

5 десятков – **пятьдесят** – 50

6 десятков – **шестьдесят** – 60

7 десятков – **семьдесят** – 70

8 десятков – **восемьдесят** – 80

9 десятков – **девяносто** – 90

10 десятков – 1 сотня (**сто**) - 100





Задание 2.



3 дес. + 1 дес. =

30 + 10 =

4 дес. + 5 дес. =

40 + 50 =





Задание 2.



3 дес. + 1 дес. = 4 дес.

30 + 10 = 40

4 дес. + 5 дес. =

40 + 50 =





Задание 2.



3 дес. + 1 дес. = 4 дес.

30 + 10 = 40

4 дес. + 5 дес. = 9 дес.

40 + 50 = 90





Проверим!

$$5 \text{ дес.} - 2 \text{ дес.} = 3 \text{ дес.}$$

$$50 - 20 = 30$$

$$9 \text{ дес.} - 5 \text{ дес.} = 4 \text{ дес.}$$

$$90 - 50 = 40$$





5
B





Оцени свою работу!



Я постарался, все
получилось!



Я постарался, но были
ошибки!



Сложно было, не старался!





Спасибо за работу!
Вы молодцы!

