

Решение задач изученных видов



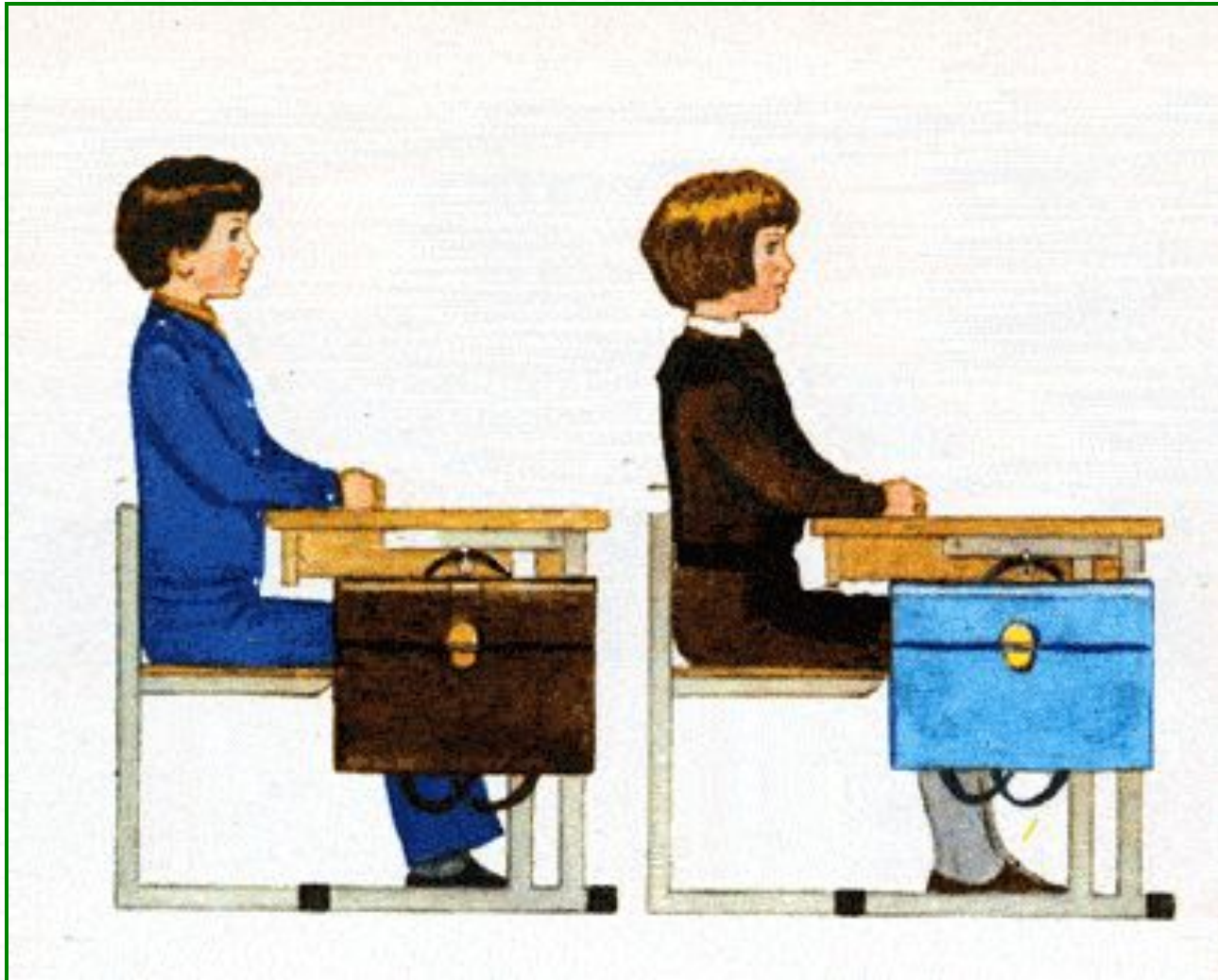
Школа России
Математика 1 класс



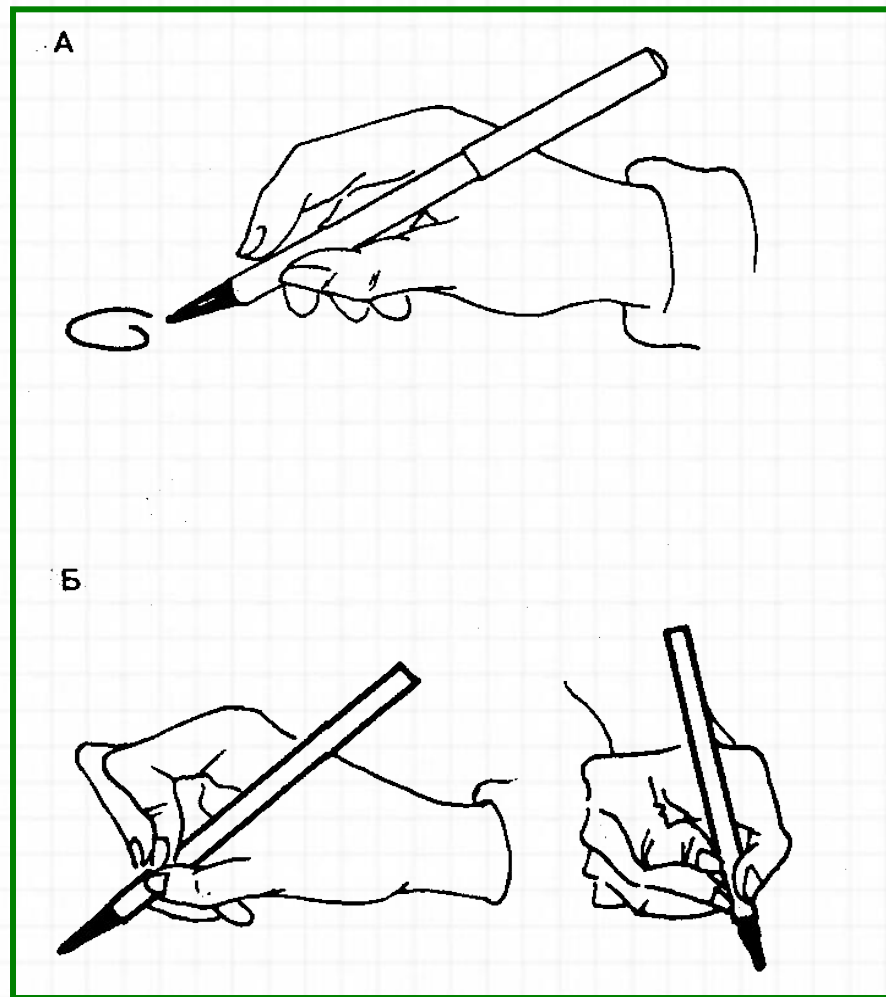

Встало солнышко давно,
Заглянуло к нам в окно.
На урок торопит нас,
Математика сейчас.



Правильно седи при писъме



Правильно держи ручку





Устный счёт

Назови предыдущие и последующие числа.



8 11 17 19

Определи количество десятков и единиц в числах.

Уменьши данные числа на 6.



14

12

18

16

8

6

12

10

Вставь пропущенные числа.



$$\square - 6 = 7$$

$$11 - \square = 6$$

$$8 + \square = 15$$

$$11 - \square + 2 = 10$$



6



7



8


$$15 - 8$$




15

16

14

$$7 + 7$$



11

12

13

$$6 + 5$$



$$9 + 3$$





15

16

14

$$8 + 6$$



8

7

9

$$17 - 9$$






7



8



9


$$16 - 8$$




3

4

5

$$14 - 9$$



12

13

14

$$7 + 5$$



11

13

12

$$6 + 6$$



6

7


8

$$13 - 7$$

Спасибо за помощь!



Именины у синицы.
Гости собрались.
Сосчитай -ка их скорей,
Да не ошибись.
Птичек дружная семья:
Три веселых воробья,
Три вороны, **три** сороки -
Черно - белых белобоки,
Три стрижа и дятлов **три**.
Сколько всех их? Назови!



15

Физкультминутка




Нажми на ссылку:

<https://youtu.be/FFFe3TlIMXg>

18 мая.

**Открой тетрадь,
запиши число.**



Реши задачу и запиши её в тетрадь.

После того, как Петя решил **7** примеров, ему осталось решить **9**. Сколько примеров нужно было решить Пете?



Краткая запись к этой задаче похожа с краткой записью № 3.

Образец:

Было- ? п.

Решил – 7 п.

Осталось -9 п.

(Подумай каким действием ты будешь решать эту задачу?)

Запиши решение и ответ.



Реши задачу и запиши её в тетрадь.

**В коробке 4 простых и 7 цветных
карандашей. Сколько карандашей в
коробке?**



Краткая запись №1.

Реши задачу и запиши её в тетрадь.

На одной ветке **8** снегирей, а на второй – на **4** больше. Сколько птиц на второй ветке?

Краткая запись № 5.

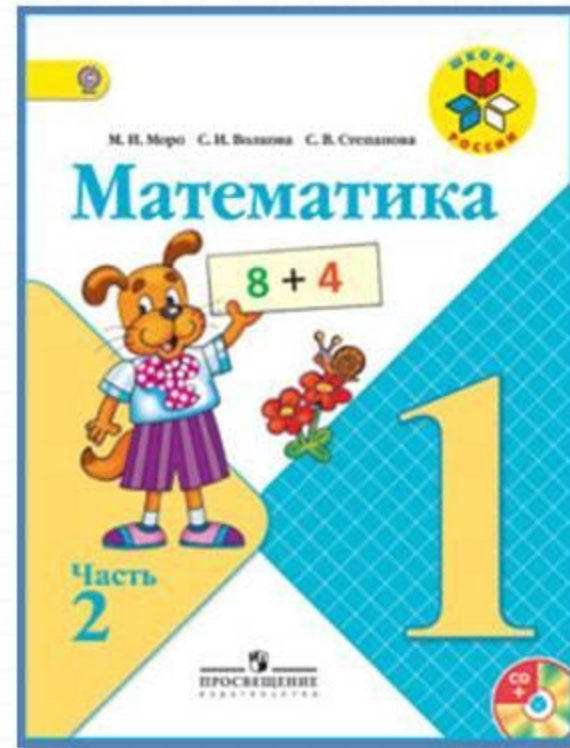



Физминутка для глаз





Работа по учебнику



стр.102

СКЛАДЫВАТЬ И ВЫЧИТАТЬ ЧИСЛА

1. Запиши ответы.

$6 + 2$

$8 + 2$

$4 + 4$

$1 + 7$

$3 + 6$

$7 + 2$

$7 + 3$

$5 + 4$

$2 + 8$

$4 + 5$

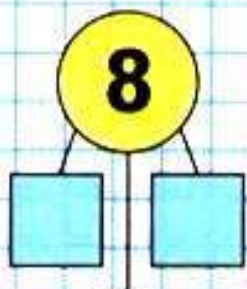
$8 + 2$

$6 + 4$

$6 + 4$

$3 + 7$

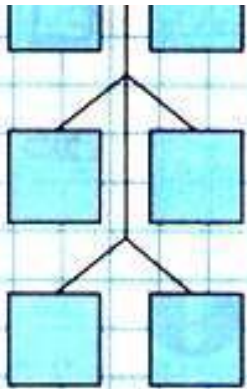
$1 + 8$



Проверь себя по таблице сложения на обороте обложки.

Реши № 1 – запиши в тетрадь только ответы.

Реши № 4,5 – запиши в тетрадь. (по заданию)



4. Составь и реши по два примера на вычитание числа 6; 7; 8; 5.
5. Составь по два примера на сложение и на вычитание с ответом 5; 8; 7; 6.
6. Реши примеры в два действия.

$$9 - 3 + 2$$

$$8 - 5 + 4$$

$$6 + 4 - 7$$

$$7 + 2 - 6$$

$$10 - 8 + 7$$

$$10 - 6 + 5$$

7. $8 + 2 + 3$

$$16 - 6 - 3$$

$$7 + 3 + 5$$


Оцени себя в тетради.



Закрепление изученного



Составьте задачи на + и – по картинке.(устно)



Рефлексия



Оцените свою работу на уроке
«!»- молодец, выполнил всё верно.
«+» – хорошо, ошибся совсем
немного.
«-» с заданием пока не справился.



Стойащая работа!



