




Периметр прямоугольника

Урок математики
во 2 классе



Реши круговые примеры



$$\triangle + 42 = \square$$

$$24 - 19 = \triangle$$

$$\star - 28 = \diamond$$

$$\square - 25 = \circ$$

$$\circ + 63 = \star$$

$$\diamond + 28 = ?$$

22



85




5






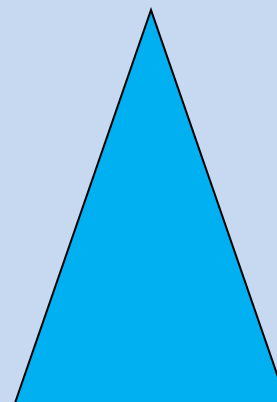


47



57



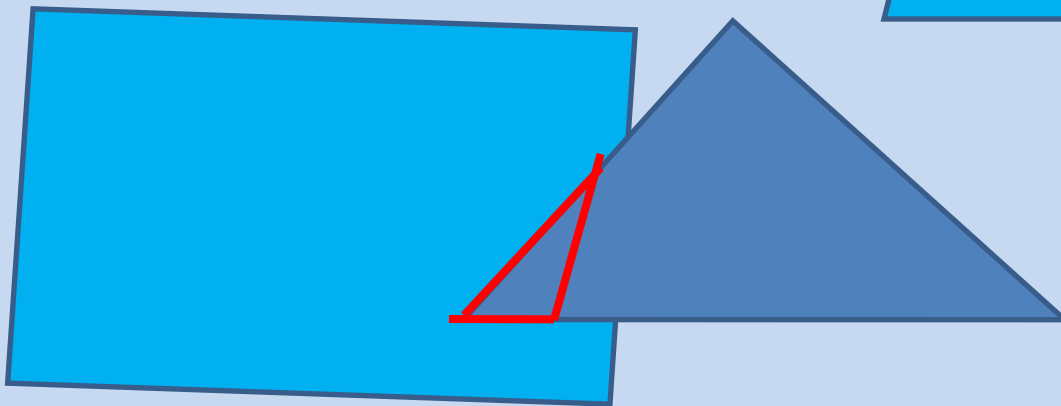
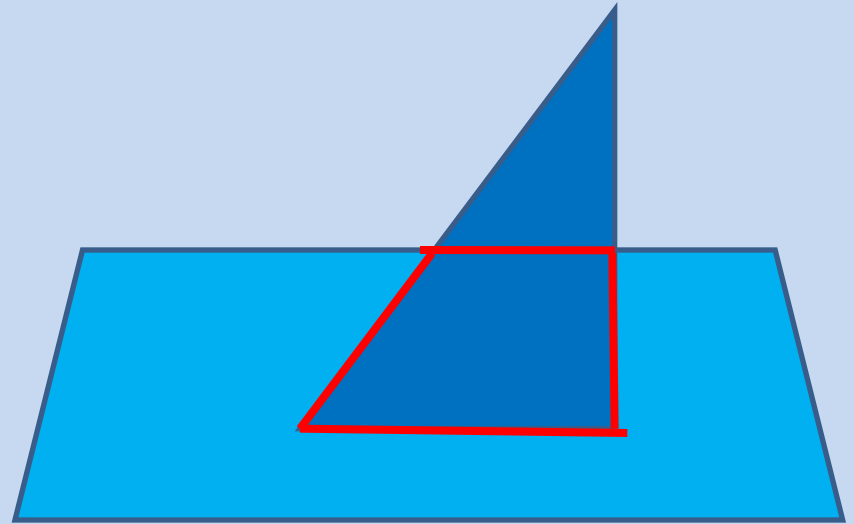
Назовите геометрические фигуры



Назовите общую часть фигур

Задание.

Сосчитайте сколько
здесь
треугольников?





4

Чему научимся на уроке?

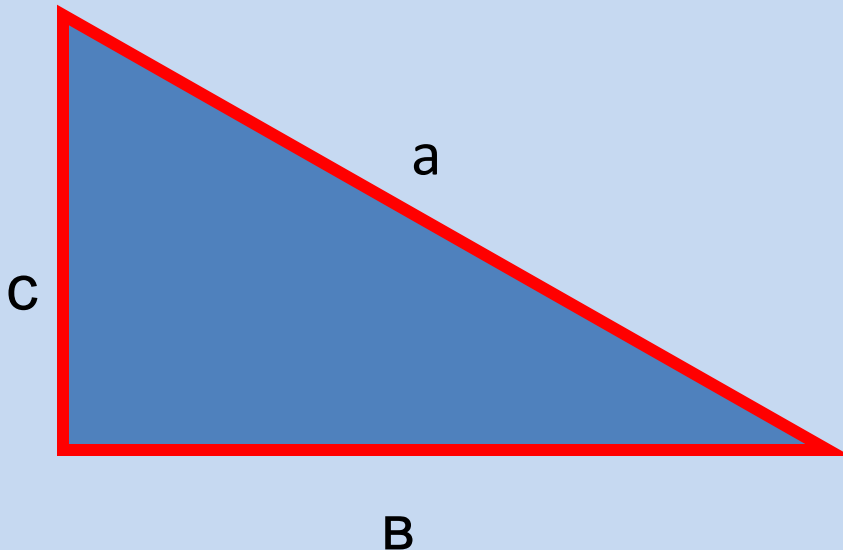


1. Узнаем, что такое периметр.
2. Научимся измерять периметр.
3. Познакомимся с формулой нахождения периметра прямоугольника.

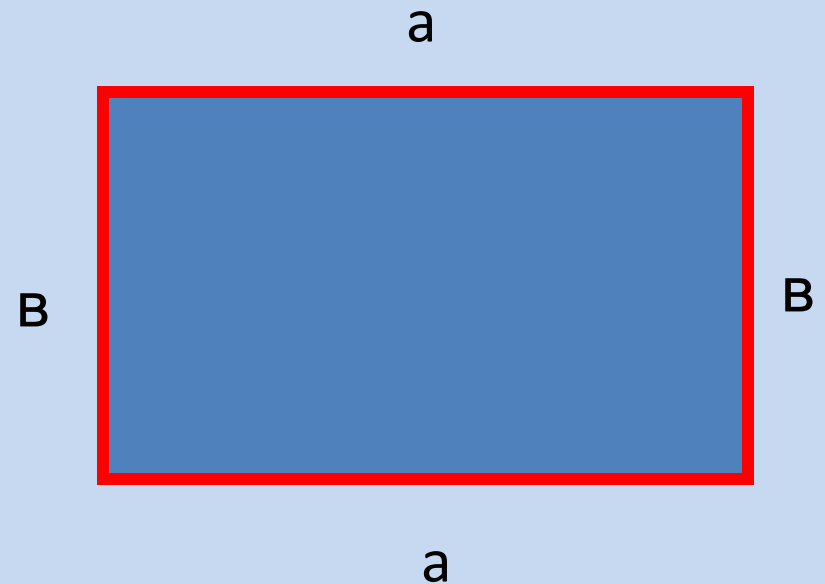


Что такое периметр?

Периметр – это сумма длин всех сторон




$$P = a + b + c$$

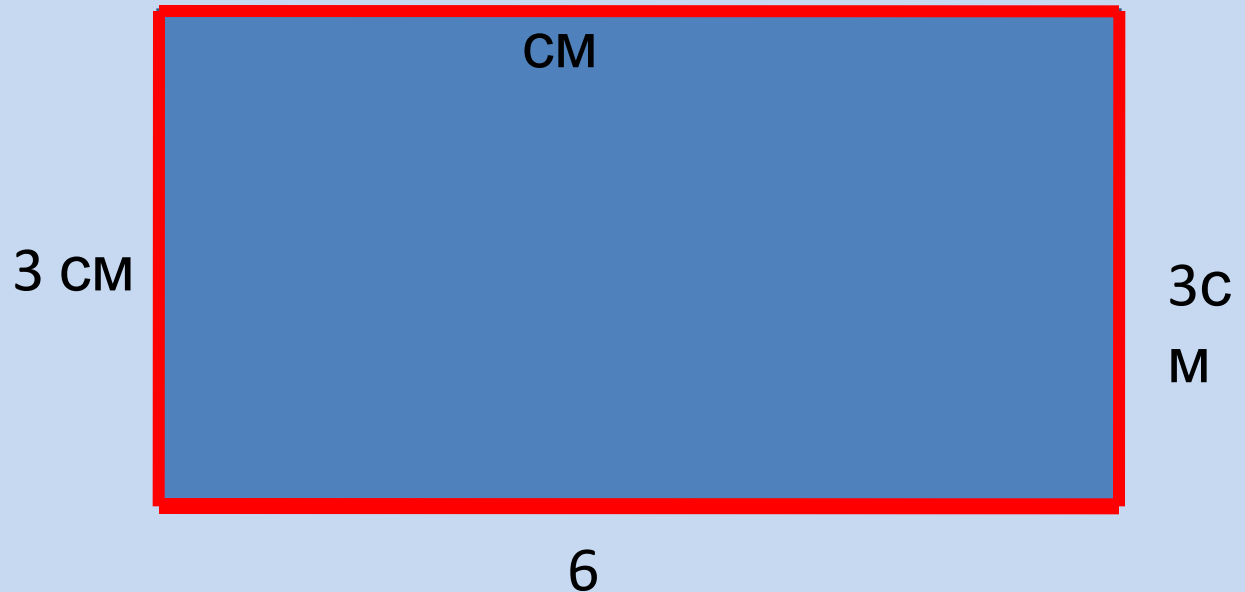


$$P = a + b + a + b$$

Как измерить периметр?



1. Начерти прямоугольник .
2. Измерь длины всех сторон по порядку.
3. Сложи длины всех сторон.



$$6 \text{ CM} + 3 \text{ CM} + 6 \text{ CM} + 3 \text{ CM} = 18 \text{ CM}$$

Формула нахождения периметра

Вопрос.

Как можно быстрее найти периметр
прямоугольника?



$$P = (a + b) \cdot 2$$

$a + b$

$a + b$

Реши задачу



Мама
32
года



Бабушка
на 3 года моложе дедушки
? лет



Дедушка
старше мамы на 30
лет
? лет

Проверь себя

1. Что нового узнали на уроке?
2. Что такое периметр?
3. Как найти периметр прямоугольника?
4. Назовите формулу периметра прямоугольника.
5. В каких жизненных ситуациях необходимо уметь

