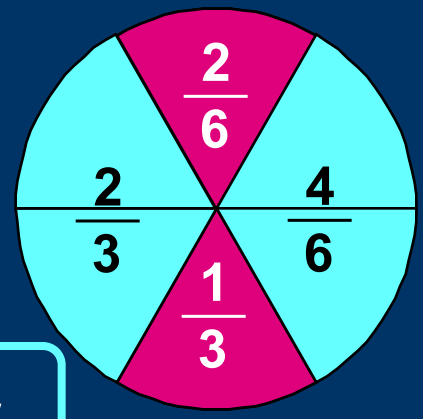
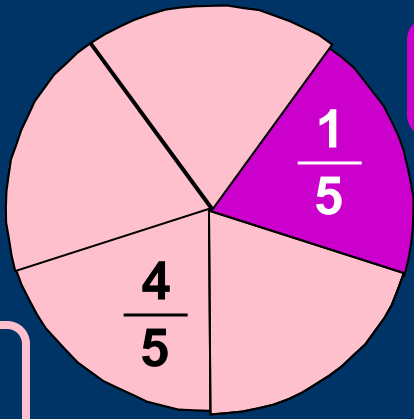


- малиновый



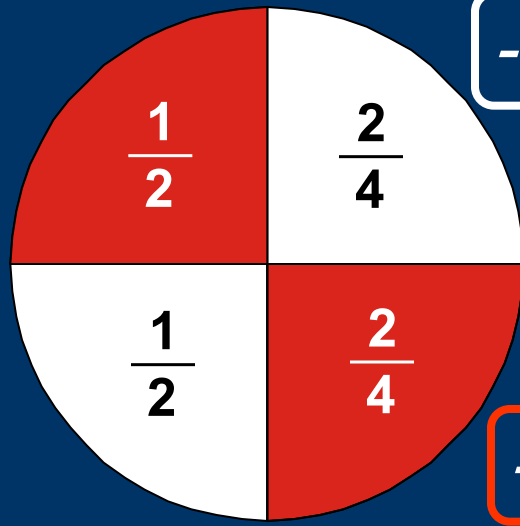
- сиреневый



розовый -

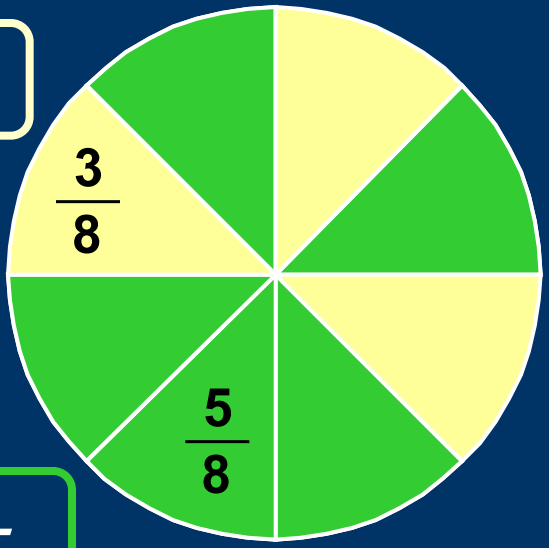
голубой -

- белый



- красный

желтый -



зеленый -

Математический

диктант "Флаги"

Тема: «Обыкновенные дроби»



Австрия



Украина



Бельгия



Маврикий



Россия



Индонезия

Каждый флаг разделен на несколько равных частей. Ответьте на вопросы:

1 Какая часть флага Австрии белая? $\frac{1}{3}$

2 Какая часть флага Украины голубая? $\frac{1}{2}$

3 Какая часть флага Бельгии черная? $\frac{1}{3}$

4 Какая часть флага Маврикия зеленая? $\frac{1}{4}$

5 На каких флагах красным цветом
) закрашены одинаковые части?

России, Бельгии - по $\frac{1}{3}$

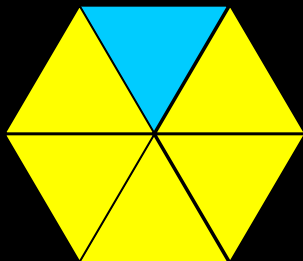
6 На каком флаге красным цветом
) закрашена наибольшая часть? А белым?

Австрии
Индонезии

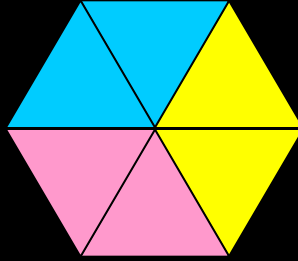
Какая часть фигуры закрашена:



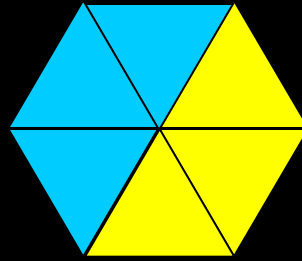
1



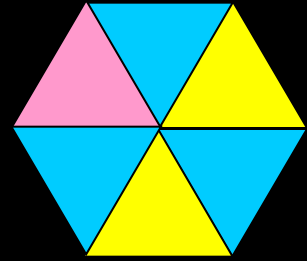
2



3



4



а) голубым —

$$\frac{1}{6}$$

$$\frac{2}{6} \quad \frac{1}{3}$$

$$\frac{3}{6} \quad \frac{1}{2}$$

$$\frac{3}{6} \quad \frac{1}{2}$$

б) желтым —

$$\frac{5}{6}$$

$$\frac{2}{6} \quad \frac{1}{3}$$

$$\frac{3}{6} \quad \frac{1}{2}$$

$$\frac{2}{6} \quad \frac{1}{2}$$

в) розовым —

$$\frac{2}{6} \quad \frac{1}{3}$$

$$\frac{1}{6}$$