

Урок игра

**ТЕМА : РЕШЕНИЕ ЗАДАЧ НА
НАХОЖДЕНИЕ ЧАСТИ ОТ
ЧИСЛА.**



Найти:

$\frac{3}{4}$ от 160

$\frac{2}{5}$ от 250

$\frac{1}{7}$ от 210

$\frac{4}{9}$ от 630

$\frac{5}{6}$ от 30

$\frac{2}{3}$ от 15



Сколько картофеля может быть в
одном мешке?

30 кг.

50 ц.

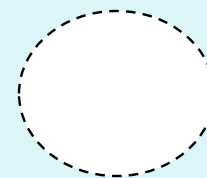
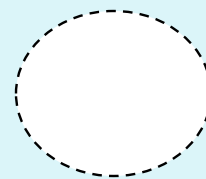

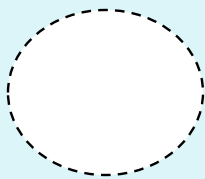
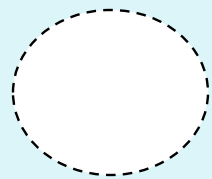
2 ц





Расстояние от
Казанска до
Сернура

Длина карандаша



Высота дерева

Длина муравья



Впиши в кружки все известные тебе меры длины, начиная с наименьшей.

Расстояние от
Казанска до
Сернура

Длина карандаша

мм.

см

дм.

м

км

Высота дерева

Длина муравья