

Ақтөбе облысы
Шалқар қаласы
№5 орта мектеп

Математика



Сабақтың тақырыбы: Қайталау
(Мектепалды даярлық тобы)

Өткізген: Сүйінова Сәния Серікбайқызы

Сабақтың тақырыбы: Қайталау

Сабақтың мақсаты: Балалардың ойлау қабілетін, есте сақтау дағдысын дамыту.

Білімділігі: Сандардың құрамына байланысты алған білімдерін бекітіп, білім және білік-дағдыларын қалыптастыру.

Дамытушылығы: Баланың тілін, ой- өрісін, логикалық ойлау қабілетін, өздігінен жұмыс істей білуге дағдыландыру.

Тәрбиелілігі: Көзімен көргенін есіне ұстап сақтауға, шығармашылық еңбек ете білуге, алғырлыққа, тапқырлыққа, ұйымшылдыққа тәрбиелеу.


Сабақтың типі: қайталау

Сабақтың түрі: дәстүрлі

Сабақтың әдіс- тәсілі: көрнекілік, сұрақ-сауап

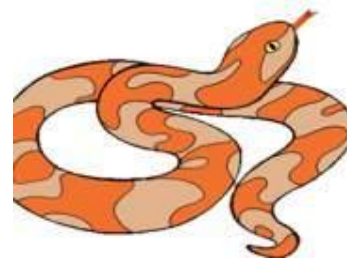

Сабақтың көрнекілігі: интерактивті тақтада жасалған тапсырмалар

Сабақ барысы: I. Ұйымдастыру



*Қол алысып қане біз,
Достасайық бәріміз.
Қайырлы күн жер Ана!
Қайырлы күн достарым
Сіздерді көргеніме
қуаныштымын.*

Жыл
басына
таласқан
хайуанатта
р





Тура және кері санау

| | | | | | | | | | | |
|----|---|---|---|---|---|---|---|---|---|----|
| 0 | 1 | 2 | 3 | 4 | 5 | 6 | 7 | 8 | 9 | 10 |
| 10 | 9 | 8 | 7 | 6 | 5 | 4 | 3 | 2 | 1 | 0 |





Көршісін тап

| | | |
|--|---|--|
| | 3 | |
|--|---|--|

| | | |
|--|---|--|
| | 5 | |
|--|---|--|

| | | |
|--|---|--|
| | 2 | |
|--|---|--|

| | | |
|---|--|---|
| 4 | | 6 |
|---|--|---|

| | | |
|---|--|---|
| 3 | | 5 |
|---|--|---|

| | | |
|---|--|---|
| 9 | | 1 |
|---|--|---|

| | | |
|--|---|--|
| | 6 | |
|--|---|--|

| | | |
|---|--|---|
| 7 | | 9 |
|---|--|---|

| | | |
|--|---|--|
| | 8 | |
|--|---|--|

Тексер

| | | |
|---|---|---|
| 2 | 3 | 4 |
|---|---|---|

| | | |
|---|---|---|
| 4 | 5 | 6 |
|---|---|---|

| | | |
|---|---|---|
| 1 | 2 | 3 |
|---|---|---|

| | | |
|---|---|---|
| 4 | 5 | 6 |
|---|---|---|

| | | |
|---|---|---|
| 3 | 4 | 5 |
|---|---|---|

| | | |
|---|---|---|
| 9 | 1 | 1 |
| | 0 | 1 |


| | | |
|---|---|---|
| 5 | 6 | 7 |
|---|---|---|

| | | |
|---|---|---|
| 7 | 8 | 9 |
|---|---|---|


| | | |
|---|---|---|
| 7 | 8 | 9 |
|---|---|---|



Бос орынға тиісті пішінді сал

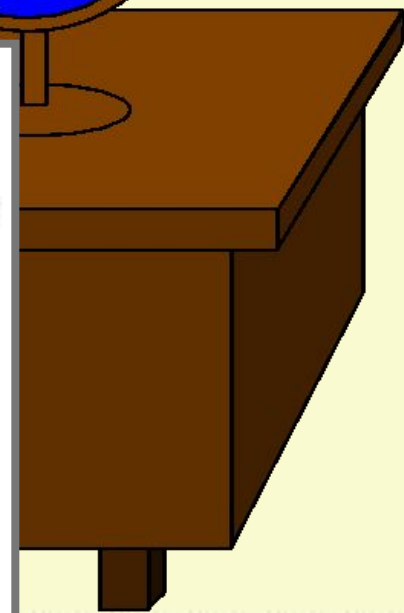


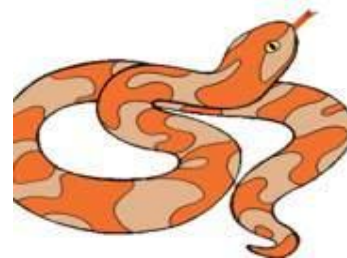
Тексер



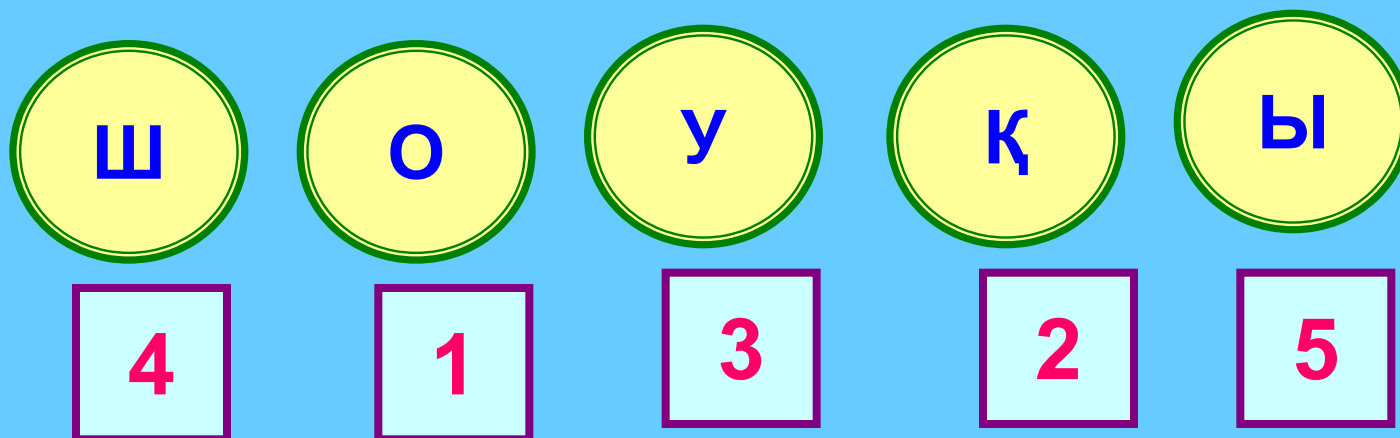
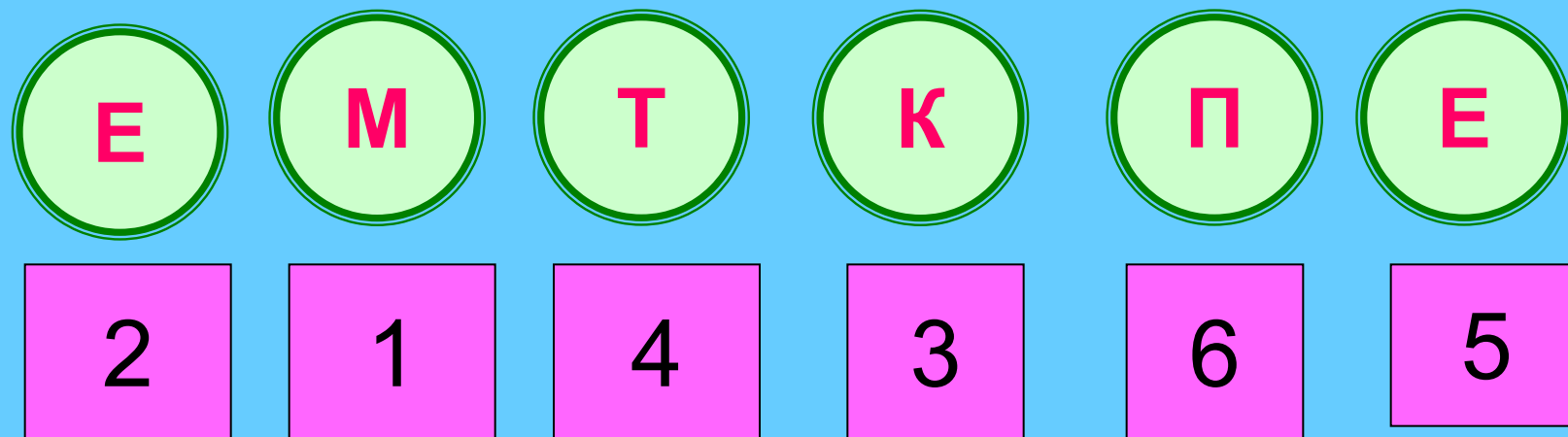


Не өзгөрдү?





АНАГРАММА



Сергіту сәті

1,2,3

Қарлығаш боп ұш,

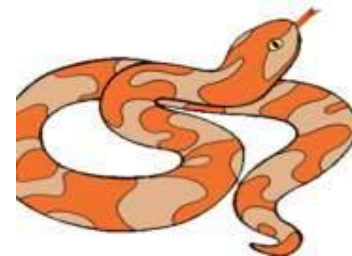
4,5,6

Қарлығаш боп шалқы.

7,8,9,10





Қарлығаш боп қон.

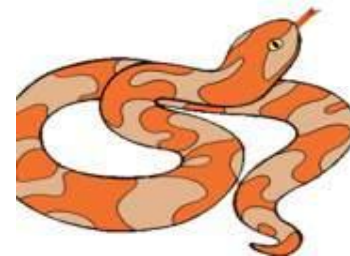




Жыл
басына
таласқан
хайуанаттар

Салыстыр





Әр суретті сана және тиісті цифрларды шеңбер ішіне жаз.



5


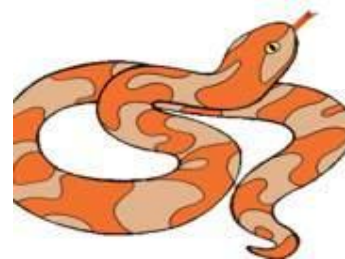


7



4

**Жыл
басына
таласқан
хайуанаттар**



Ребус шеш

6 Н

Т
10

К 3

С
10
А

100 ИМ



Ребус шеш

АЛТ
ЫН

ТО
Н


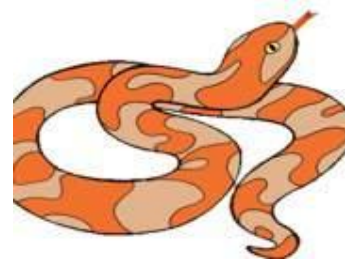
КҮ
Ш

СО
НА

ЖҮЗІМ




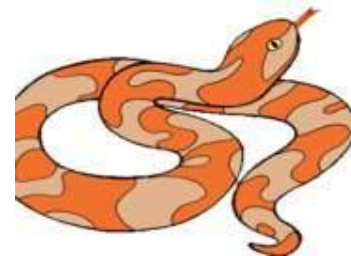
**Жыл
басына
таласқан
хайуанаттар**



Сандардың ретімен мақалды оқы



**Жыл
мезгілде
рі**



**5 бұтақты қайыңда
Бұтақ сайын 5 алма.
1-еуін бер Сайынға,
Сонда қалмақ неше алма?**

(Қайыңда алма өспейді)

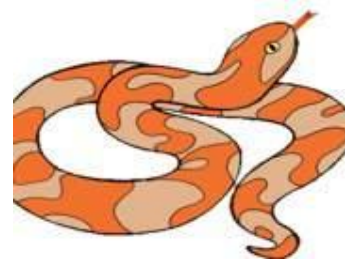




**Әтеш алдымен 5, сосын
тағы 1 жұмыртқа салды.
Барлығы неше жұмыртқа
салды?**

(әтеш жұмыртқа салмайды)



**Жыл
басына
таласқан
хайуанатта
р**



Есептер шығару

$4 + 2 = \square$

$1 + 9 = \square$

$7 - 2 = \square$

$6 + 2 = \square$

$8 + 2 = \square$

$5 - 2 = \square$

$6 - 3 = \square$

$4 + 4 = \square$



Есептер шығару

$$4 + 2 = 6$$

$$1 + 9 = 10$$

$$7 - 2 = 5$$

$$6 + 2 = 8$$

$$8 + 2 = 10$$

$$5 - 2 = 3$$

$$6 - 3 = 3$$

$$4 + 4 = 8$$



Жыл
басына
таласқан
хайуанатта
р

