

Күн шуағы

Қайырлы күн, достар!
Бүгінгі күн, міне,
Сәттілікке толсын!
Біздің алар бағамыз
Кілең бестіктер болсын!!!





Мақсаты:

- 1) Оқушылардың қосу және азайту туралы алған білімдерін қалыптастырып, дамыту.***
- 2) Өз беттерімен жұмыс істеу қабілеттерін арттыру.***
- 3) Оқушылардың ойлау қабілетін, зейінін дамыту.***





**Бір, екі, үш,
Отырамыз тып –
тыныш .**

**Жалқаулықты
тастаймыз,
Сабақты біз
бастаймыз.**







"Еліңнің ұлы болсаң,
еліңе жаның ашыса,
азаматтық намысың болса,
қазақтың ұлттық
жалғыз мемлекетінің
нығайып-көркеюі жолында
жан теріңді сығып
жүріп еңбек ет.

Жердің де, елдің иесі өзің
екеніңді ұмытпа!"

Қазақстан Республикасының Президенті Н.Ә.Назарбаевтың

Қазақстан халқына Жолдауы

$29+17$

46

$48+11$

59

$35+27$

62

$900-100$

800

$700-500$

200

$800-400$

400

Қызығушылықты ояту

$600-200$

400

$45+14$

59

$68+30$

98


$67+30$

97

$37+21$

58

Қайталау – білім анасы


$$\begin{array}{ccc} & \boxed{+} & \\ \text{31+19} & \longrightarrow & \text{40-23} \end{array}$$

$$(31+19) + (40-23) = 67$$



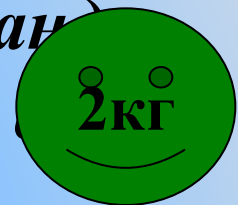
$$\begin{array}{ccc} & \boxed{-} & \\ \text{90-10} & \longrightarrow & \text{30+12} \end{array}$$

$$(90-10) - (30+12) = 38$$



Логикалық есептер

- Шөпте қояндар тығылып отыр, тек 10 құлақ гана көрініп тұр. Қанша қоян тығылып отыр?
- Таразы табақшасына 2 аяғымен тұрғанда тырна 2 кг болды. Бір аяғымен тұрса, оның массасы қандай болады?
- Ауылда 4 күн 4 түн боран соқты. Неше күн боран соқты?
- Бір адам қалаға бара жатыр еді, жолда оған танысы қарсы келді. Қанша адам қалаға бара жатыр?
- Мараттың кілең 1 теңгеліктен тұратын барлығы 100 теңге ақшасы бар еді. Құрал – жабдық сатып алған ол дүкенге 97 теңге тиіс еді. Қалай тез есептеп беруге болады?



Салыстыр

7 тәул 14 сағат

>

6 тәул 24 сағат

5 тәул 16 сағат

<

5тәул 20 сағат

5 онд 6 бірл

=

56

10 онд

=

100





Әдемі жазуды жақсы көреміз. Жаттығуды жасайық!



"Математикалық диктант"

10 және 60 сандарының

қосындысына 8-ді қос.

$$10 + 60 + 8$$

70-ке 12 мен 6

сандарының айырмасын

$$70 + (12 - 6)$$

қосу

65 пен 5 сандарының

айырмасынан 30-ды

$$(65 - 5) - 30$$

кеміт.

$$90 + (11 - 9)$$

90-ға 11 мен 9-дың

айырмасын қос.

Математика 2- сынып

Ойын – тренажёр

Африка



Қызыл кітап

Жануарлар мен өсімдіктердің қай түрлеріне қауіп төнгені туралы **ақпарат береді.**

Жануарлар мен өсімдіктердің сирек түрлерімен **танысуға шақырады.**



Жануарлар мен өсімдіктерге қауіп төнгенін **ескертеді.**

Жануарлар мен өсімдіктердің сирек түрлерін сақтауға **кеңес береді.**





1. Кему ретінде көрсетілген сандар:

а) 98,72,83,11,24.

ә) 11, 24, 72, 83, 98

б) 98, 83, 72, 24, 11

2. Дұрыс жауабын көрсет: $(40+7)+3$

а) 47

ә) 50

б) 44

3. 45 пен 5-тің айырмасына 32-ні қосу:

а) 82

ә) 72

б) 8

4. Бір баланың дене салмағы 36 кг, ал екіншісінің 27 кг. Екінші баланаң дене салмағы біріншісінен неше кг жеңіл?

а) 9 кг

ә) 11 кг

б) 63 кг



Дұрыс жауаптары:

- 1 - б) 98, 83, 72, 24, 11
- 2. - ә) 50
- 3. - а) 82
- 4. а) 9 кг





Бағалау.

***Үй тапсырмасы:
№7,***



Назарларыңызға рахмет!



Баға ағашы

