

14 МАЯ. МАТЕМАТИКА.



14 мая.

4 4 4 4 4 ...

Запиши дату и минутку чистописания.



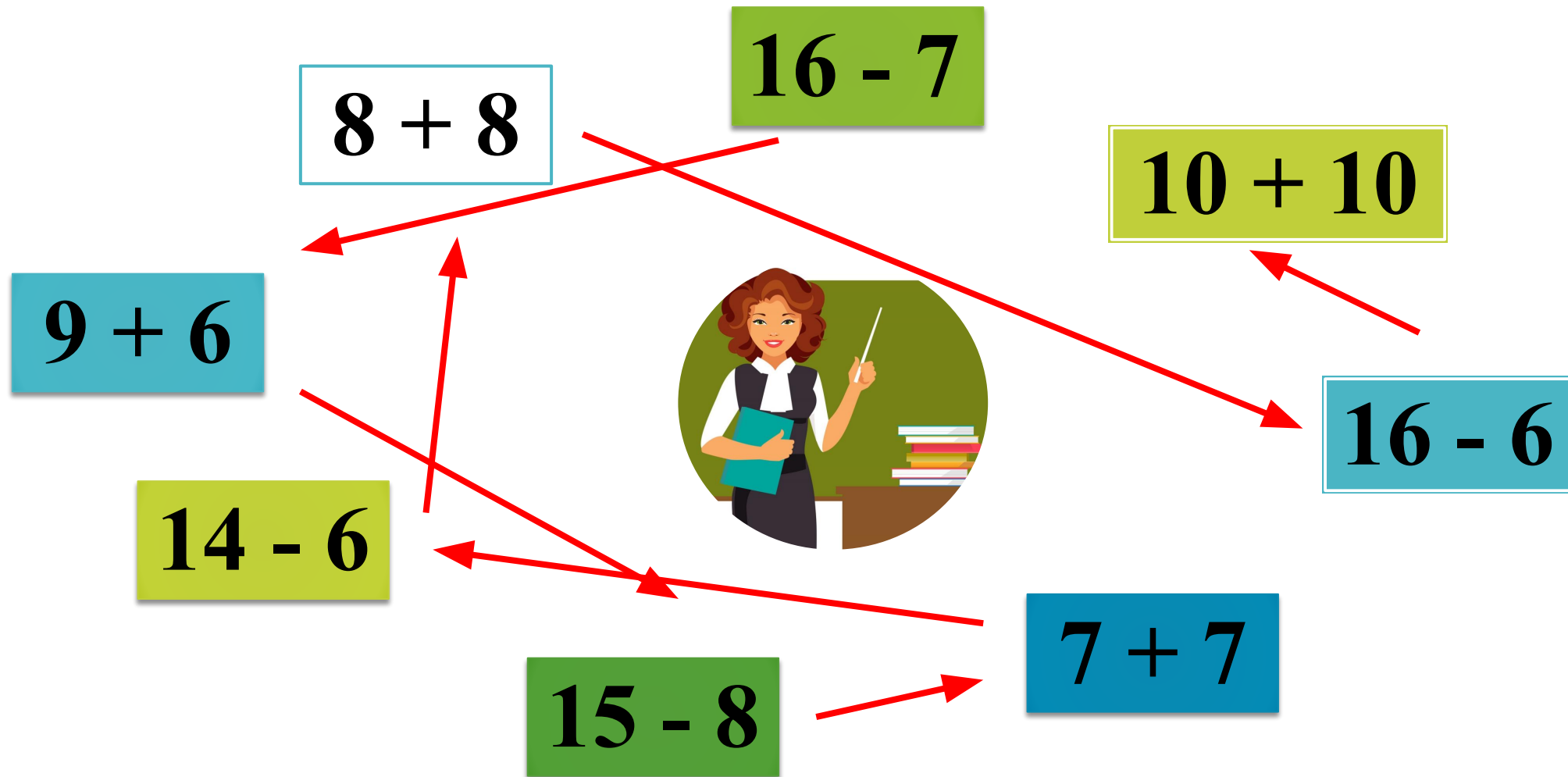
Устный счёт.

Расставь числа в порядке возрастания.


13, 20, 4, 2, 18, 11, 8, 3, 19, 15, 7.

2 3 4 7 8 1 13 15 18 19 20
1

Ответ каждого примера является началом другого примера.



ТЕМА УРОКА: Вычитание вида $17 - \square$,
 $18 - \square$.



ЦЕЛЬ УРОКА: научиться вычитать
из 17 и 18 однозначные числа.

Работа по теме урока.
Запиши выражения и найди их значения.

$$17 - 8 = 9$$

$$17 - 9 = 8$$


$$18 - 9 = 9$$

Вычисли и запомни.

$$17 - 8$$

$$17 - 9$$

$$18 - 9$$



I способ

Реши задачу 2 на с.88.

2. Составь по краткой записи задачу и реши её.



Было — 5 кн. и 9 кн.
Взяли — 4 кн.
Осталось — ?

1) $5 + 9 = 14$ (кн.) - было.

ПИСЬМЕННО

2) $14 - 4 = 10$ (кн.) - осталось.

Ответ: 10 книг.

II способ

Реши задачу 2 на с.88.

2. Составь по краткой записи задачу и реши её.



Было — 5 кн. и 9 кн.
Взяли — 4 кн.
Осталось — ?

1) $5 - 4 = 1$ (кн.) - было.

2) $9 + 1 = 10$ (кн.) - осталось.

УСТНО

Ответ: 10 книг.

III способ **Реши задачу 2 на с.88.**

2. Составь по краткой записи задачу и реши её.



Было — 5 кн. и 9 кн.
Взяли — 4 кн.
Осталось — ?

1) $9 - 4 = 5$ (кн.) - было.

УСТНО

2) $5 + 5 = 10$ (кн.) - осталось.

Ответ: 10 книг.

Самостоятельная работа.

Запишите решение и ответ задачи 3.

3. На первой полке было 10 книг, а на второй — 8. На сколько больше книг было на первой полке?

Проверка

$$10 - 8 = 2 \text{ (кн.)}$$

Ответ: на 2 кн. Больше.


Развивающие задания.

Вставь пропущенные числа (устно).

5.

| | | | | | | | | | |
|-----------|----|----|----|----|----|----|----|----|----|
| Слагаемое | 9 | 9 | 9 | 6 | 8 | 9 | 6 | 3 | 8 |
| Слагаемое | 3 | 5 | 6 | 7 | 6 | 7 | 7 | 9 | 8 |
| Сумма | 12 | 14 | 15 | 13 | 14 | 16 | 13 | 12 | 16 |

Переложити одну спичку,
щоб приклад став правильним.



Переложити одну спичку,
щоб приклад став правильним.

$$9 + 3 = 9$$



$$6 + 2 + 1 = 9$$

$$10 - 3 - 4 = 3$$

$$5 + 4 - 2 = 7$$

$$6 + 3 - 4 = 5$$

За оградой у дяди Гриши только гуси и коты.
Всего у них 5 голов и 14 ног.



Сколько у дяди Гриши гусей?

Рекомендации:
наизусть 3 примера,
задача 4 на с. 88 (с краткой записью).

$$16 - 7$$

$$16 - 8$$

$$16 - 9$$

- 4.** За зиму Боря прочитал 8 книг, а Дима — на 5 книг больше. Сколько книг прочитал Дима за эту зиму?