

**Образование чисел из
одного десятка и
нескольких единиц
стр. 50**

Урок № 96



*Школа России
Математика 1 класс*





Устный счёт



12

10

14

16

-

+

1

1

2

3

4

Выберите примеры с ответом **12**.



$$10+2$$

$$9+3$$

$$16-4$$

Назови пропущенные числа.



12 **13** 14 15 16

18 17 **16** 15 14

12 14 **16** 18 20

Назови последующие числа.



13

16

19

11



15



6 ворон **5** воробьёв
У крыльца сидели.
Маша крошек принесла,
Ещё **3** галки прилетели.
Сколько стало птиц?

14 ПТИЦ

$$6 + 5 + 3 = 14$$




На столе лежало **5** красных и **6** зелёных яблок. Взяли **3** яблока. Сколько яблок осталось на столе?



8 яблок

$$5 + 6 - 3 = 8$$



Масса арбуза **7** кг, а масса дыни **3** кг. На сколько кг тяжелее арбуз, чем дыня?




на 4 кг


$$7 - 3 = 4$$



Новый материал




14






$$10 + 4 = 14$$

1 десяток и 4 единицы



14



1 десяток

4 единицы

Назови количество единиц и десятков.



18

12

15

14

17

19

20

**Чему будем
учиться на уроке?**

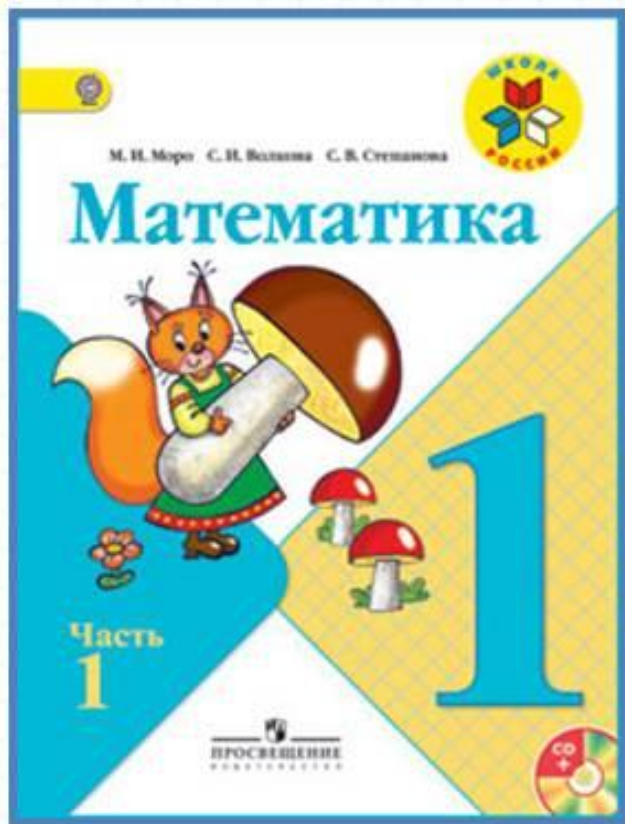
Физкультминут

ка

По дорожке, по дорожке
Скачем мы на правой ножке.
И по этой же дорожке
Скачем мы на левой ножке.
Доскакали до лужайки
И попрыгали как зайки.
Мы все дружно отдохнём
И опять считать пойдём!



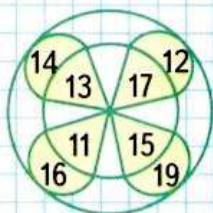
Работа по учебнику



стр. 50



КАКОЕ
ИЗ ЧИСЕЛ
ОТ 11 ДО 19
ПРОПУЩЕНО?



Будем учиться записывать числа от 11 до 20.

Десятки	Единицы
1	2

Двенадцать.

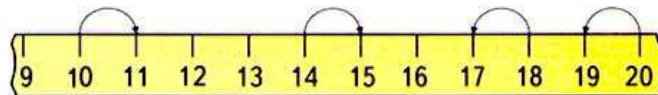
Десятки	Единицы
2	0

Двадцать.

Что обозначает каждая цифра на карточках?

1. Покажи тринадцать палочек. Сколько это десятков и сколько ещё отдельных палочек?
2. Что обозначает каждая цифра в записи чисел: 15, 13, 18, 11? Сколько в каждом из этих чисел десятков и отдельных единиц?

3.

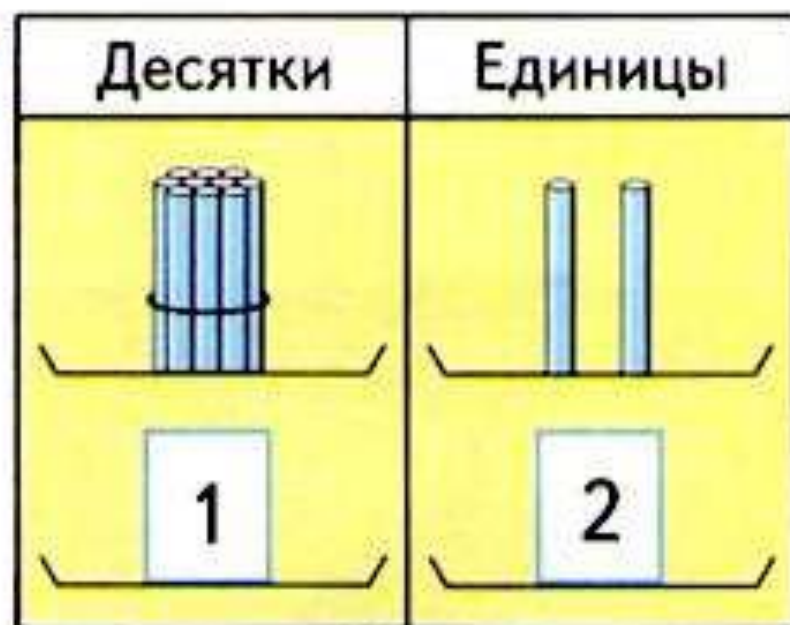


$$10 + 1 \quad 14 + 1 \quad 18 - 1 \quad 20 - 1$$

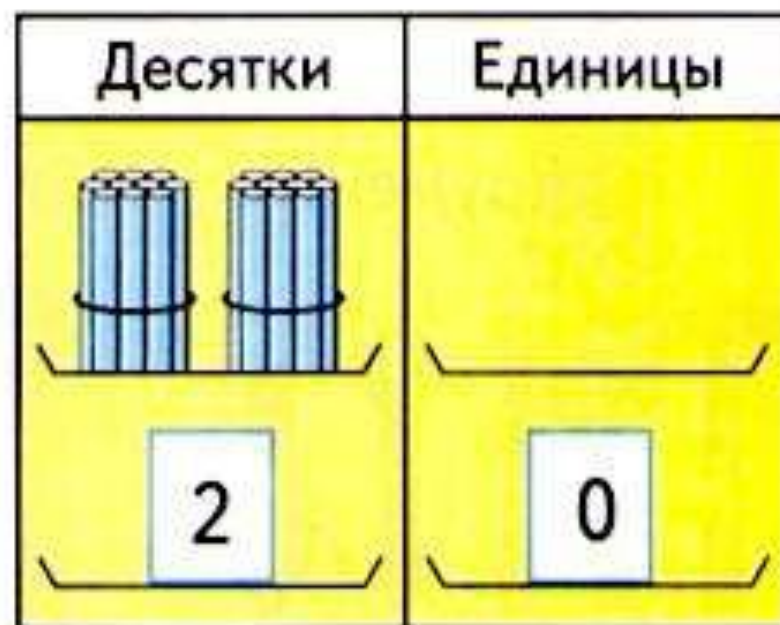
4. Запиши числа в порядке их увеличения:
17, 10, 5, 15, 2, 20, 1.
5. У куклы Даши 3 платья, а у куклы Веры на 3 платья больше. Сколько платьев у куклы Веры? Сколько всего платьев ... ?
6. $8 - 6$ $1 + 6$ $6 - 5 + 1$ $10 - 7 - 3$
 $8 - 5$ $6 + 1$ $6 + 1 - 5$ $10 - 7 + 3$
 $8 - 4$ $6 + 0$ $6 - 6 + 1$ $10 - 3 - 3$

«Проверочные работы», с. 36, 37.

Будем учиться записывать числа от 11 до 20.



Двенадцать.



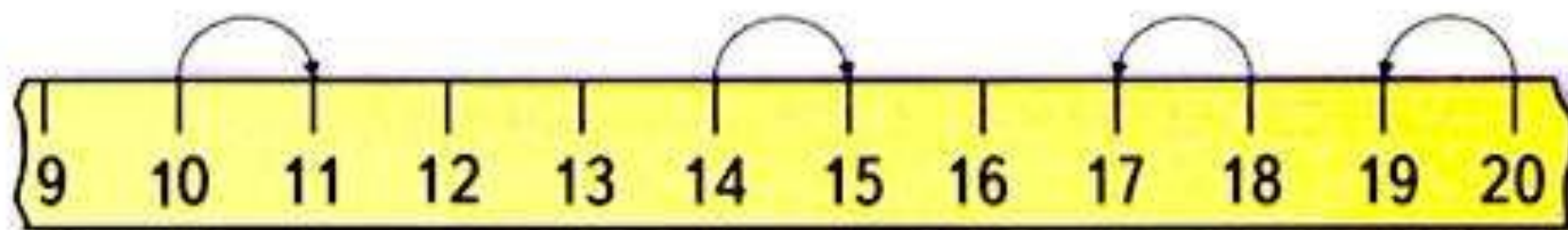
Двадцать.

Что обозначает каждая цифра на карточках?

1. Покажи тринадцать палочек. Сколько это десятков и сколько ещё отдельных палочек?

2. Что обозначает каждая цифра в записи чисел: 15, 13, 18, 11? Сколько в каждом из этих чисел десятков и отдельных единиц?

3.



$$10 + 1$$

$$14 + 1$$

$$18 - 1$$

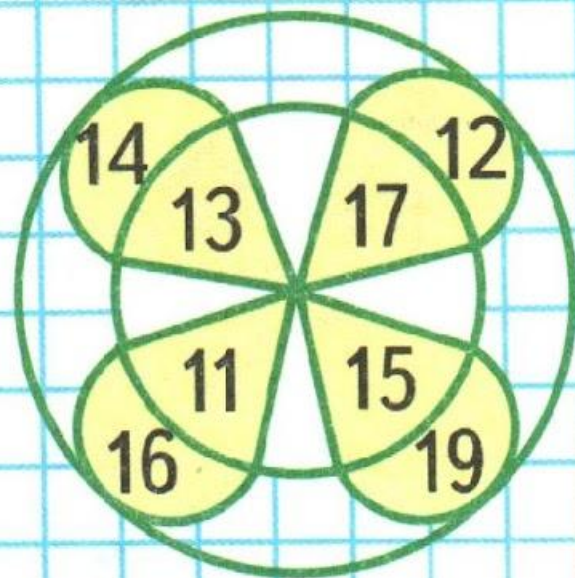
$$20 - 1$$

4. Запиши числа в порядке их увеличения:

17, 10, 5, 15, 2, 20, 1.

5. У куклы Даши 3 платья, а у куклы Веры на 3 платья больше. Сколько платьев у куклы Веры? Сколько всего платьев ... ?

**КАКОЕ
ИЗ ЧИСЕЛ
ОТ 11 ДО 19
ПРОПУЩЕНО?**



Работа в тетради

стр. 24



- 1 На стоянке было 10 машин. Две машины уехали. Сколько ... ?

Ответ:

- 2 Соединяй числа в порядке их увеличения:



3

9	
8	<input type="text"/>
<input type="text"/>	6
7	<input type="text"/>
<input type="text"/>	5

$9 - 8 =$	<input type="text"/>
$9 - 6 =$	<input type="text"/>
$9 - 7 =$	<input type="text"/>
$9 - 5 =$	<input type="text"/>


8	
1	<input type="text"/>
2	<input type="text"/>
3	<input type="text"/>

$8 - 5 =$	<input type="text"/>
$8 - 6 =$	<input type="text"/>
$8 - 7 =$	<input type="text"/>

- 1 Было 8 голубей. Улетели 3 голубя. Сколько голубей осталось?

Ответ:

2



3

$4 + 4 - 2 =$	<input type="text"/>	$10 - 7 - 3 =$	<input type="text"/>
$2 + 6 - 5 =$	<input type="text"/>	$10 - 8 + 0 =$	<input type="text"/>

Задания на смекалку



Не вычисляя, скажите, в какой строке сумма чисел больше и на сколько.



2 5 3


3 4 5

на 2

Каждый раз, когда кошка поднимается по столбу **на 2** деления, мышка поднимается на **1** деление.




Если мышка поднимается на вершину столба раньше кошки, то кошка её не догонит. Поймает ли кошка мышку?



не поймает



2 мороженых стоят **6** рублей. Сколько мороженых можно купить на эти деньги, если цена на **1** мороженое снизится на **1** рубль.



3

6 рублей

Рефлексия

Кто понял новую тему?
Кому нужна помощь?
Оцените свою работу на уроке с помощью «Светофора».

Оцените себя

Зелёный цвет- всё понял, могу идти дальше.

Жёлтый цвет- ещё ошибаюсь.

Красный цвет- стоп! Мне нужна помощь!



