



Предмет: математика


Клас: 5

Тема: Порівняння десяткових дробів


Вчитель: Задорожнюк С.І.

Школа : Павлівська загальноосвітня

I-III ступенів



Що там цікавого?  
Я залишусь  
вдома,  
посплю!




Привіт! Ми  
вирушаємо у  
подорож по країні  
ДРОБИ. Ти з нами?

# Прочитайте ці числа, щоб пройти до міста




1,2; 5,7; 0,14; 0,06; 2,014; 1,02; 0,052;  
10,02; 154,235; 45,1402; 9,012; 0,36





$$\frac{14}{10} = 1 \frac{4}{10} = 1 \frac{2}{5}$$

Ми зараз нам ідемо! Назвіть  
Перетворіть непростий звичайний  
серед дробів то не правильний  
дріб у десятковий за допомогою  
дріб, який має чисельник 14 і ...  
хмара, кинь



$$\frac{14}{15}; \frac{14}{10}; \frac{12}{5};$$



# Напишіть назви кожного розряду числа

**143,052**

0	ДЕСЯТІ
1	СОТНІ
2	ТИСЯЧНІ
3	ОДИНИЦІ
4	ДЕСЯТКИ
5	СОТІ

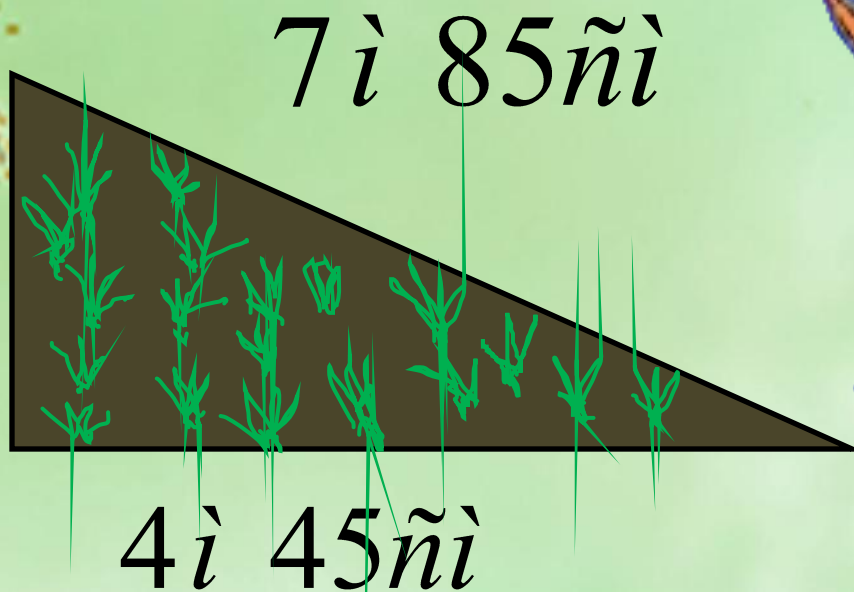


У нас з'явився новий  
друг! Чудово!

Кролик вирощує на городі улюблену моркву. Дізнайтесь, чи вистачить йому 12 метрів паркану для огорожі?



2 і 65 нї



4 і 45 нї

$$13 \text{ і } 195 \text{ нї} = 14 \text{ і } 95 \text{ нї}$$






35,9 0000

64,0000



Працюйте разом

Десятиформі числа порівнюються 'бродяв рядно і стабто цілі' розділморяде стабіт оздієся цілима, ддесятої зми. десятими, соті - з сотими. Поясніть на прикладі, як це робиться



2,56  
125,6  
25,6  
256  
0,256  
4,56

5,6  
5,16  
5,62  
5,63  
5,06  
5,60  
5,634



**Працюйте разом:**  
розставте числа у порядку зростання





Песик плаче, бо не може впорядкувати  
числа.

Допоможіть розставити їх в порядку  
зростання

25,6   25,16   25,62   125,6   256   2,56

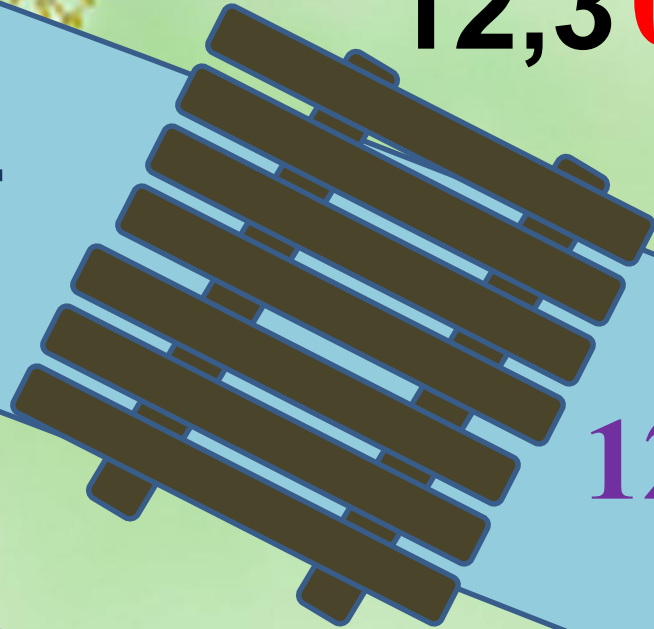


Щоб встигнути перейти на інший берег,  
швидко підбери дроби, які  
задовольняють нерівність

12,36

12,04

$12,30 < a < 12,50$



12,4

12,2

12,42



Працюйте разом

Подорож містом закінчилась. Але джину потрібна наша допомога.



Підберіть такі цифри, щоб нерівності були вірними:

$$2,45 < 2,4\_ < 2,49$$

$$7,3 < 7,3\_ < 7,4$$





# Перевір:

$$2,45 < 2,46 < 2,49$$

$$2,45 < 2,47 < 2,49$$

$$2,45 < 2,48 < 2,49$$

$$7,3 < 7,31 < 7,4$$

$$7,3 < 7,32 < 7,4$$

$$7,3 < 7,33 < 7,4$$


$$7,3 < 7,34 < 7,4$$

$$7,3 < 7,35 < 7,4$$



Б Д

# Рухаємось під чудову мелодію



**Після розминки можна  
попрацювати.  
Завдання**



**Працюйте разом**





**Подорож була  
цікава? Які пригоди  
вам запам'ятались?**



**Відповідайте**



**Пропоную ще два  
смайлика за виконане  
завдання. Працюйте  
парами за комп'ютерами**

