



Вивчаємо арифметичні дії додавання і віднімання

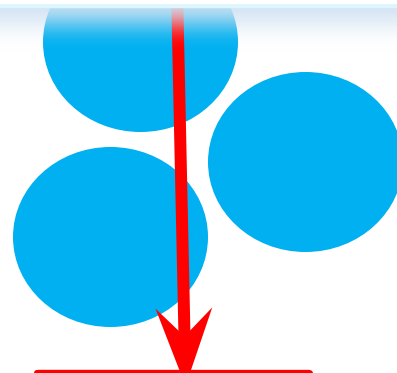
ВИДАВНИЦТВО
РАНОК



Об'єднай всі фігурки. Що вийшло в тебе? Назвіть одержану множину.



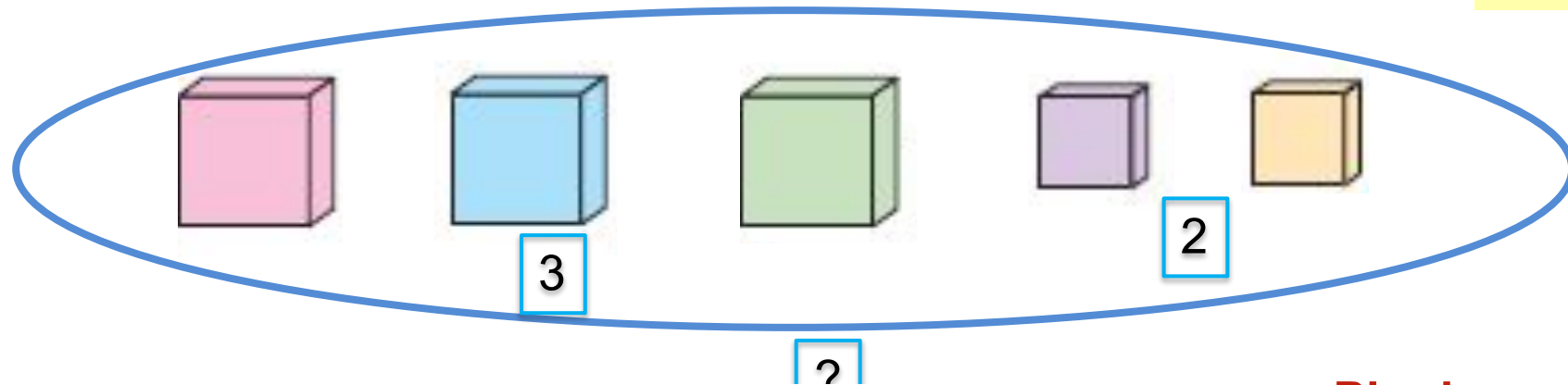
Об'єднати — додати.



усього $4 + 3 = 7$ кружків

ВІВРАСТЬ

Скільки великих кубиків? Скільки маленьких?



Скільки всього?

Об'єднати

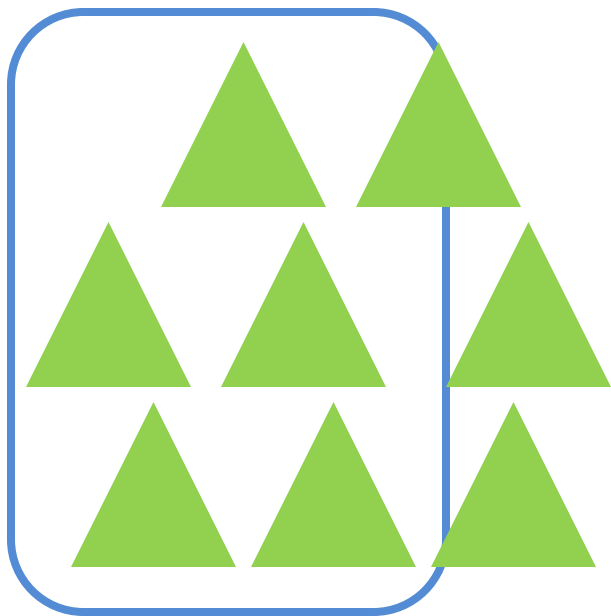
Об'єднати — додати. 3 і 2 буде 5.
Усього 5 кубиків. До 3 додати 2 буде 5.

Рівність

$$3 + 2 = 5$$

Вираз

Що за дією отримали трикутники? Вилучить 3.
Скільки трикутників залишилось?

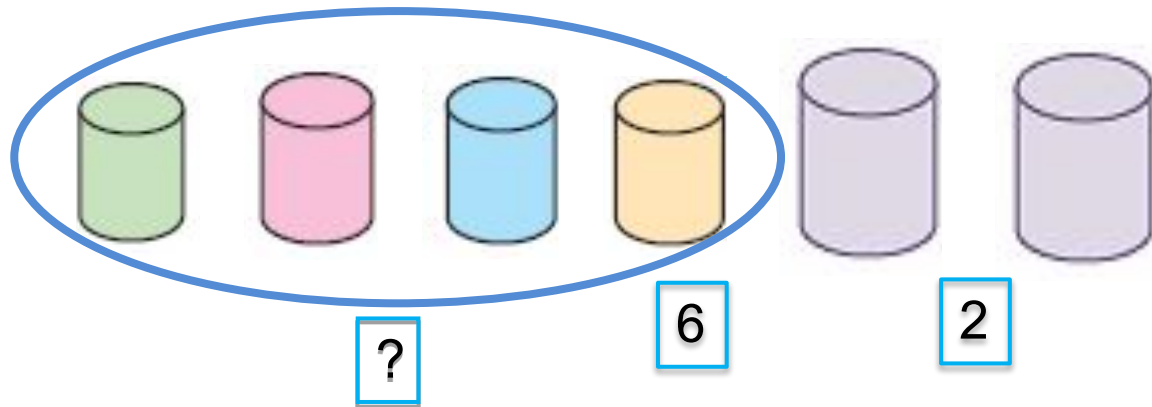


Вилучити — відняти.

залишилось 8 - 3 = 5 трикутників

ВІДПОВІСТЬ

Щоб показати, скільки фігур залишилося, треба об'єднати фігури чи вилучити частину фігур?
Скільки фігур залишилося?



Рівність

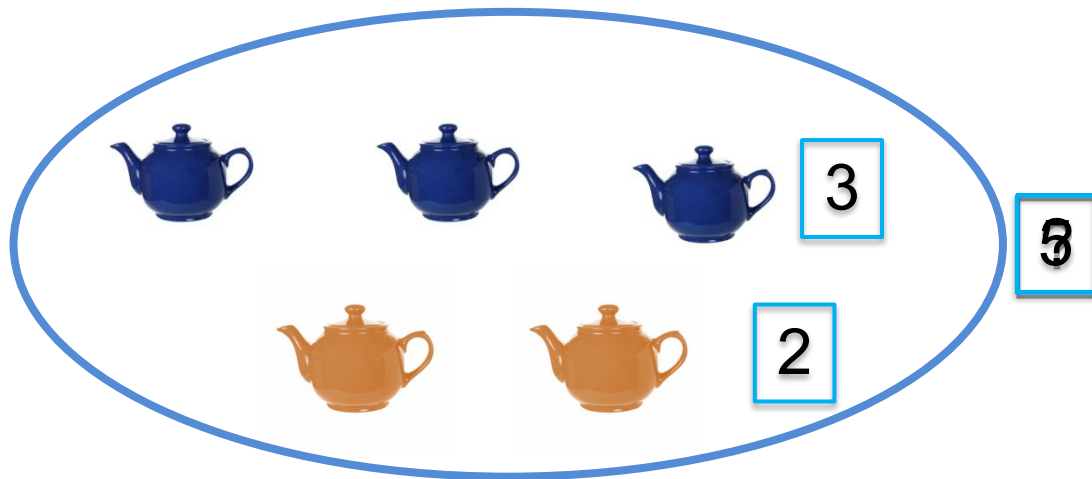
$$6 - 2 = 4$$

Вираз

Скільки без залишку?

Вилучити — відняти.
6 без 2 буде 4.
Залишилося 4 циліндри.
Від 6 відняти 2 буде 4.

Об'єднай лінією всі чайники. Полічи їх. Обери відповідний вираз і знайди його значення.



Об'єднати — означає
«додати».

3	+	2	=	5
3	-	2		

Обиди відволідий очка в наш диштор, а не було?



?



3

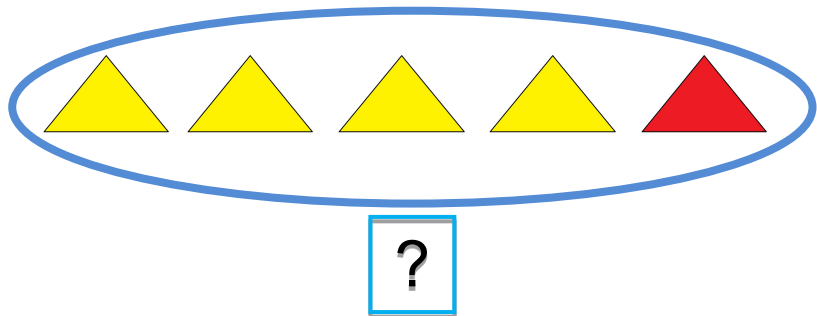


4

4	+	3		
4	-	3	=	1

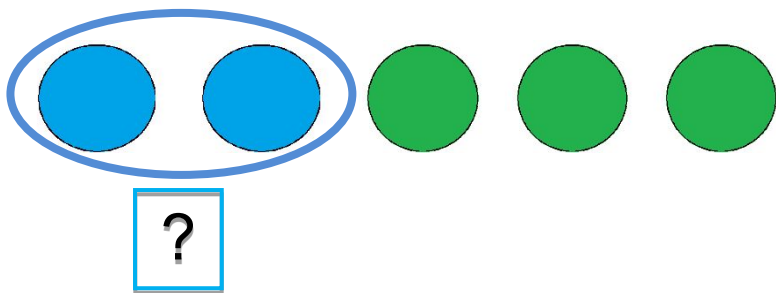
Вилучити — означає
«відняти».

Перевір, чи правильно складено рівності за малюнками.



4	+	1	=	5
5	-	3	=	2

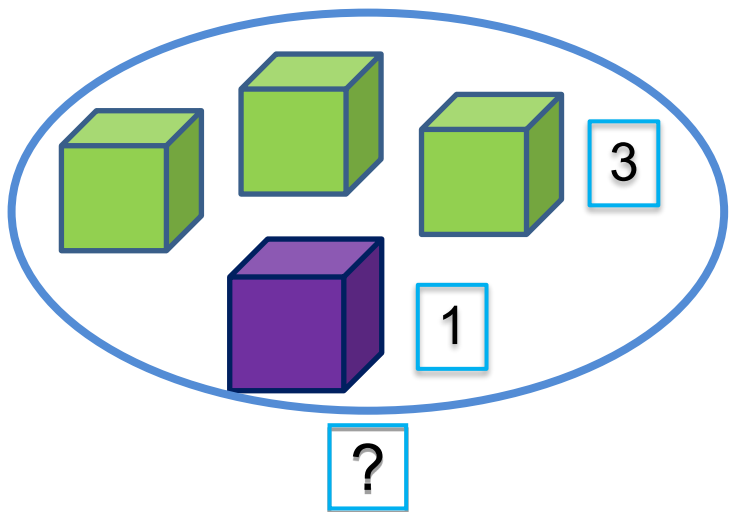
Значення
виразу



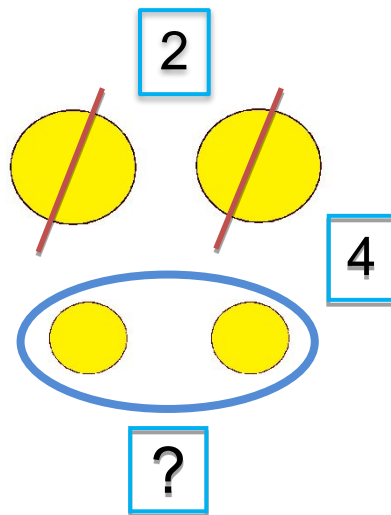
Об'єднати — означає
«додати».

Вилучити — означає
«відняти».

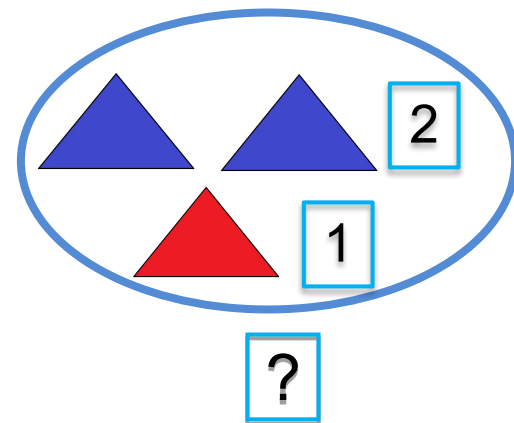
Запиши вирази за малюнками.
Знайди їх значення.



3	+	1	=	4
---	---	---	---	---



4	-	2	=	2
---	---	---	---	---



2	+	1	=	3
---	---	---	---	---