

**ОДЕСЬКИЙ**  
РЕГІОНАЛЬНИЙ  
ЦЕНТР ОЦІНЮВАННЯ  
ЯКОСТІ ОСВІТИ





ОДЕСЬКИЙ РЕГІОНАЛЬНИЙ ЦЕНТР  
ОЦІНЮВАННЯ ЯКОСТІ ОСВІТИ

*АКТУАЛЬНІ ПИТАННЯ  
НАВЧАЛЬНО-МЕТОДИЧНОЇ  
РОБОТИ З ПІДГОТОВКИ ДО  
ЗНО-2016  
З ІСТОРІЇ УКРАЇНИ*



**Підготував:**

**МЕТОДИСТ**

**науково-методичного відділу  
Одеського регіонального центру  
оцінювання якості освіти**

***Афанасьєв Микола  
Михайлович***





## *ЗНО-2015: ІСТОРІЯ УКРАЇНИ*

# Аналітичний огляд результатів

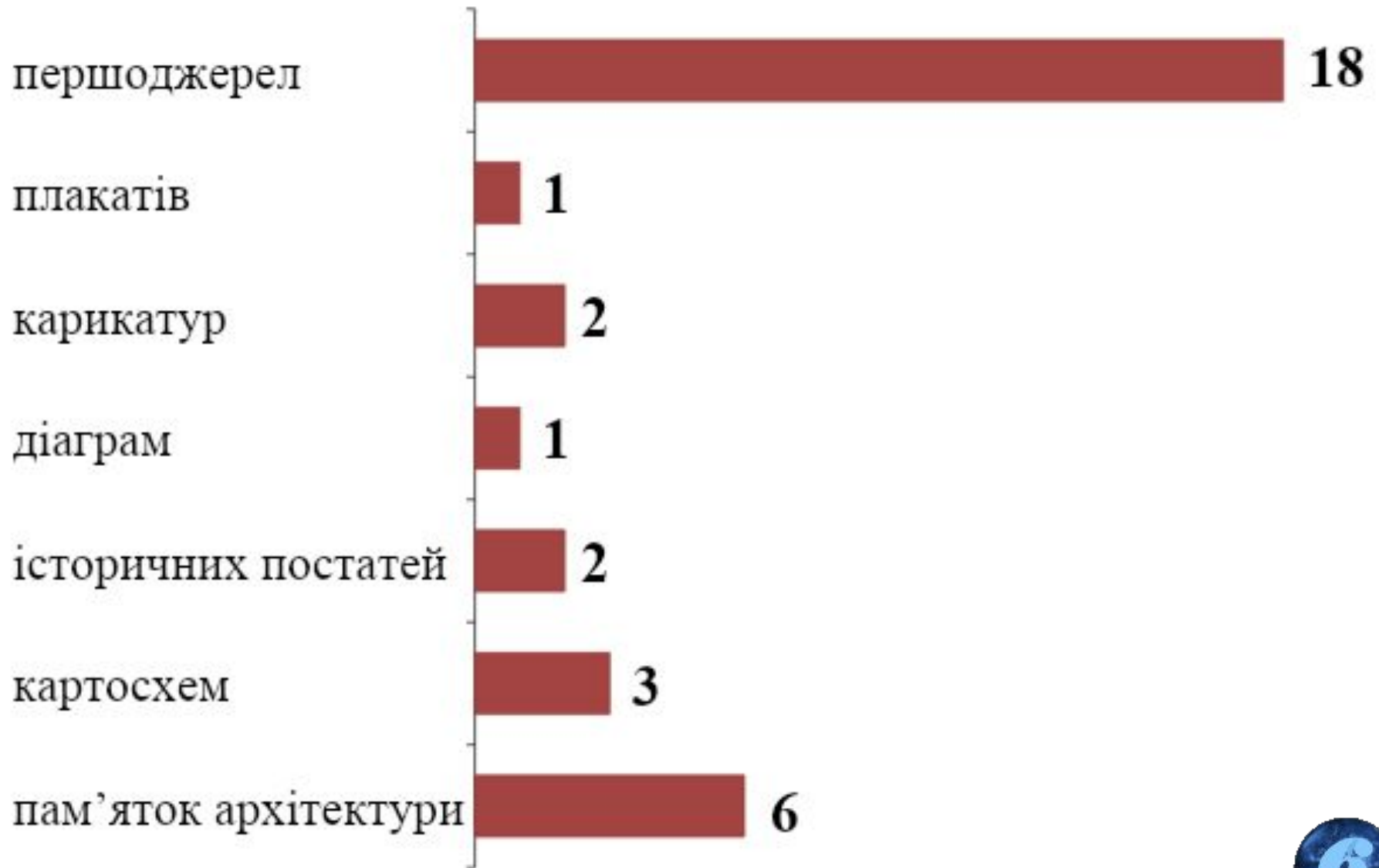


# ЗНО-2015: Кількість т/з за формами (56)



Клас	т/з з однією пр. відповіддю	Відповідність	Послідовність	Три із семи
7 кл.	9	1	1	1
8 кл.	7	2	-	1
9 кл.	8	1	1	1
10 кл.	9	1	1	1
11 кл.	9	1	1	-
УСЬОГО т/з	42	6	4	4

# ЗНО-2015: Кількість т/з з використанням





## ***ЗНО-2015: ІСТОРІЯ УКРАЇНИ***

**ТЗ з однією  
правильною  
відповіддю**



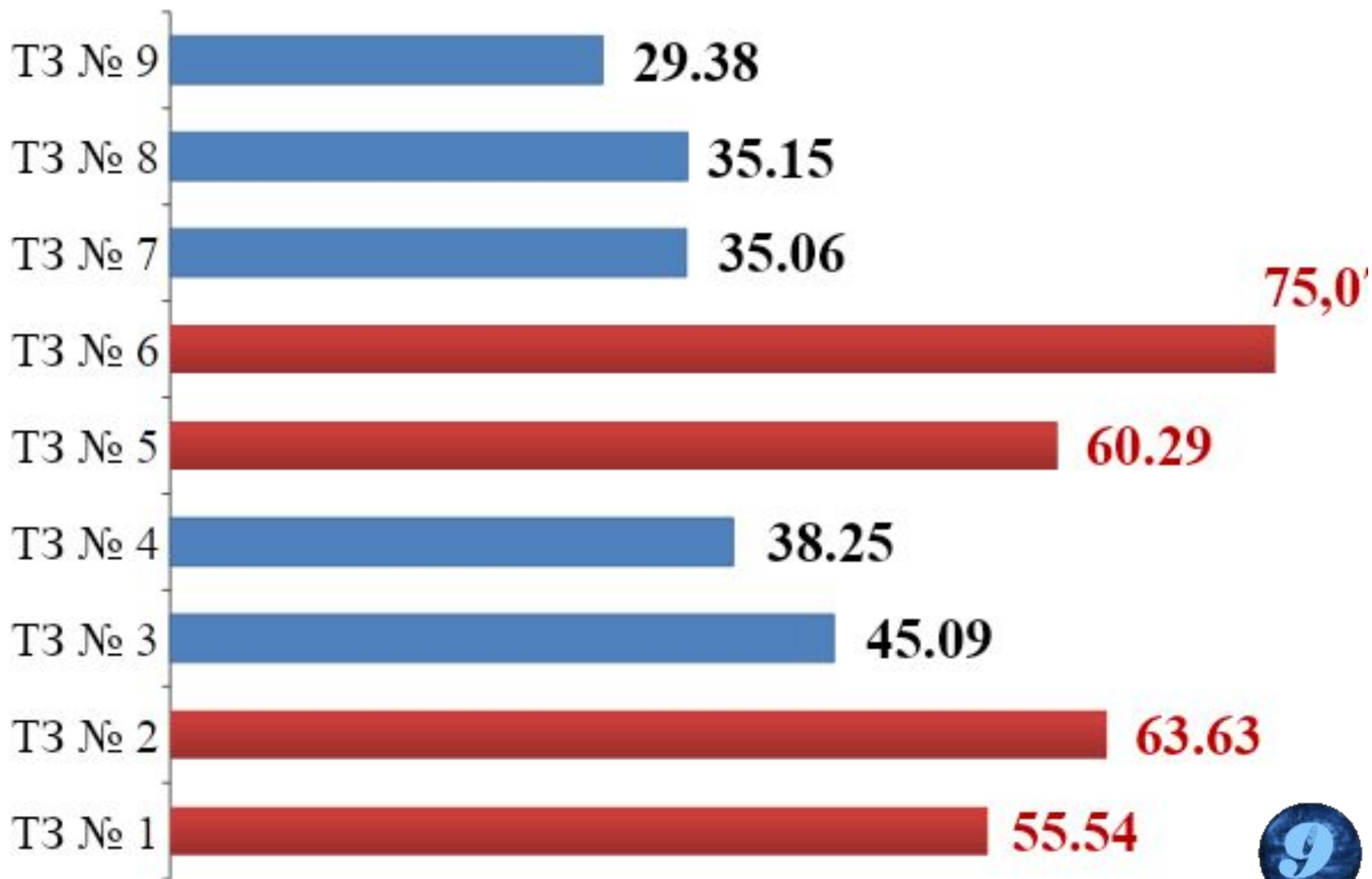
# Розподіл вибору варіантів відповідей на ТЗ з вибором однієї правильної відповіді (усього 42)





## 7 клас: Від найдавніших часів – перша половина XVI ст.

**К-ть учасників, які відповіли правильно (%)**



9. На фото зображено
- А Хотинську фортецю
  - Б Меджибізький замок
  - В Верхній замок у Луцьку
  - Г Кам'янець-Подільську фортецю

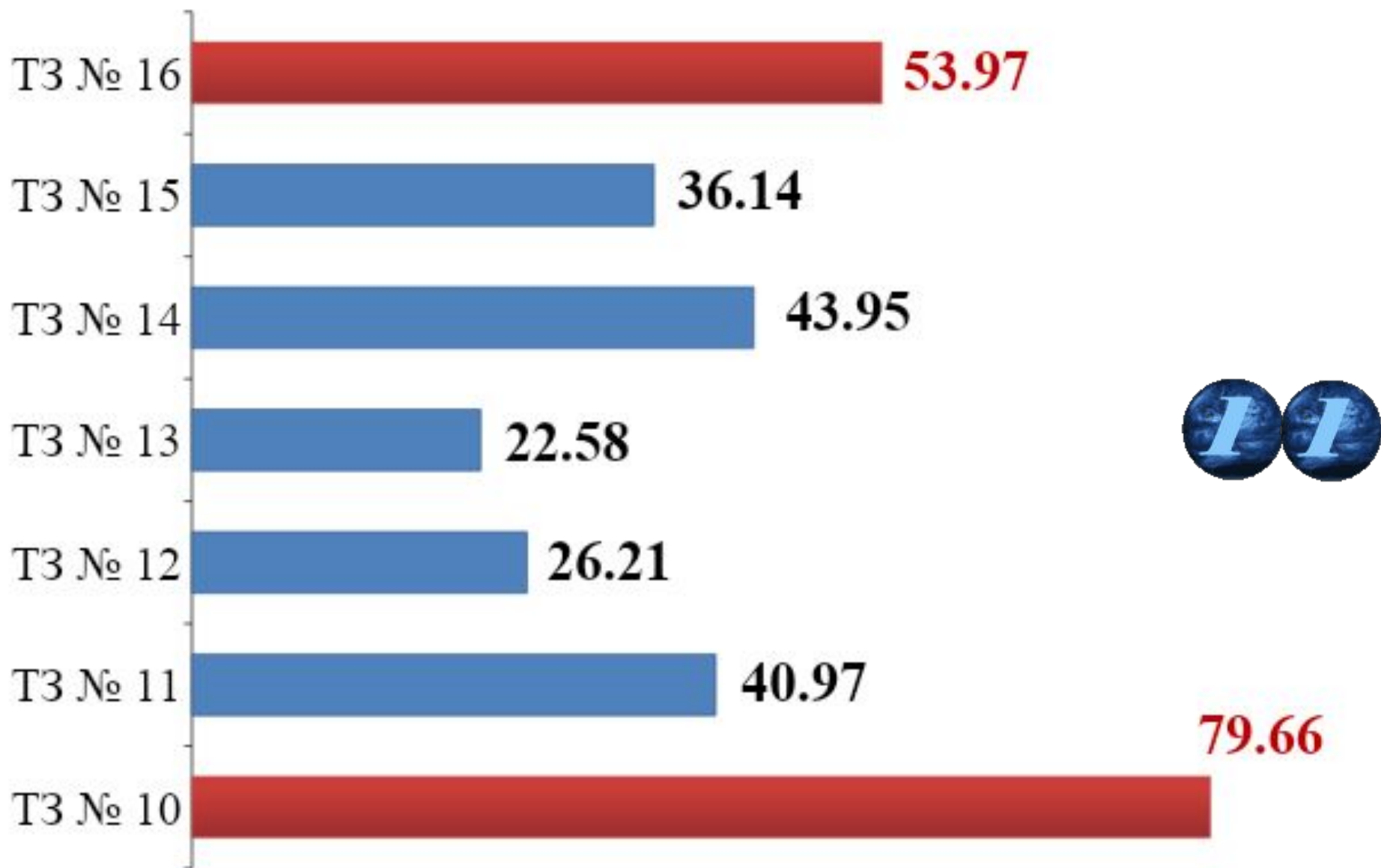
**Відповіло  
лише  
29,38%**



**Є у Додатку  
до програми  
ЗНО-2016**



**8 клас: Друга половина XVI ст. – перша половина XVIII ст.**  
**К-ть учасників, які відповіли правильно (%)**



**12.** Укладення династичного союзу між  
Військом Запорозьким і Молдавським  
князівством стало можливим завдяки перемозі  
козацького війська в

**А** Жовтоводській битві

**Б** Корсунській битві

**В** Пилявецькій битві

**Г** Батозькій битві

**Відповіло**

**лише**

**26,21%**



13. Кому з гетьманів І. Сірко докоряв: «...при розумному посередництві могла б [Гетьманщина] прихилитися від турецької влади під високу руку православного монарха. . ..Дорошенка заслав у вічну неволю, Чигирин з у сією цьогобічною Україною втратив, допустив пролитися християнській крові... Відтак дочекався крайнього занепаду й запустіння Вітчизни нашої...»?

- А І. Самойловичу
- Б І. Виговському
- В П. Тетері
- Г І. Брюховецькому

**Відповіло  
лише  
22,58%**



15. Що є свідченням обмеження царською владою автономії України в першій половині XVIII ст.?

**А утворення Першої Малоросійської колегії**

**Б** поділ Гетьманщини на Лівобережну та Правобережну

**В** переформування козацьких полків на регулярні кінні полки російської армії

**Г** остаточна ліквідація російськими військами Запорозької Січі

**Відповіло**

**лише**

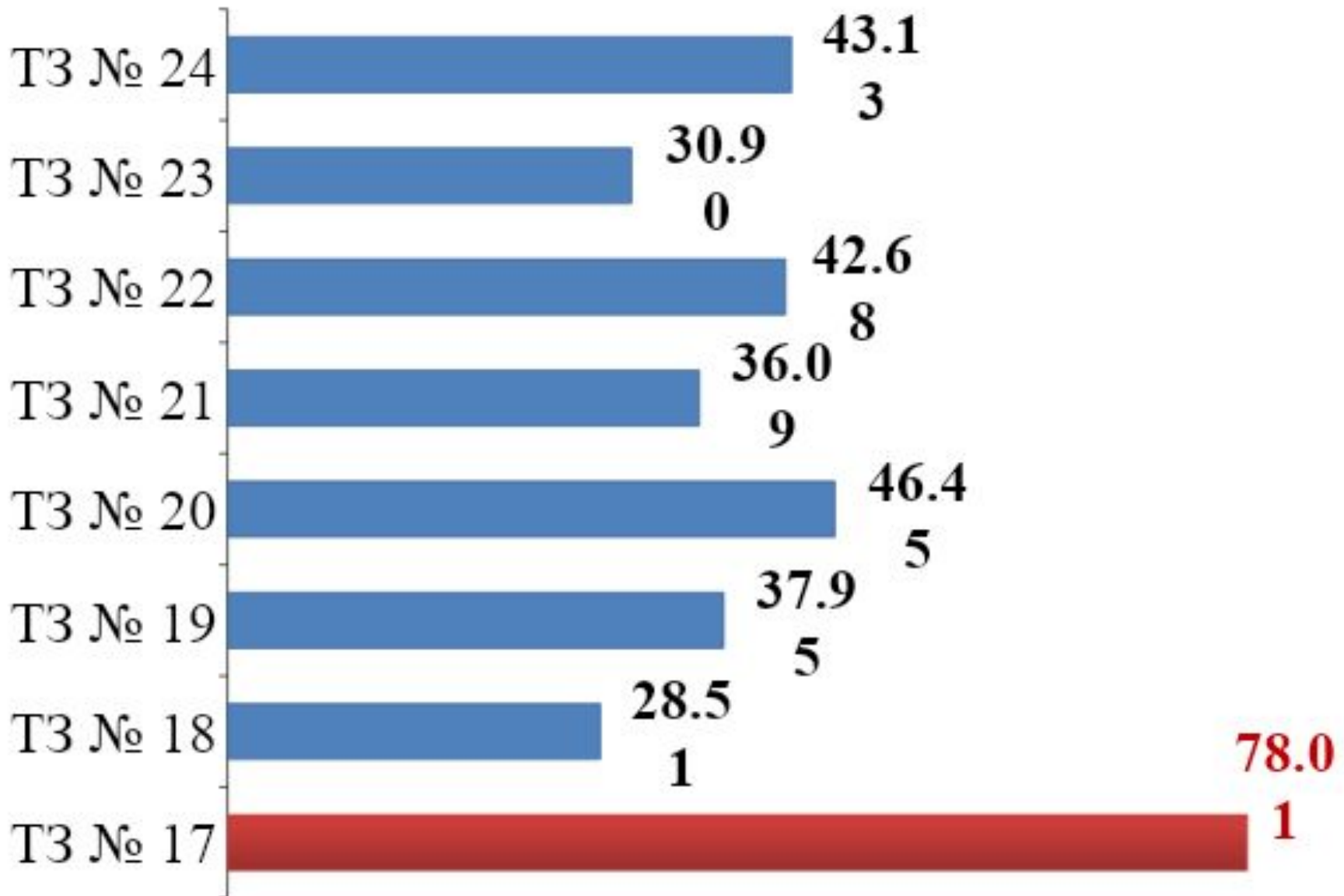
**36,14 %**



9 клас: Друга половина XVIII ст. – 1914 р.



К-ть учасників, які відповіли правильно (%)



18. Зображена на фото пам'ятка архітектури є окрасою міста

А Львова

Б Києва


В Харкова

Г Луцька

Є у Додатку  
до програми  
ЗНО-2016



**Відповіло  
лише  
28,51 %**





23. Хто є автором картини, репродукцію якої зображено?

А С. Васильківський

Б М. Пимоненко

В В. Тропінін

Г І. Рєпін

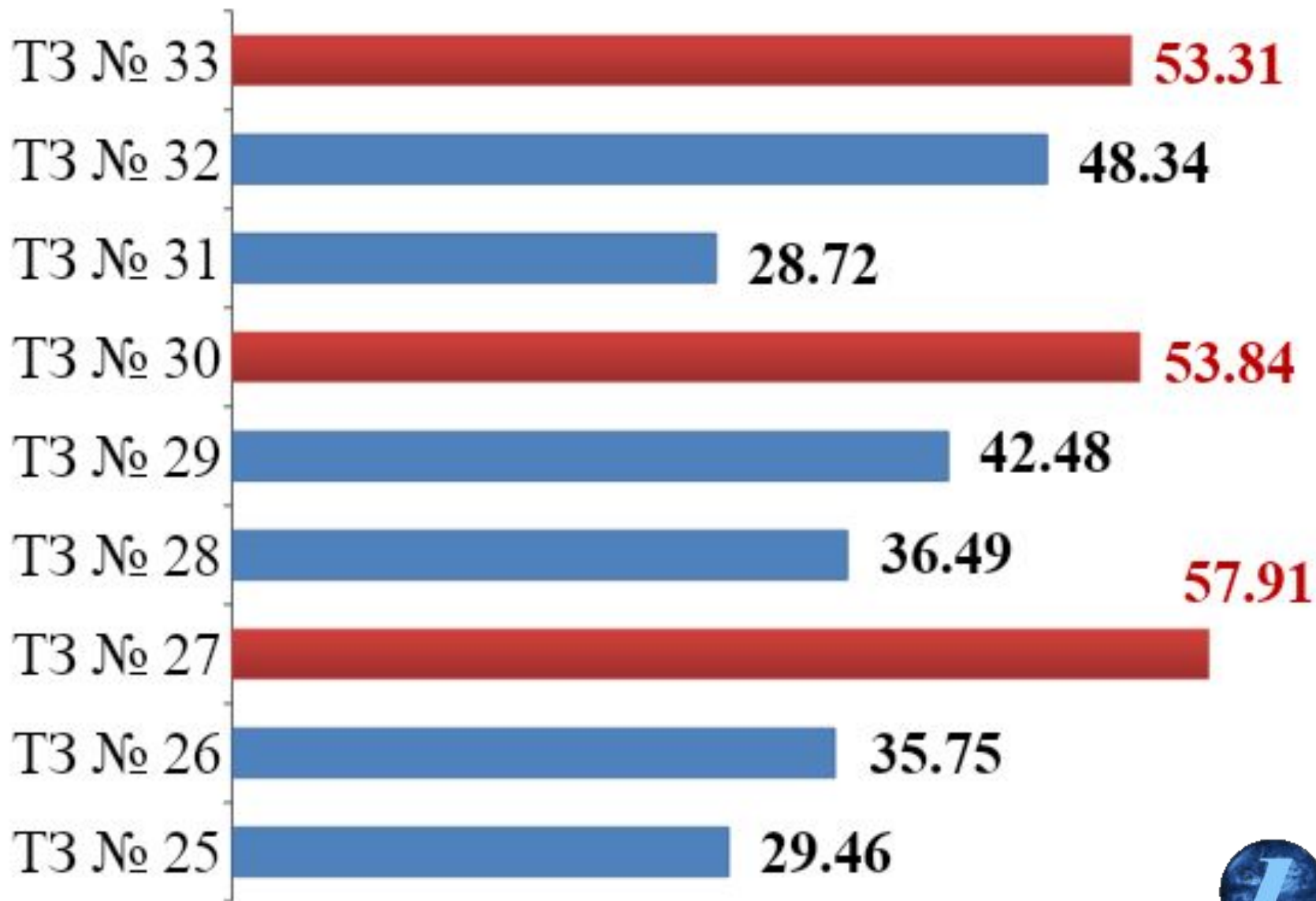
**Відповіло  
лише  
30,90 %**

Є у Додатку до  
програми ЗНО-2016



## 10 клас: 1914–1939 рр.

К-ть учасників, які відповіли правильно (%)



**31.** Прочитайте уривок з історичного джерела та виконайте завдання.

*«Експропріація непродуктивних класів, анулювання боргів, зосередження доходів від промисловості, держторгівлі (внутрішньої і зовнішньої) і всієї кредитної системи в руках держави – самі по собі дають можливість такого нагромадження всередині країни, яке забезпечує необхідний для соціалістичного будівництва темп розвитку індустрії».*

В уривку вказано на

**А** причини індустріалізації

**Б** джерела індустріалізації

**В** наслідки індустріалізації

**Г** етапи індустріалізації



**Відповіло**

**лише**

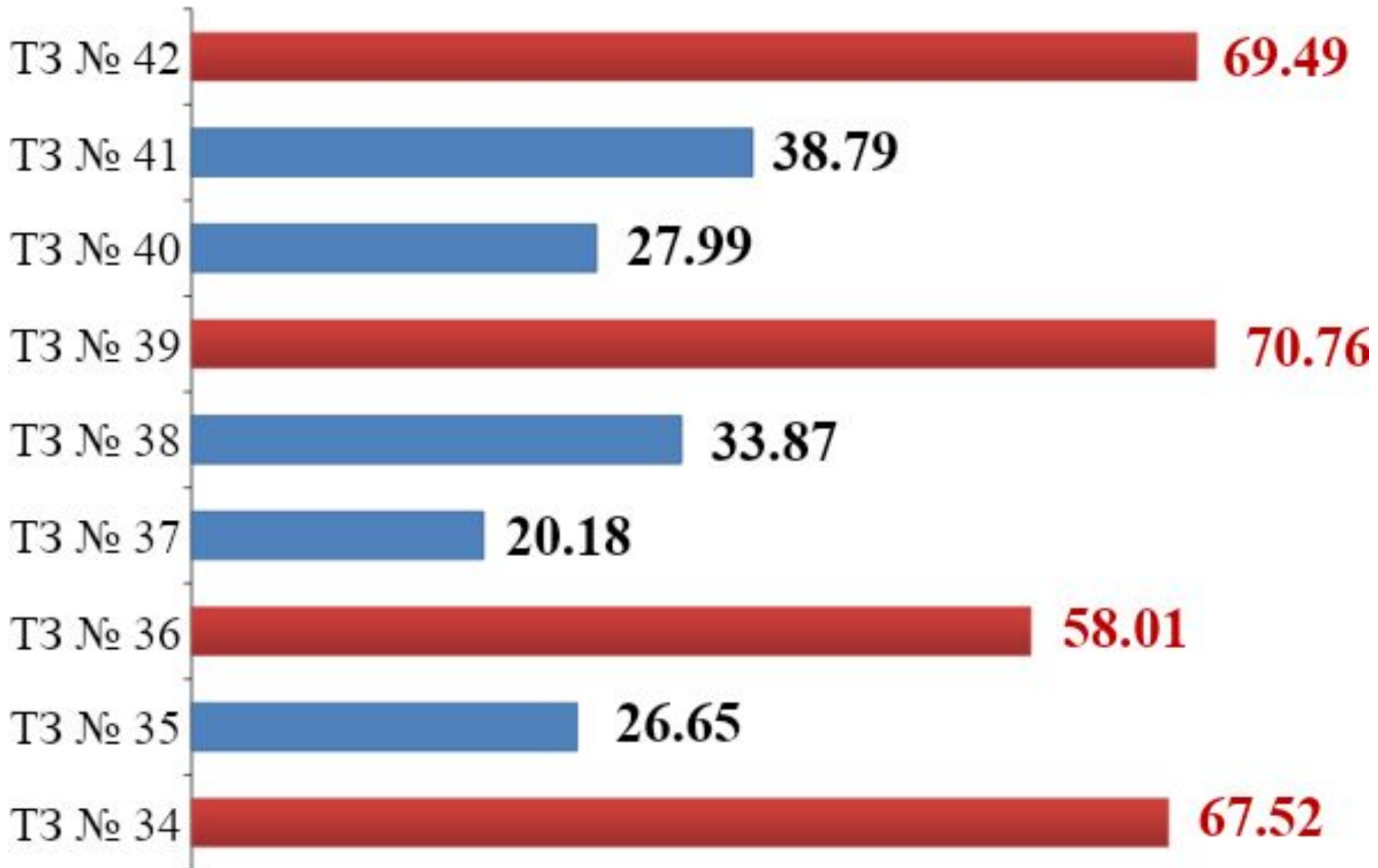
**28,72 %**



**11 клас: 1939 р. – початок ХХІ ст.**



**К-ть учасників, які відповіли правильно (%)**



**35.** Про яку адміністративну одиницю, створену окупантами на українських землях у роки Другої світової війни, ідеться в уривку з історичного джерела:

*«Після того, як [німецько-румунські загарбники] встановили свою владу до річки Буг, запанувала румунська нагайка... від Дністра до Бугу...»?*

**А Трансністрію**

**Б Бессарабію**

**В Північну Буковину**

**Г Марморощину**

**Відповіло**

**лише**

**26,65 %**



37. На картосхемі заштриховано територію, що увійшла до складу УРСР на підставі договору між СРСР та

А Угорщиною

Б Румунією

В Польщею

Г Чехословаччиною



**Відповіло**

**лише**

**20,18 %**



**40.** Які наслідки для України мав заколот ГКЧП (ДКНС) у Москві?

**А** усунення В. Щербицького від влади в УРСР

**Б** негайний вихід КПУ зі складу КПРС

**В** підписання УРСР нового союзного договору

**Г** проголошення незалежності України

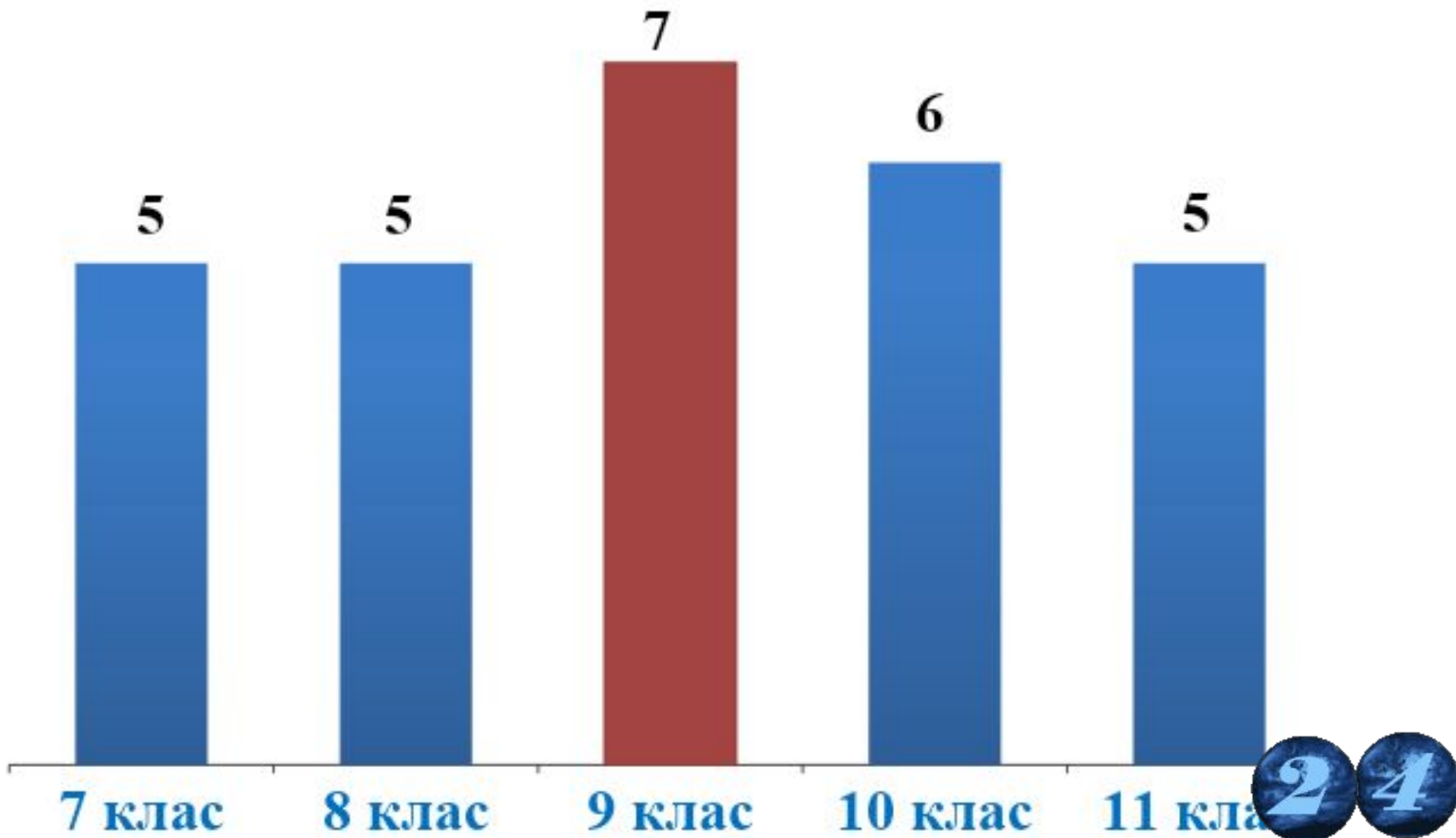
**Відповіло**

**лише**

**27,99 %**



Кількість ТЗ з однією правильною відповіддю, які **не виконало** більше 50 % учасників ЗНО-2015





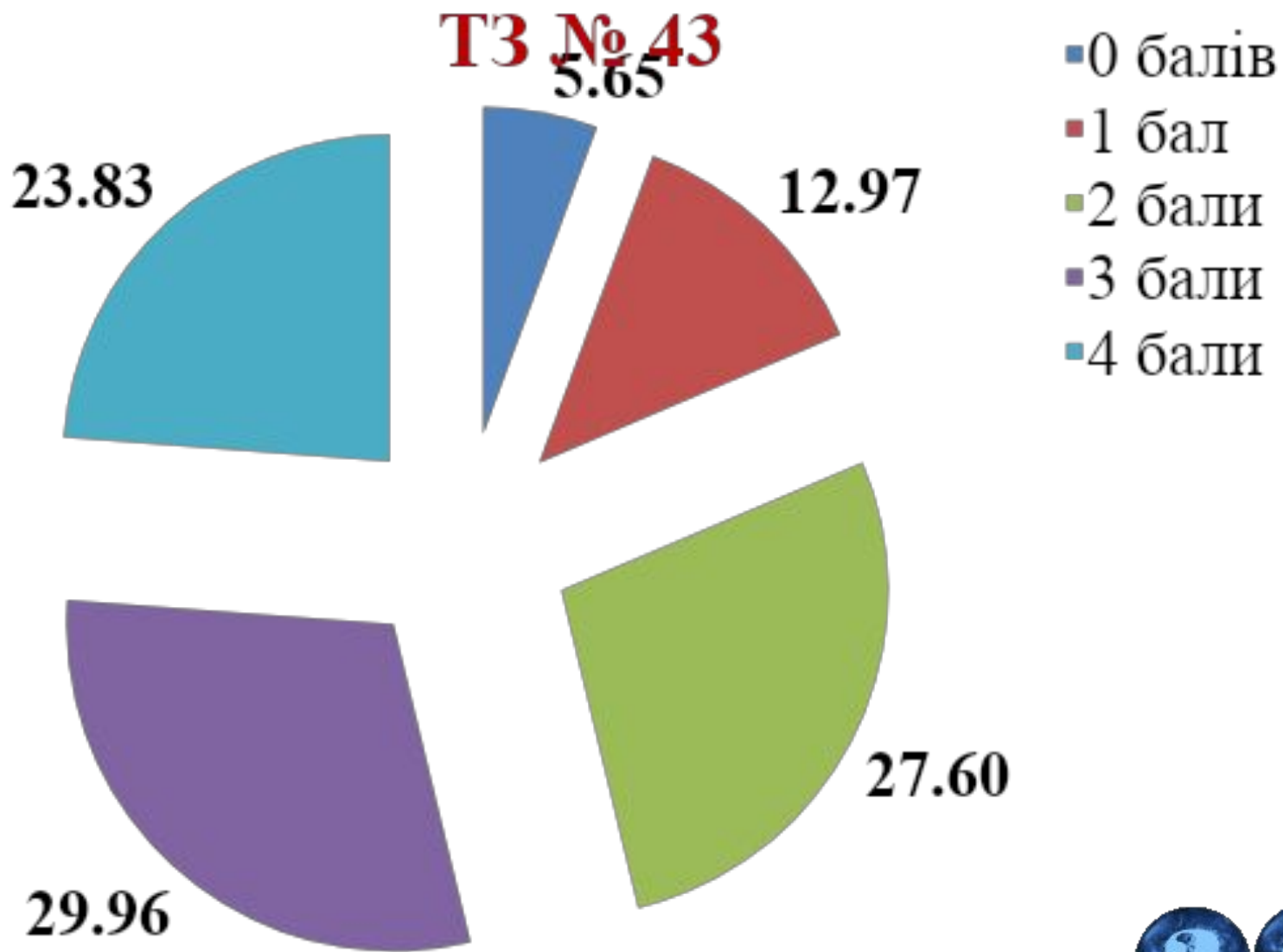


## ***ЗНО-2015: ІСТОРІЯ УКРАЇНИ***

# **ТЗ на встановлення відповідності («логічні пари»)**

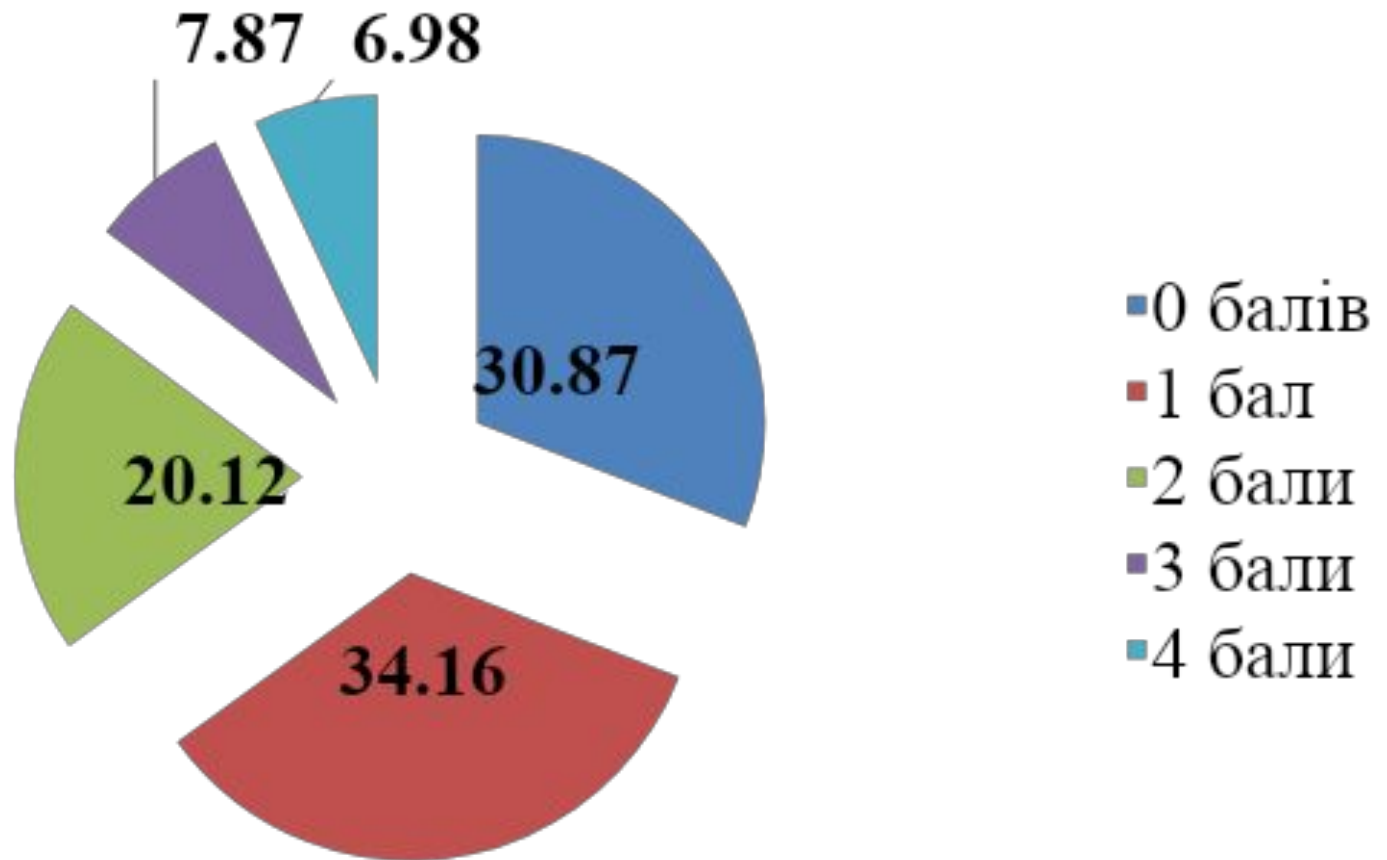


## 7 клас: Від найдавніших часів – перша половина XVI ст.



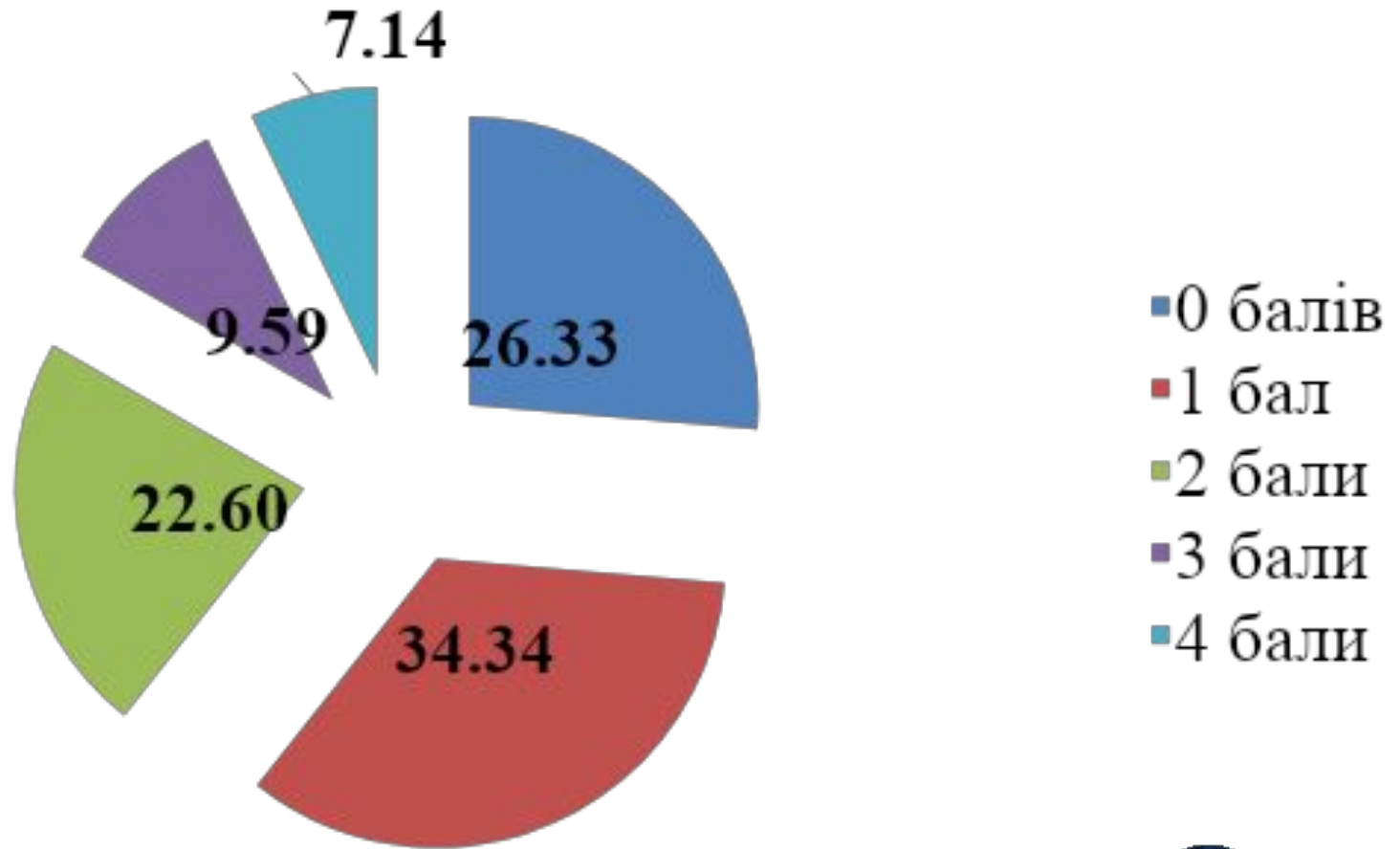
# 8 клас: Друга половина XVI ст. – перша половина XVIII ст.

## ТЗ № 44



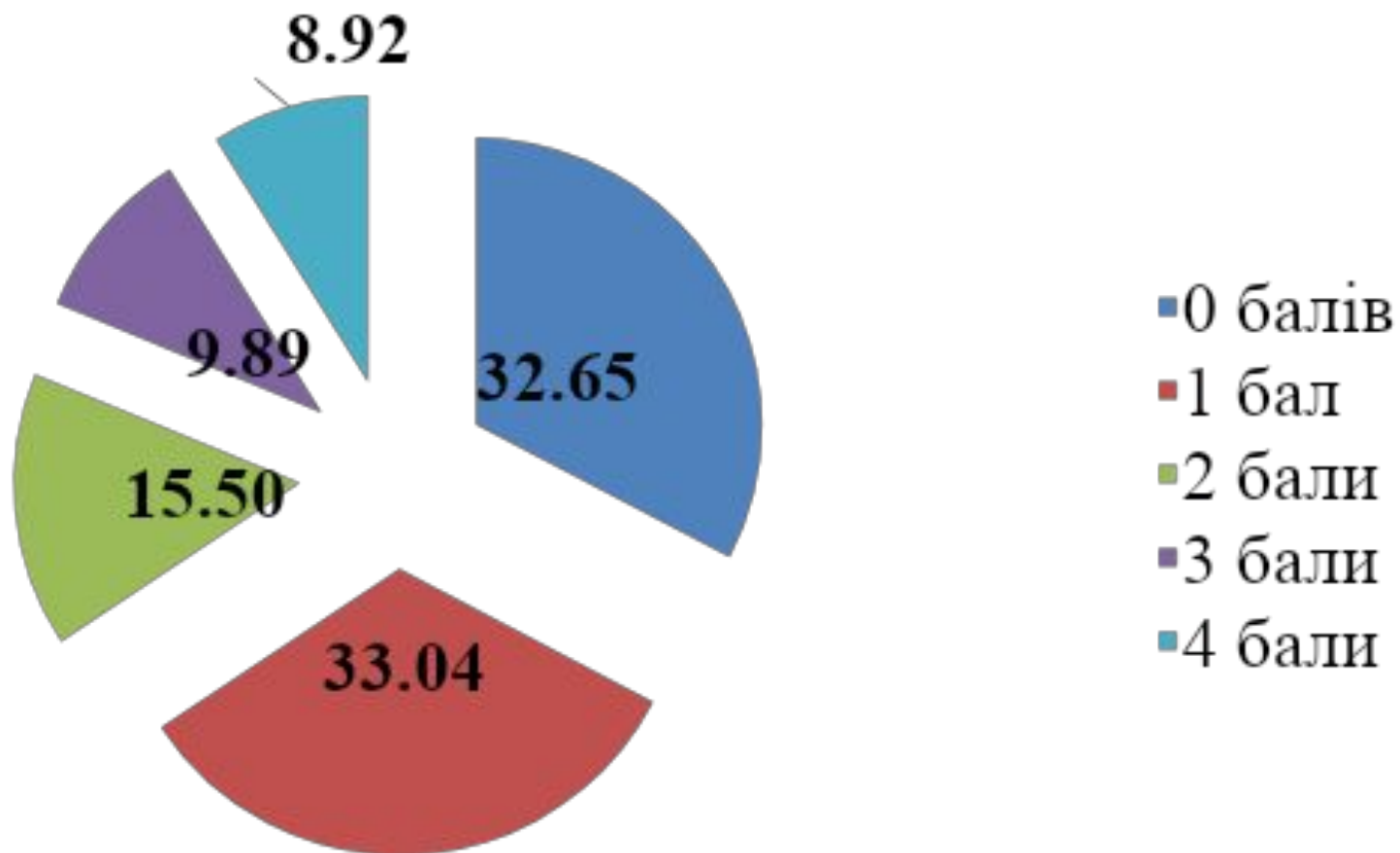
# 8 клас: Друга половина XVI ст. – перша половина XVIII ст.

**ТЗ № 45**



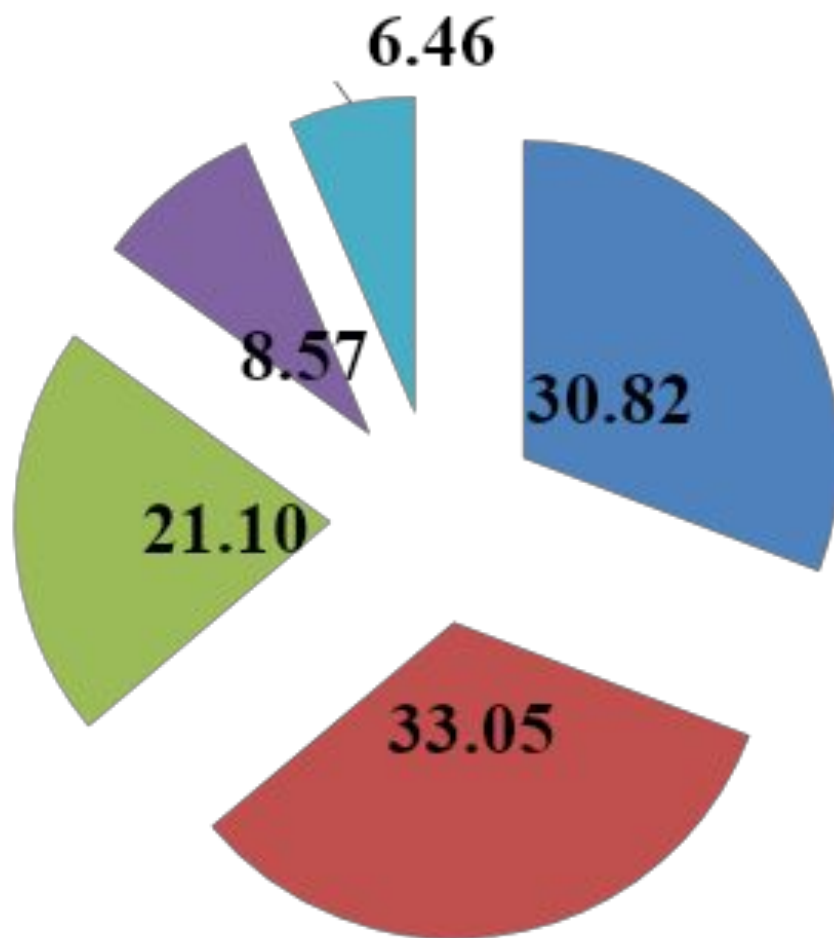
## 9 клас: Друга половина XVIII ст. – 1914

### ТЗ № 46



## 10 клас: 1914–1939 рр.

### ТЗ № 47

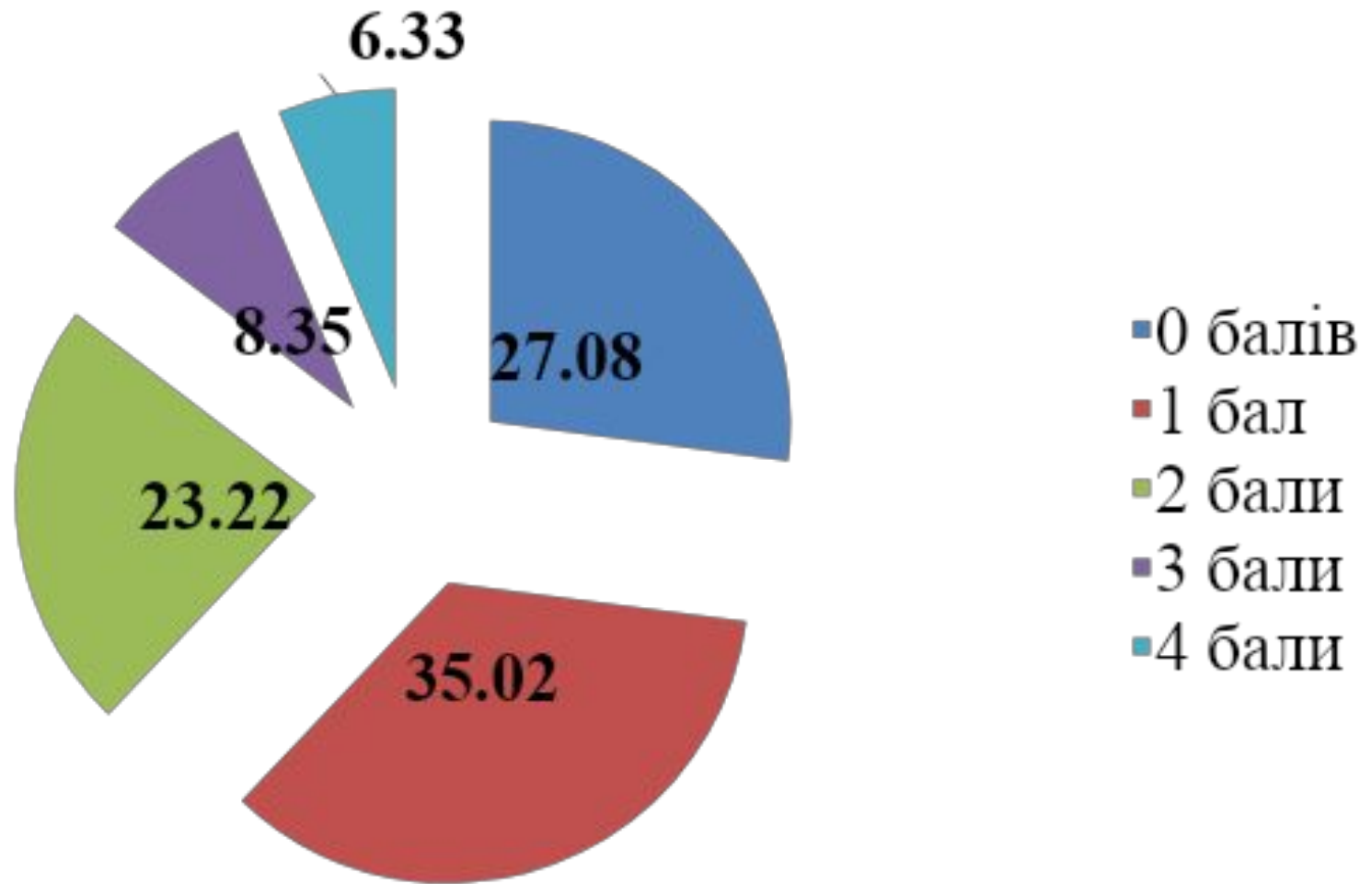


- 0 балів
- 1 бал
- 2 бали
- 3 бали
- 4 бали

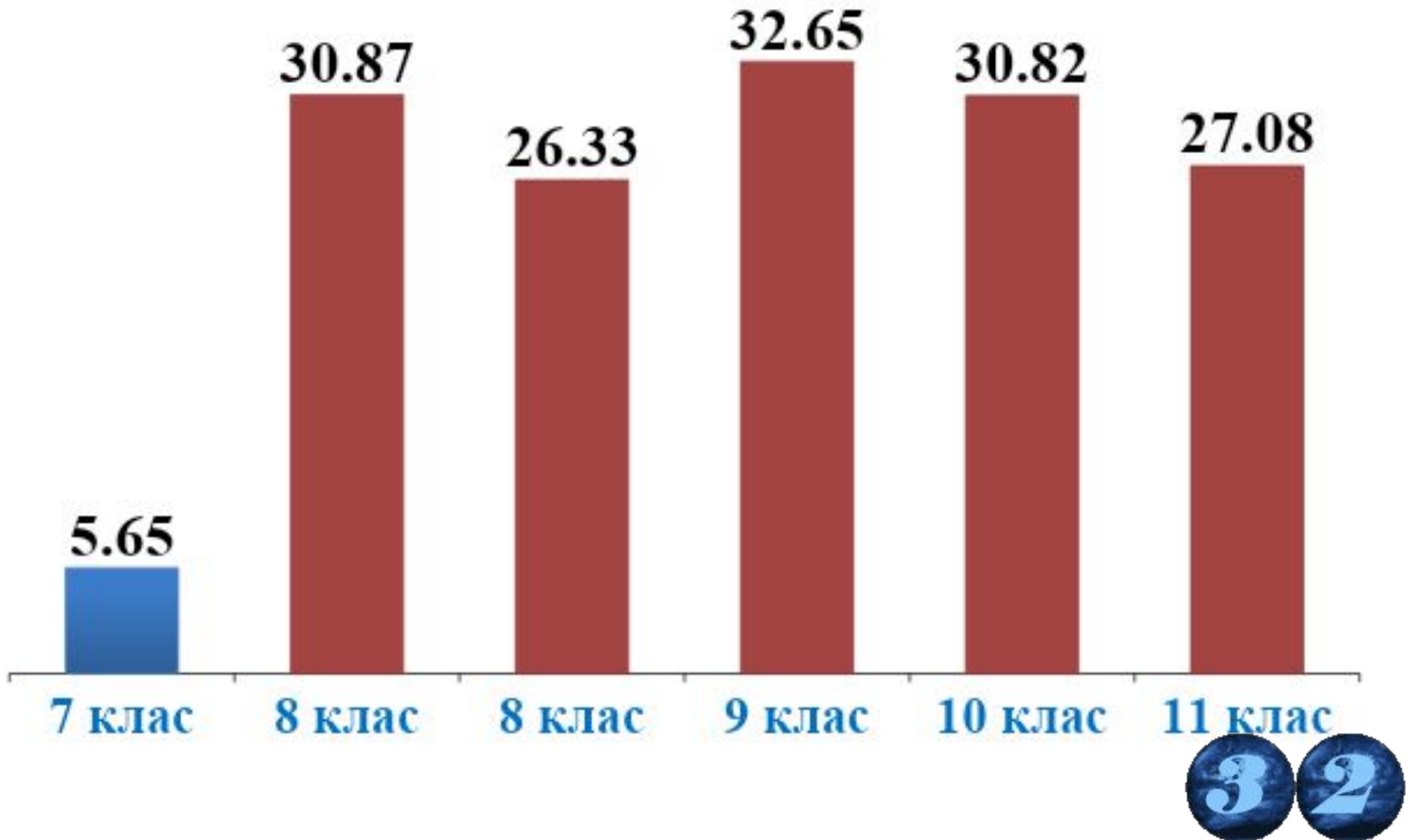


# 11 клас: 1939 р. – початок ХХІ ст.

## ТЗ № 48



**Відсоток учасників ЗНО-2015, які не набрали жодного балу за виконання ТЗ на встановлення відповідності**







***ЗНО-2015: ІСТОРІЯ УКРАЇНИ***

# **ТЗ на встановлення послідовності**



**49. Установіть послідовність подій, описаних в уривках з історичних джерел.**



**А** *«Прийшли іноплеменники на Руську землю, половці многі. А Ізяслав, і Святослав, і Всеволод вийшли супроти них на р. Альту. І коли настала ніч, рушили вони одні проти одних. ...і побігли руські князі, і перемогли половці...»*

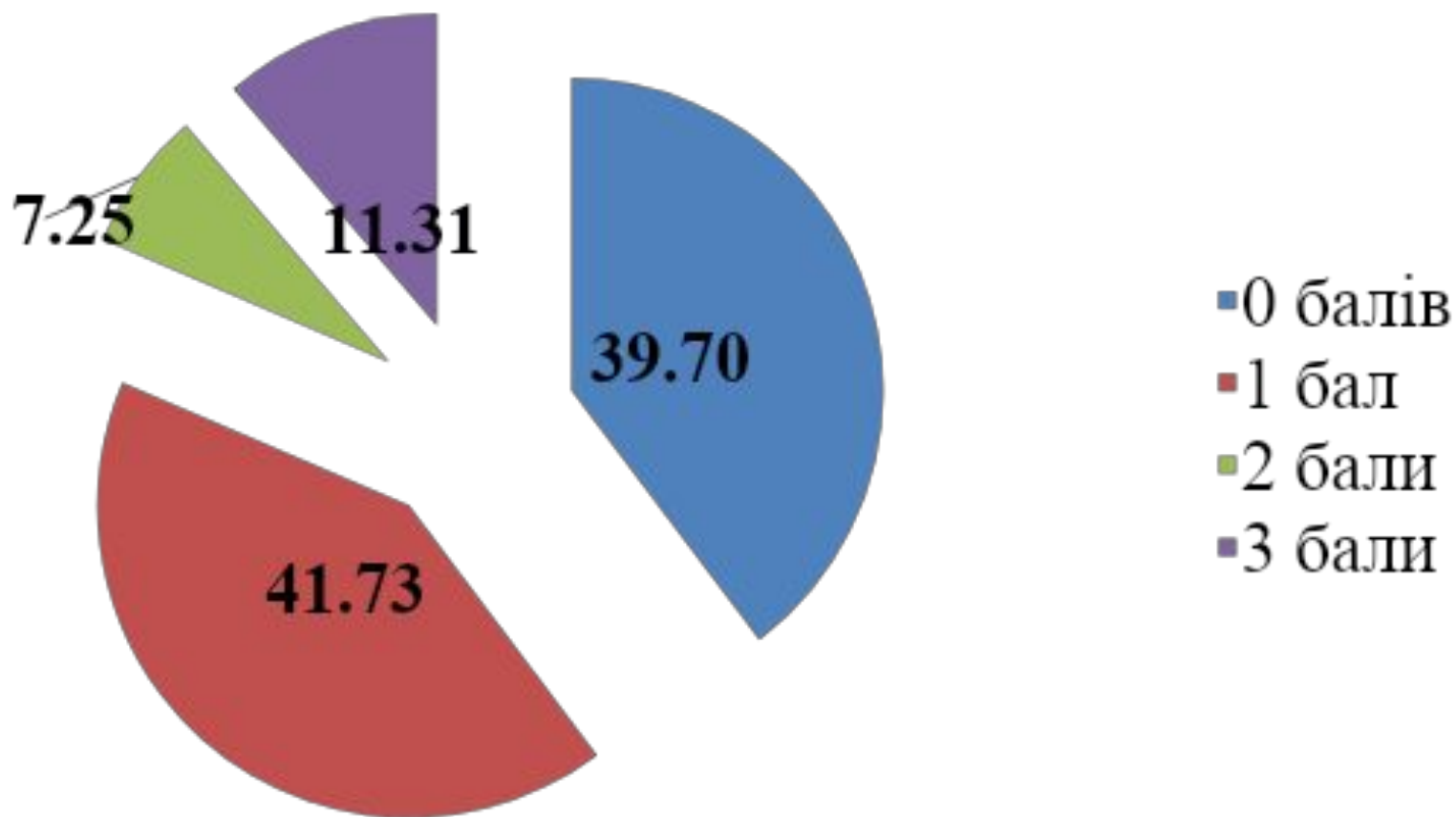
**Б** *«У той же час поїхав був Данило в Угри до короля [Бели], бо він іще не чув про прихід татар на Київ. А коли Батий узяв Київ і почув він про Данила, що той в Уграх є, то рушив сам до [города] Володимира...»*

**В** *«І говорили [половці] руським князям: «Якщо ви не допоможете нам, [то] ми нині порубані були, а ви завтра порубані будете...» І вирішили князі: «Лучче б нам зустріти їх на чужій землі, аніж на своїй” ...»*

**Г** *«Прибули Святополк [Ізяславич], і Володимир [Всеволодович], і Давид Ігоревич, і Василько Ростиславич, і Давид Святославич, і брат його Олег, і зібралися в [городі] Любечі, щоб уладнати мир...»*

## 7 клас: Від найдавніших часів – перша половина XVI ст.

### ТЗ № 49



**50.** Установіть послідовність заходів царської влади щодо ліквідації автономного устрою українських земель.

**А** утворення Другої Малоросійської колегії

**Б** закріпачення селян Лівобережної та Слобідської України

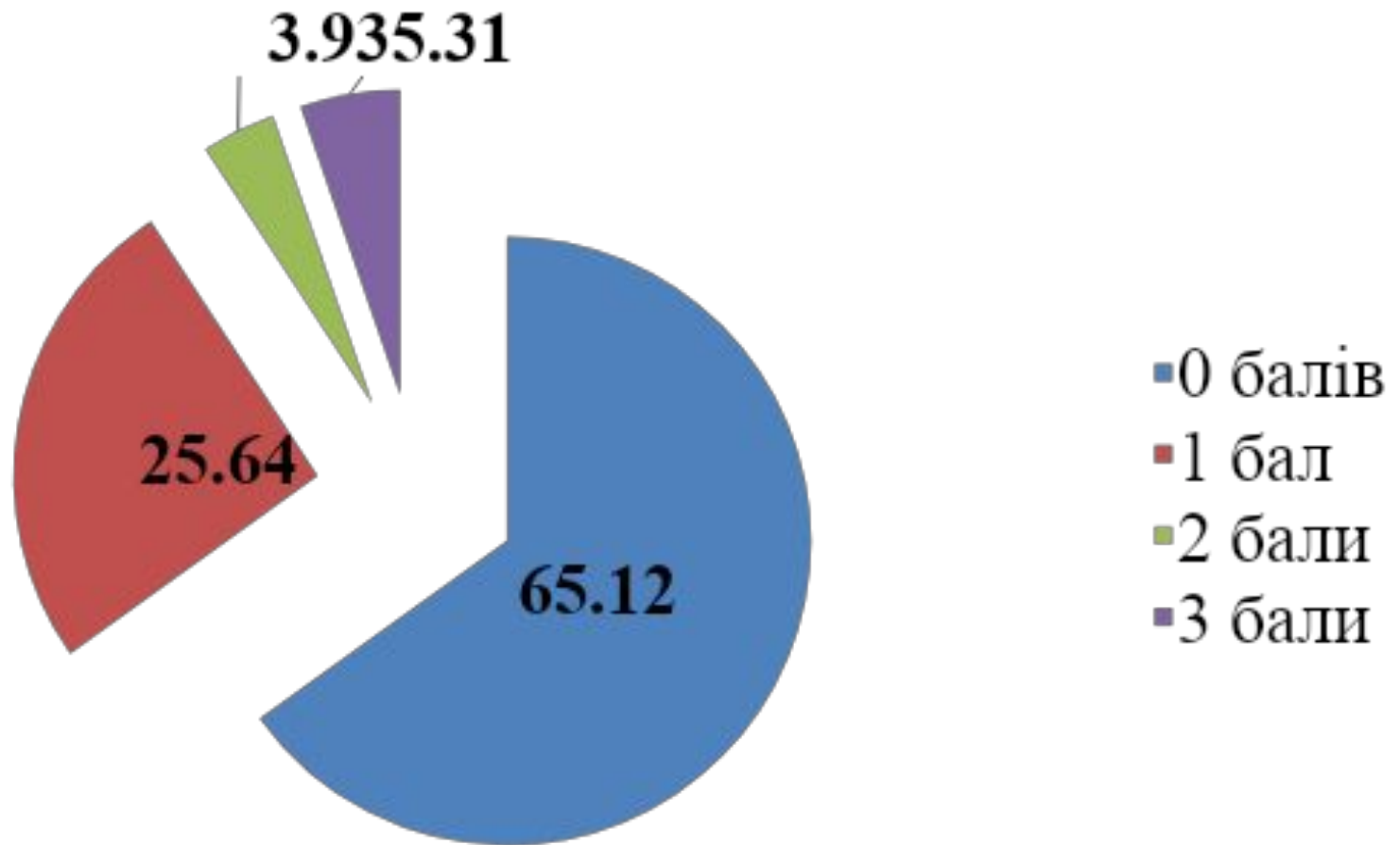
**В** остаточна ліквідація Запорозької Січі

**Г** скасування полкового устрою на Слобідській Україні



## 9 клас: Друга половина XVIII ст. – 1914

### ТЗ № 50



## 51. Установіть послідовність створення радянських агітаційних плакатів

А



Із виробництва м'яса, молока та масла на душу населення наздоженемо Америку!

В



Кожен удар молота – удар по ворогу!

Б



Поспішай панові доброго прочухана дати!  
Барона також не забудь!!!

Г

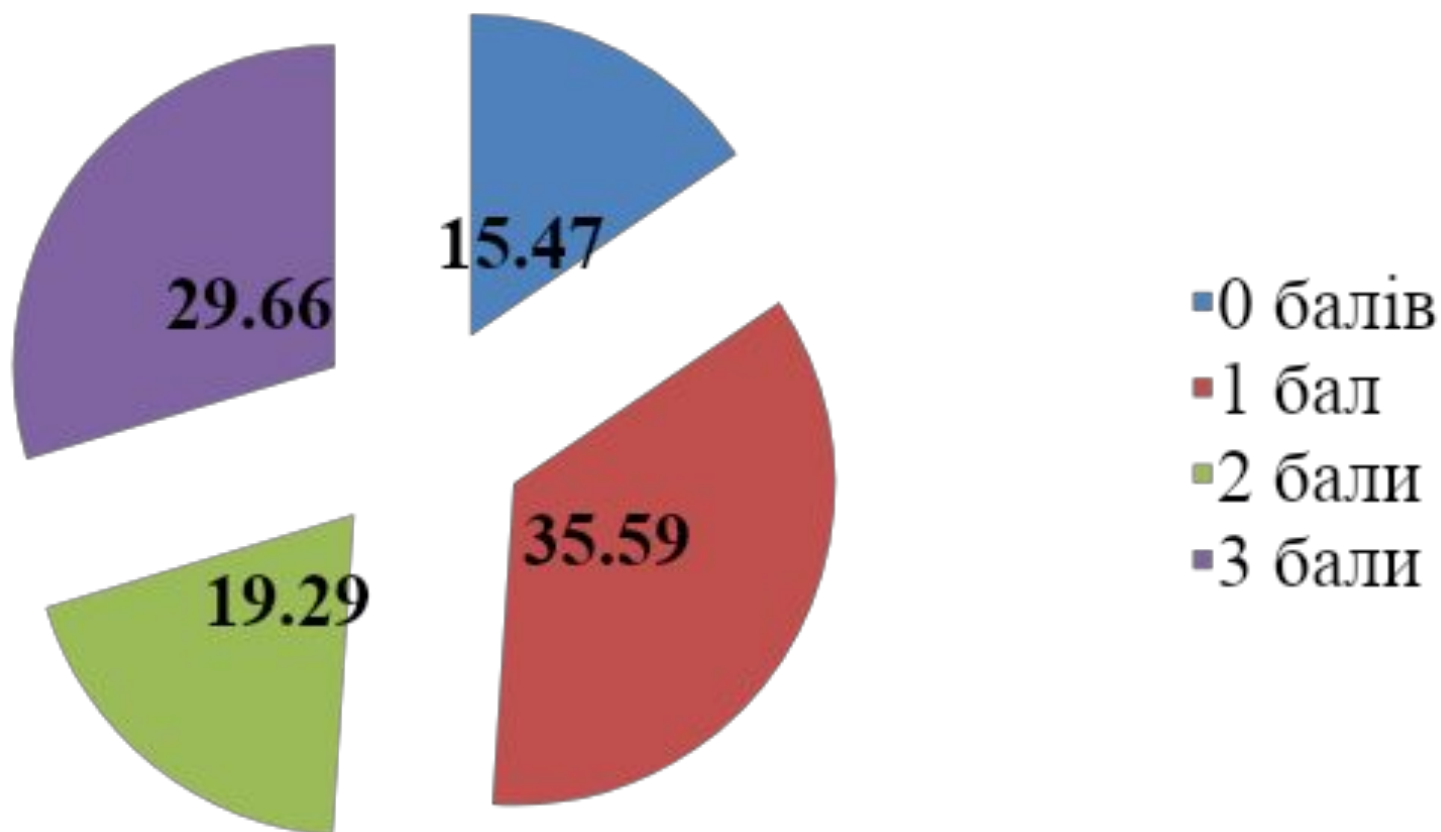


Вперед! За індустріалізацію країни, за колективізацію села!



# 10 клас: 1914–1939 рр.

ТЗ № 51



**52.** Установіть послідовність появи понять в історії УРСР.

**А** «відбудова»

**Б** «розвинений соціалізм»

**В** «політична реабілітація»

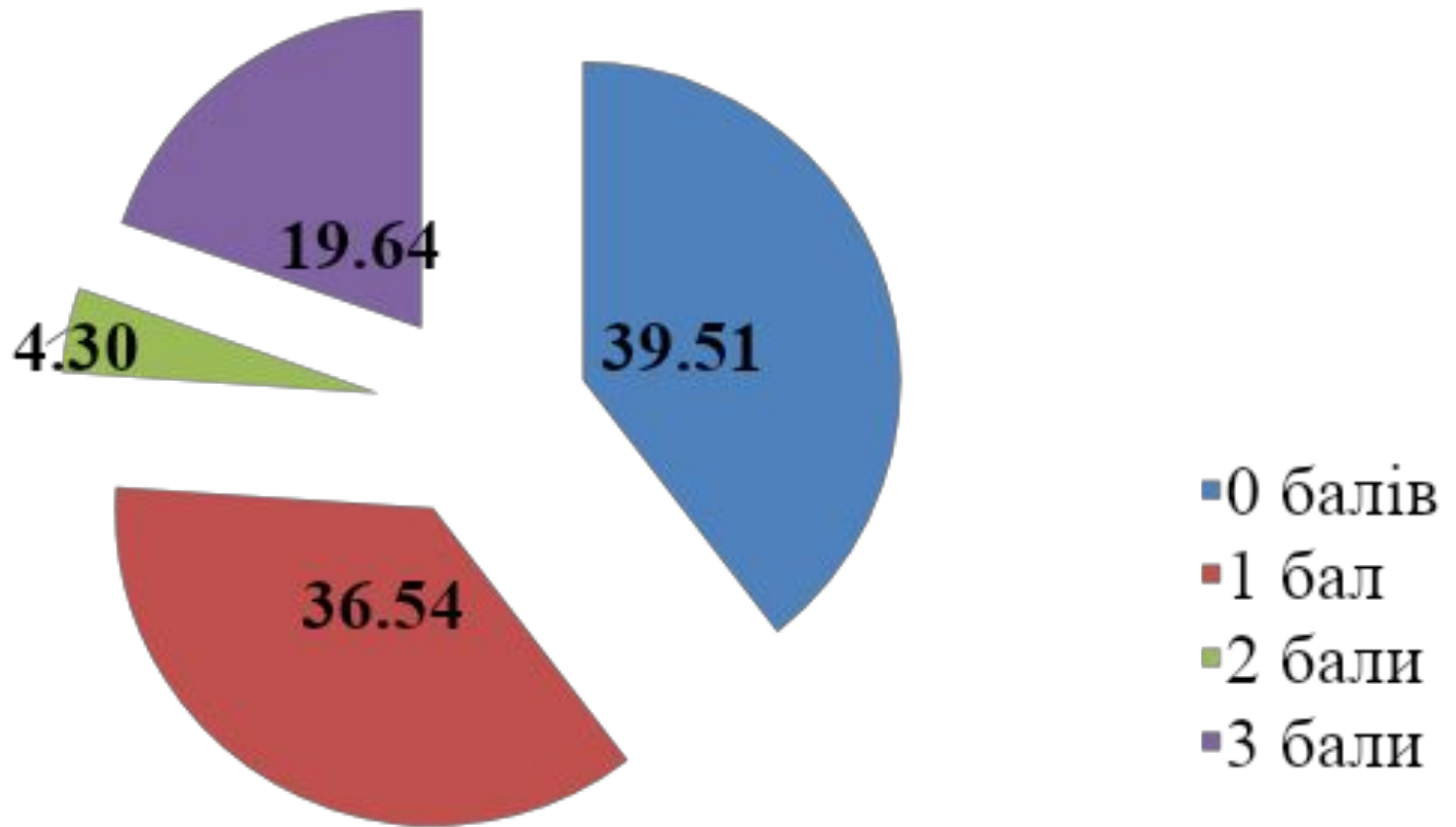
**Г** «гласність»



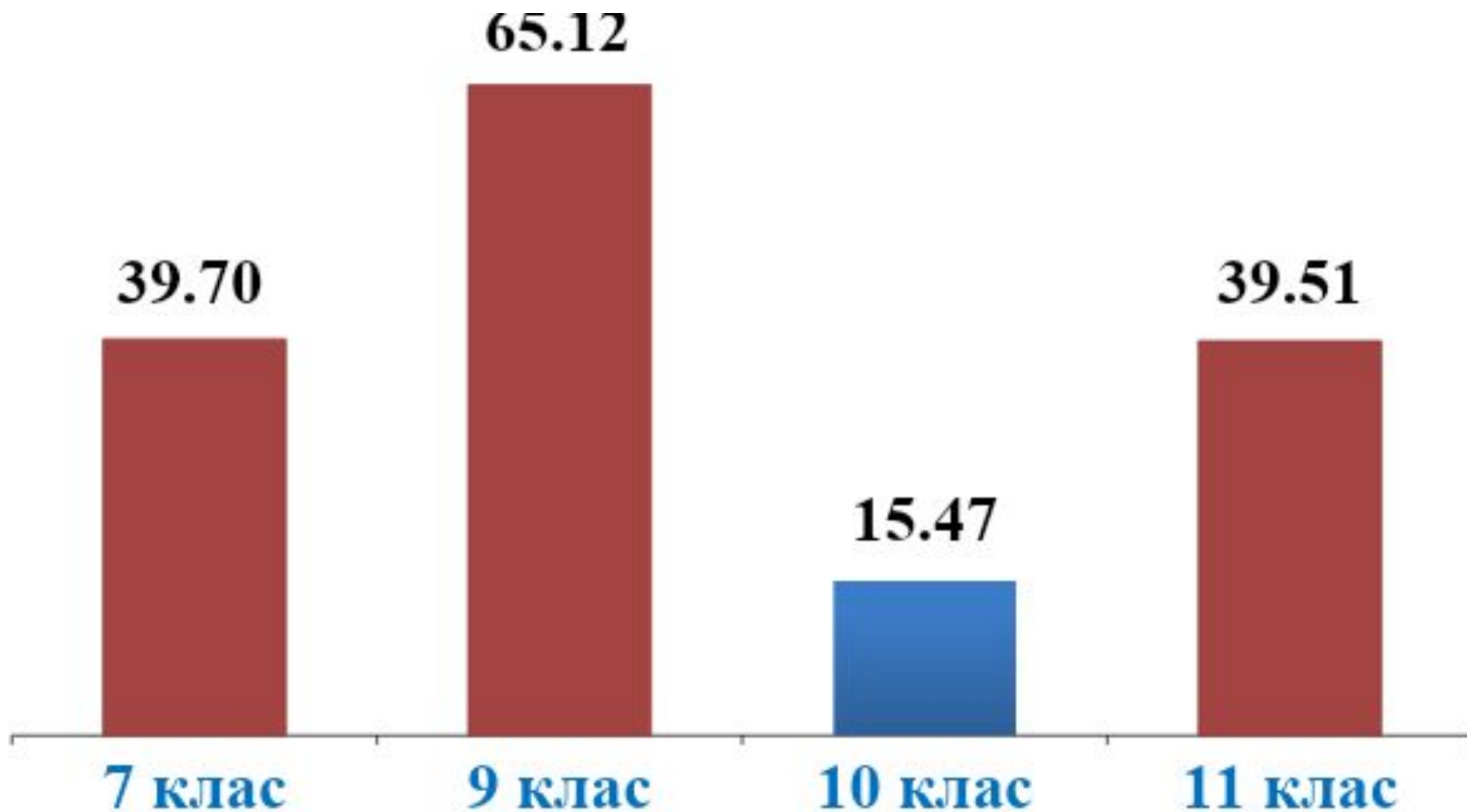


# 11 клас: 1939 р. – початок ХХІ ст.

ТЗ № 52



**Відсоток учасників ЗНО-2015, які не набрали жодного балу за виконання ТЗ на встановлення послідовності**





## ***ЗНО-2015: ІСТОРІЯ УКРАЇНИ***

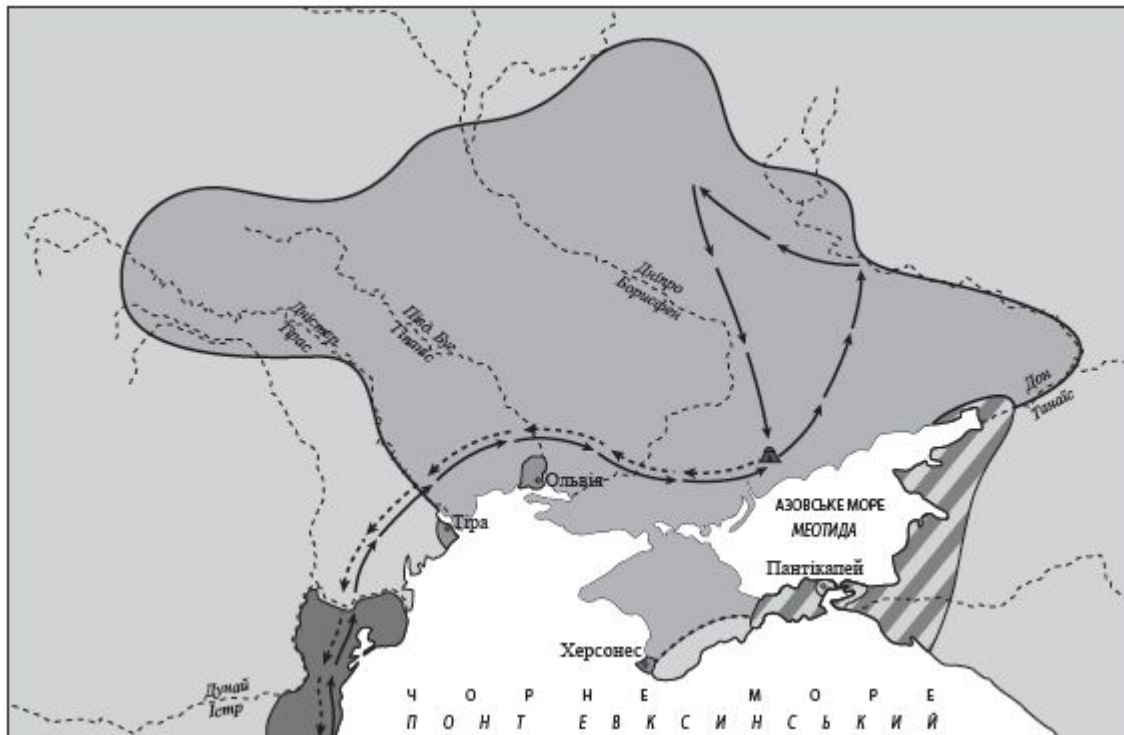
**ТЗ 3** вибором трьох  
правильних відповідей із  
семи запропонованих  
варіантів відповіді  
(з короткою відповіддю  
множинного вибору)



### 53. Проаналізуйте зображену картосхему.

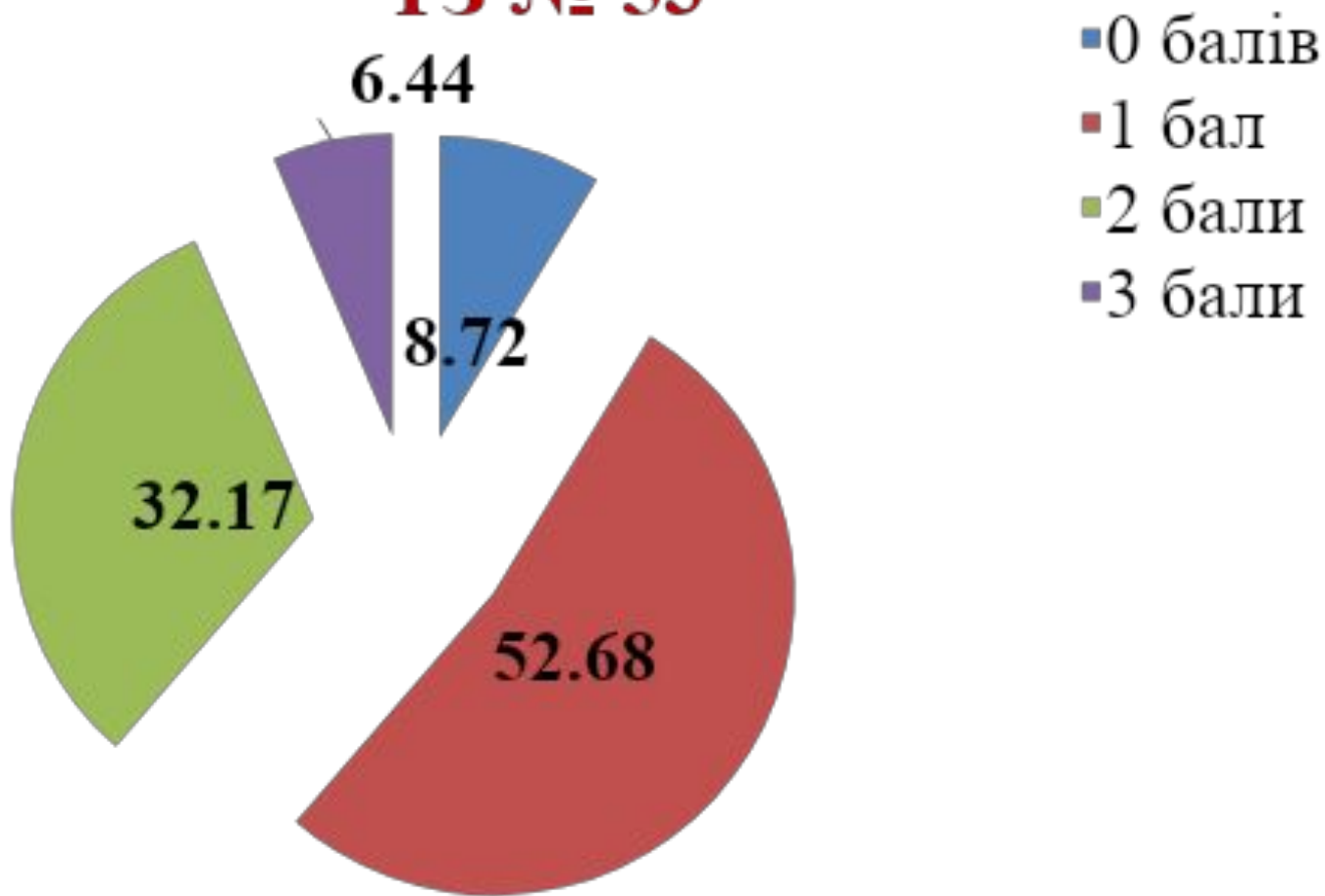
Картосхема дає змогу

- 1 визначити торговельний шлях «із варяг у греки»
- 2 окреслити територію Антського царства
- 3 указати основний шлях грецької колонізації
- 4 визначити межі розселення племен трипільської культури
- 5 вказати територію Боспорського царства
- 6 окреслити територію Великої Скіфії
- 7 вказати напрямок походу перського царя Дарія I

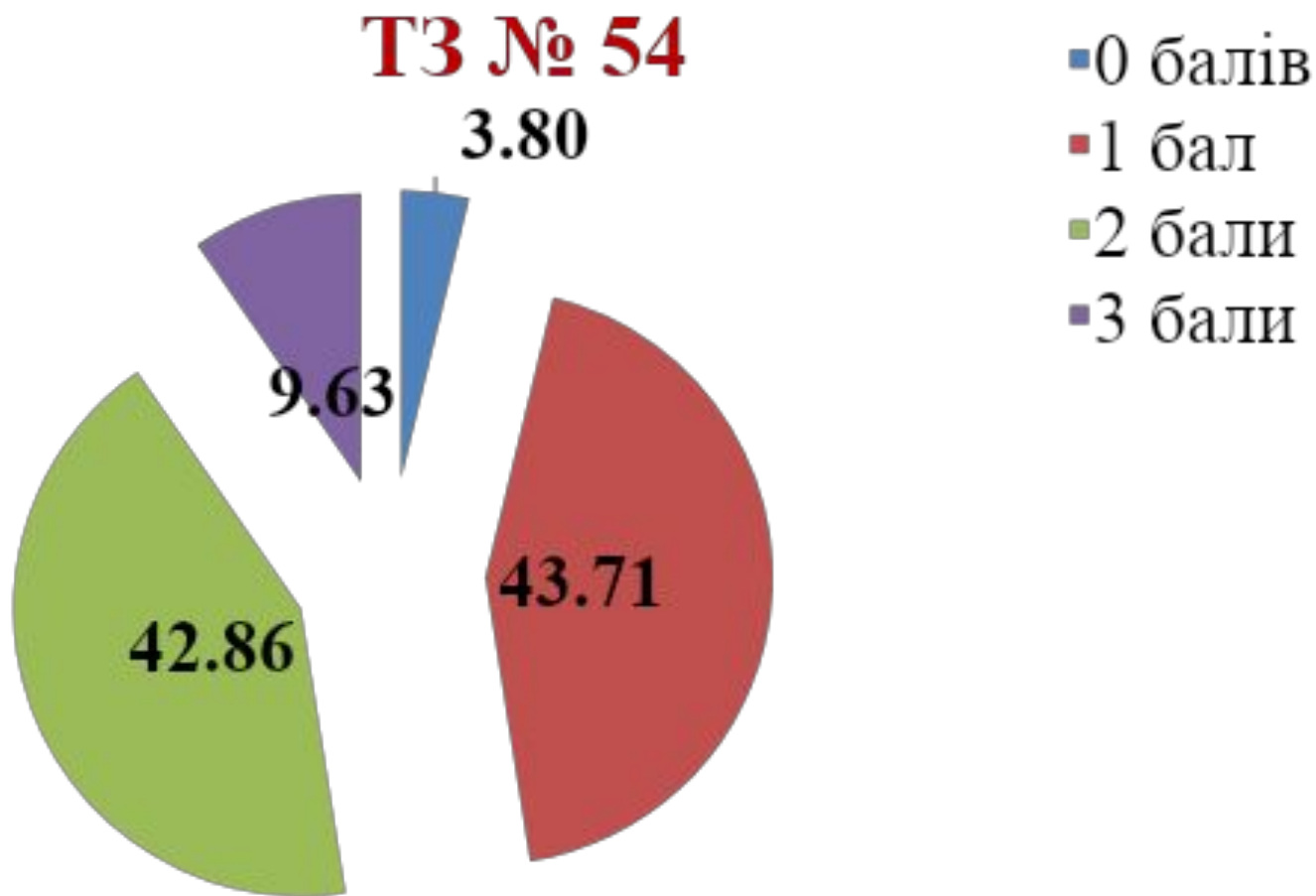


# 7 клас: Від найдавніших часів – перша половина XVI ст.

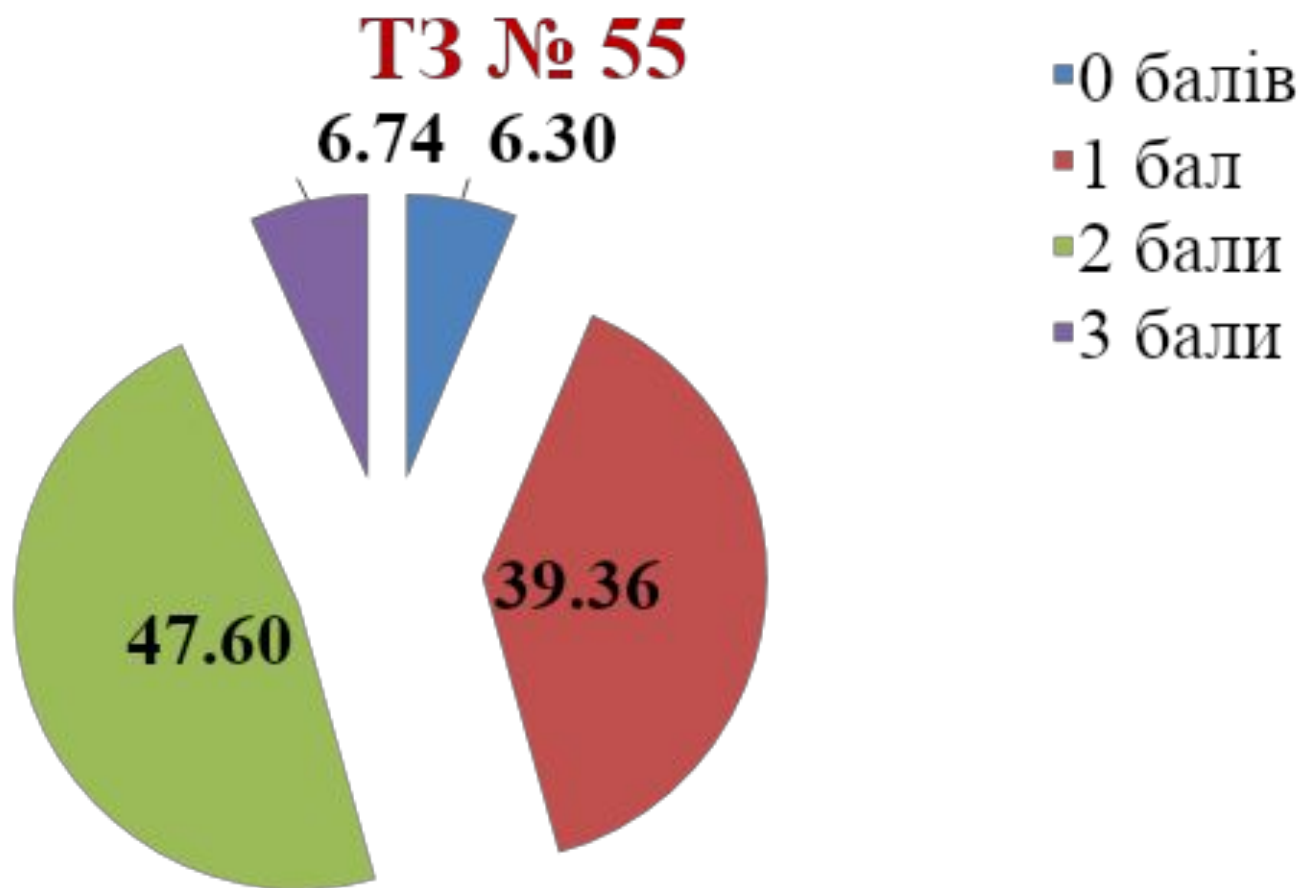
## ТЗ № 53



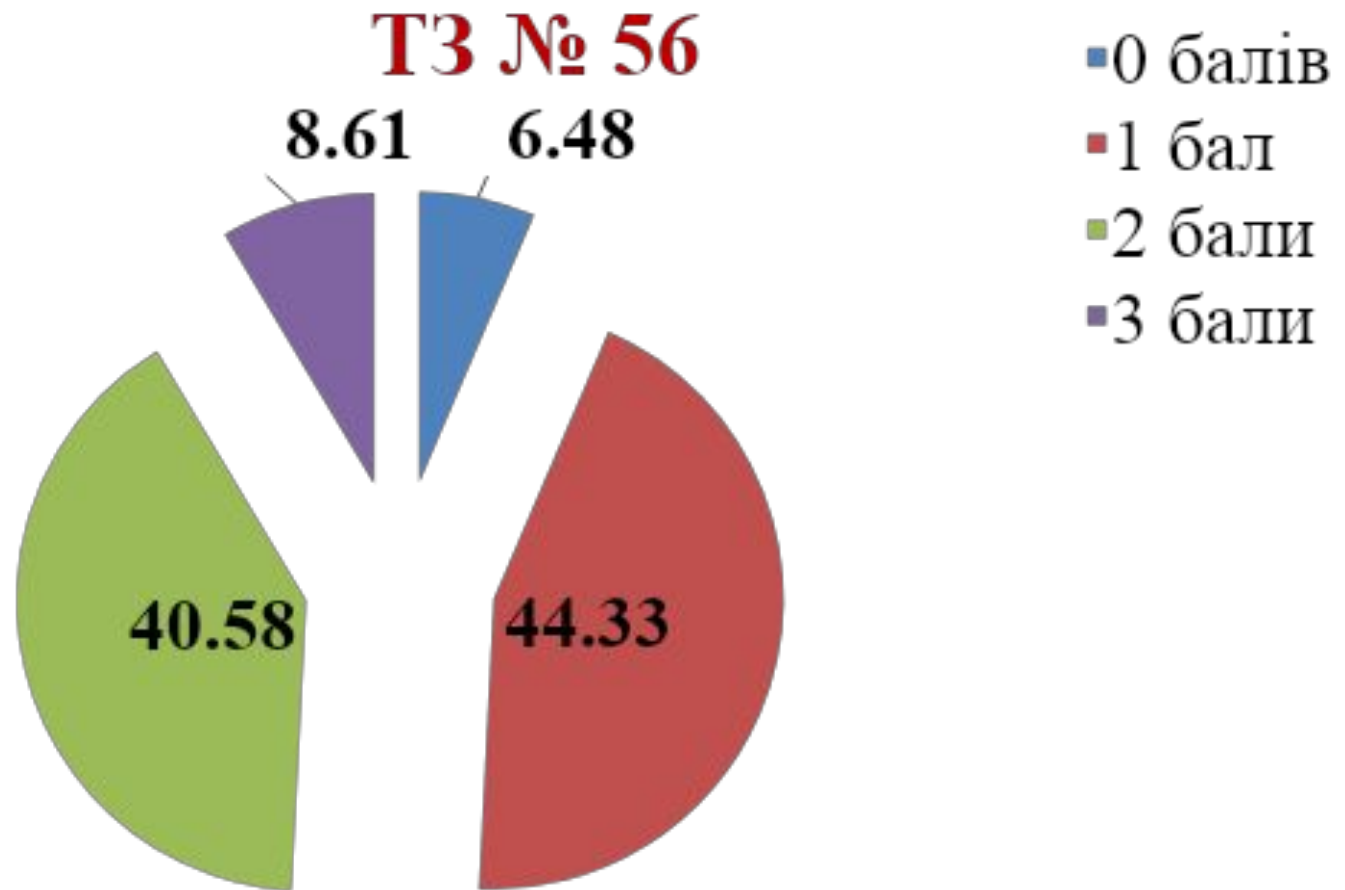
# 8 клас: Друга половина XVI ст. – перша половина XVIII ст.



# 9 клас: Друга половина XVIII ст. – 1914

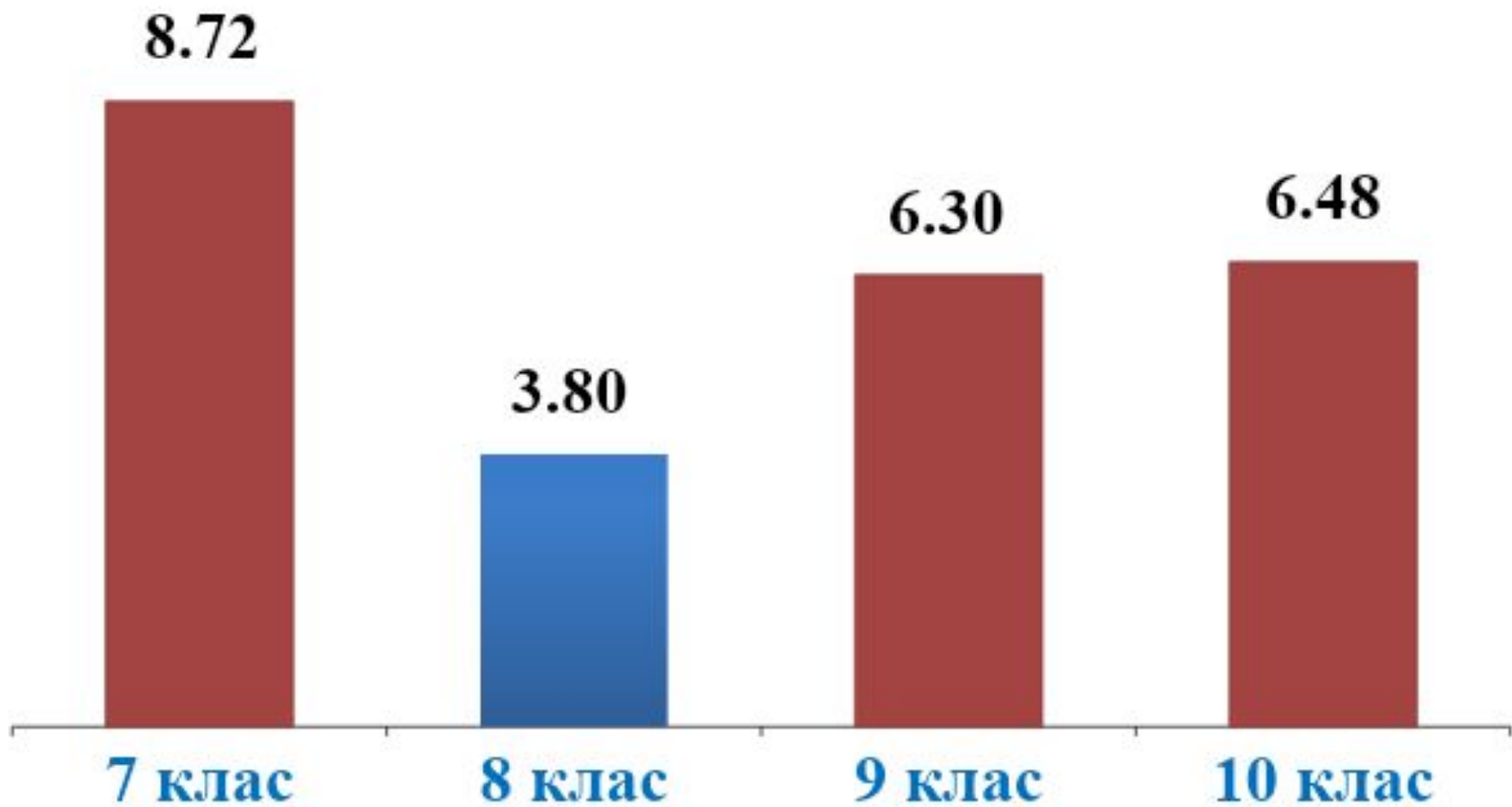


# 10 клас: 1914–1939 рр.





**Відсоток учасників ЗНО-2015, які не набрали жодного балу за виконання ТЗ множинного вибору (3 із 7)**





## ***ЗНО-2016: ІСТОРІЯ УКРАЇНИ***

# Особливості ЗНО-2016 з історії України



# **ЗНО - 2016** **ЗОВНІШНЄ НЕЗАЛЕЖНЕ ОЦІНЮВАННЯ**

## **ХАРАКТЕРИСТИКА СЕРТИФІКАЦІЙНОЇ РОБОТИ З ІСТОРІЇ УКРАЇНИ**

Зміст роботи визначено

**Програмою зовнішнього незалежного оцінювання з історії України**  
для осіб, які бажають здобувати вищу освіту на основі  
повної загальної  
середньої освіти (затверджено Міністерством освіти і  
науки України, наказ від 01.10.2014 р. № 1121  
(*у редакції* наказу від 05.11.2014 р. № 1276);  
*лист від* 20.10.2015 р. № 1/11-15239).

# **ЗМІНИ У СЕРТИФІКАЦІЙНІЙ РОБОТІ 2016 РОКУ У ПОРІВНЯННІ З 2015 РОКОМ**



*Змінена хронологічна послідовність  
розміщення блоків ТЗ*

*Збільшена кількість ТЗ з  
однією правильною  
відповіддю (46)*

*Запроваджена повторюваність  
форм ТЗ в I і II частинах СР*

*Збільшена загальна к-ть ТЗ (60)  
і макс. к-ть тестових балів (94)*

# ЗНО-2016: ХАРАКТЕРИСТИКА СЕРТИФІКАЦІЙНОЇ РОБОТИ З ІСТОРІЇ УКРАЇНИ



№ з/п	Форми т/з	Номери т/з		Схеми оцінювання К-ть Т/З
		I частина (ДПА)	II частина	
1	Завдання з вибором однієї правильної відповіді	№1–23*	№31–53	0 або 1 бал
2	Завдання на встановлення відповідності ( <i>«логічні пари»</i> )	№24–26*	№ 54–56	0, 1, 2, 3 або 4 бали
3	Завдання на встановлення правильної послідовності	№27–28 *	№ 57–58	0, 1, 2 або 3 бали
4	Завдання з вибором трьох правильних відповідей із семи запропонованих варіантів відповіді ( <i>з короткою відповіддю множинного вибору</i> )	№29–30*	№ 59–60	0, 1, 2 або 3 бали
5	<b>УСЬОГО Т/З</b>	<b>30</b>	<b>30</b>	<b>60</b>
6	<b>Макс. к-ть балів</b>	<b>47</b>	<b>47</b>	<b>94</b>

# ПРОБН



# - 2016

## Е

### ПРОБНЕ ЗНО – 2016: квітень 2016 року

№ з/п	Предмет ЗНО-2016	Дата
1	Українська мова і література	02 квітня
2	<u>Історія України</u> , математика, російська мова, іспанська мова, англійська мова, німецька мова, французька мова, біологія, фізика, хімія, географія	09 квітня





# 2016



## ОСНОВНА СЕСІЯ ЗНО-2016: травень 2016 року – ДПА у формі ЗНО

№ з/п	Предмет ЗНО-2016	Дата	Форма проведення ДПА	Примітка
1	Українська мова і література	05 травня	У формі ЗНО; зараховуються лише результати з української мови	
2	Математика	11 травня	У формі ЗНО	Випускник має право обрати один із зазначених предметів незалежно від профілю навчального закладу
3	<b>Історія України</b>	<b>13 травня</b>	У формі ЗНО; зараховуються лише результати ЗНО-2016 (період ХХ – початок ХХІ століття)	



# 2016



## Червень 2016 року – основна сесія ЗНО-2016

№ з/п	Предмет ЗНО-2016	Дата проведення
1	Російська мова	3 червня
2	Іспанська мова	6 червня
3	Англійська мова	7 червня
4	Німецька мова	8 червня
5	Французька мова	9 червня
6	Біологія	10 червня
7	Фізика	13 червня
8	Географія	15 червня
9	Хімія	17 червня





# 2016



## Червень - липень 2016 року – додаткова сесія ЗНО-2016

№ з/п	Предмет ЗНО-2016	Дата проведення
1	Українська мова і література	14 червня
2	Математика	16 червня
3	<b>Історія України</b>	<b>21 червня</b>
4	Російська мова	22 червня
5	Англійська мова	23 червня
6	Іспанська мова	23 червня
7	Німецька мова	24 червня
8	Французька мова	24 червня
9	Біологія	29 червня
10	Фізика	30 червня
11	Географія	01 липня
12	Хімія	04 липня



**ДЯКУЮ  
ЗА УВАГУ!**

