




# Итоговый тест по математике

1 класс



Всего заданий

**14**

[Начать тестирование](#)

Время тестирования

**10**

мин.

Укажи, где числа **2, 8, 14, 16, 7, 11, 10, 20, 5** записаны в порядке убывания.

**1** 2, 5, 7, 8, 10, 11, 14, 16, 20

**2** 2, 8, 7, 5, 16, 14, 11, 10, 20

**3** 20, 16, 14, 11, 10, 8, 7, 5, 2

**4** 10, 11, 2, 14, 5, 16, 7, 8, 20



# Назови соседей числа 17.

1 16 и 19

2 15 и 18

3 1 и 7

4 16 и 18



Найди сумму чисел 9 и 6.

1  $9 - 6$

2  $9 + 6$

3  $9 < 6$

4  $9 > 6$



Укажи, где записано  
неравенство.



1

$3 + 6$



2

$6 = 6$



3

$7 > 5$



4

$4 + 6 = 10$



# Какое неравенство верное?

1  $4 + 7 > 11$

2  $5 + 9 > 15$

3  $15 - 8 < 9$

4  $12 - 6 < 6$



В каком примере ответ равен  
16?

1  $9 + 8$

2  $5 + 12$

3  $20 - 6$

4  $8 + 8$



# Сколько прямых здесь изображено?



1

2



2

4



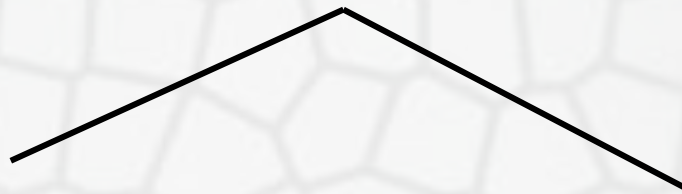
3

5



4

6





Где изображена ломаная,  
состоящая из четырёх звеньев?



1

А



2

Б




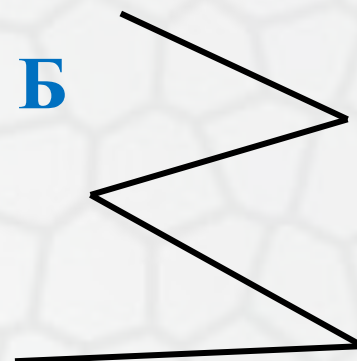
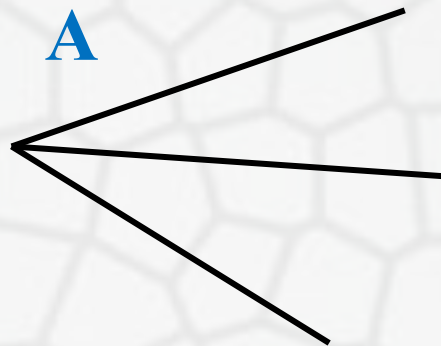
3

В



4

Г



Выберите верное решение задачи.

На уроке труда дети делали поздравительные открытки. Сколько всего открыток получилось, если девочки сделали 9 открыток, а мальчики – 7?

1  $9 + 7$

2  $9 - 7$

3  $9 - 7 + 9$

4  $9 + 7 - 9$



Найди ответ такой же, как в  
примере  $13 - 7 + 6$ .



1  $7 + 7$



2  $13 - 8 + 7$



3  $8 + 8 - 5$



4  $7 + 3 + 3$



Какое число можно поставить  
вместо пропуска в неравенство

$$1 \text{ дм } 5 \text{ см} > \square ?$$

1 18 см

2 15 см

3 10 см

4 2 дм



В какой паре примеров ответы  
одинаковые?

1  $12 - 5$  и  $16 - 8$

2  $6 + 6$  и  $7 + 4$

3  $9 + 5$  и  $7 + 7$

4  $13 - 8$  и  $11 - 5$



Поставь вопрос к задаче так, чтобы она решалась в два действия.

Оля нашла 7 белых грибов, а Коля – на 4 гриба больше.

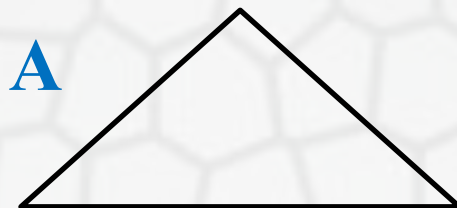
- 1 Сколько грибов нашёл Коля?
- 2 Сколько грибов нашли они вместе?
- 3 Сколько грибов нашла Оля?
- 4 Сколько грибов у них осталось?



Где изображена ломаная, состоящая из трёх звеньев?

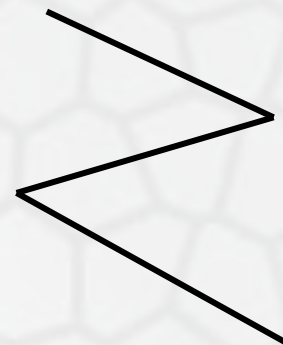
 1

А

 2

Б

В

 3

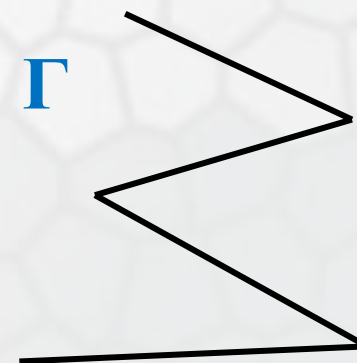
В

Б

 4

Г

Г



# Результаты тестирования

Оценка

Правильных ответов

Набранных баллов

Ошибки в выборе  
ответов на задания:



Всего заданий

бал.

Снова

Выход

Затрачено времени