

**Задачи на нахождение
неизвестного третьего
Слагаемого
22 апреля**



*Школа России
Математика 2 класс*

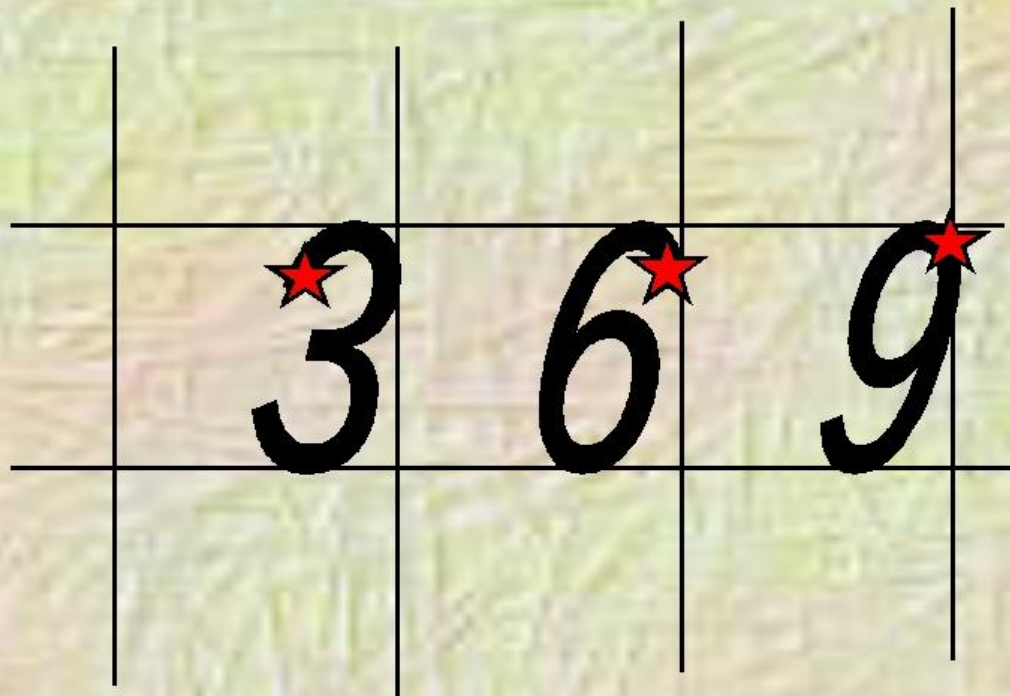


22 апреля
Классная работа

Чистописание

пропиши строчку

Чистописание:



Просмотри видеоурок 1 часть

**Математический диктант:
слушай учителя и
записывай только ответ
через запятую.**



Прочитай разными способами.



$$3 \cdot 5 = 15$$

$$45 : 9 = 5$$

$$23 - 7 = 16$$

$$18 + 7 = 25$$

УСТНО



	цена	КОЛ-ВО	СТОИМОСТ Ь
	10 руб.	2 шт.	? рублей
	10 руб.	?шт.	30 рублей
			

Составь задачи и реши
УСТНО




10

рублей




9

рублей



12

рублей



6

рублей

ФИЗМИНУТКА

СДЕЛАЙ ФИЗМИНУТКУ,
КОТОРАЯ ТЕБЕ БОЛЬШЕ
ВСЕГО НРАВИТСЯ



Просмотри видеоурок 2 часть



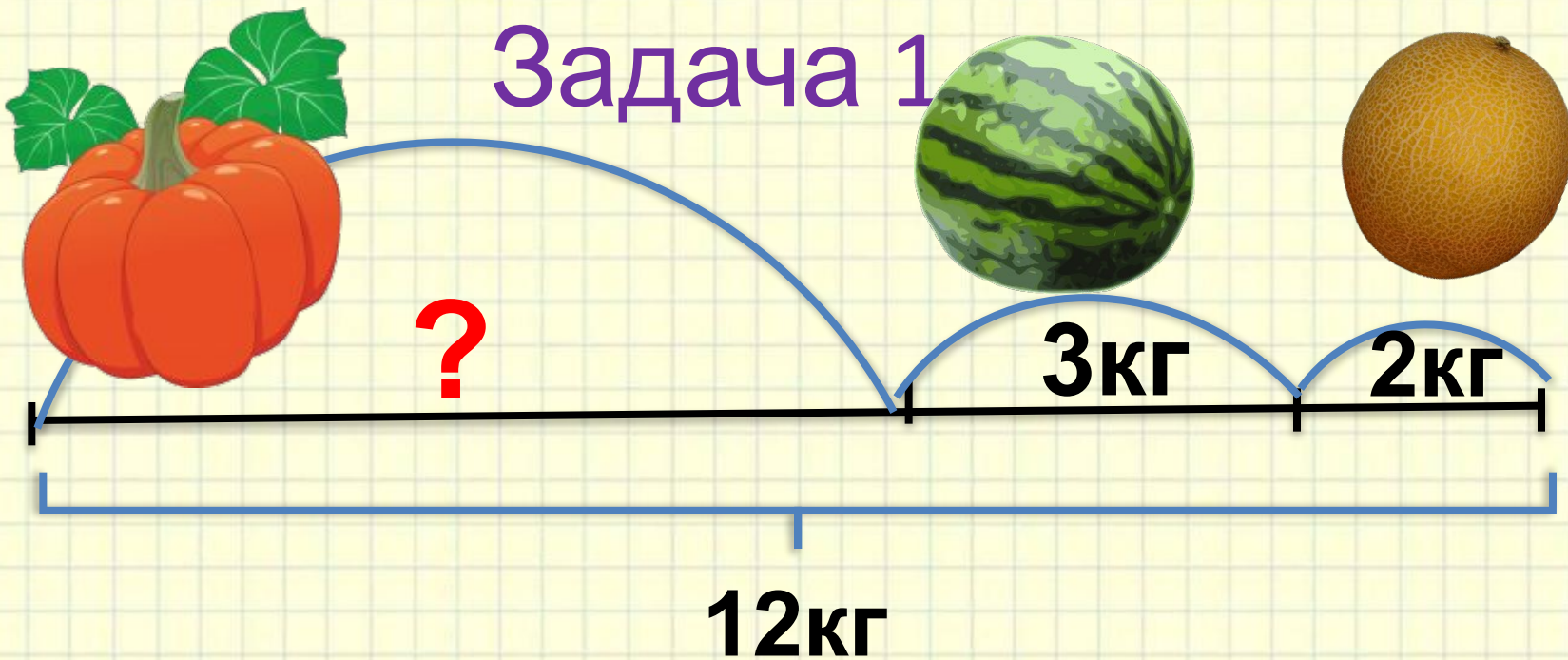
Работаем по учебнику



Стр. 76 №1



Задача 1



$$3 + 2$$

$$12 - 3$$

$$12 - (3 + 2)$$

$$12 - 2 - 3$$

Найди неизвестное слагаемое.

УСТНО



$$10 + 5 + \square = 22$$

$$20 + \square + 7 = 30$$

$$\square + 15 + 4 = 35$$



Работа по учебнику стр. 76-77:

- Стр 76, задача 2 ПИСЬМЕННО
- Стр. 77, задача 4 УСТНО
- Стр. 77, уравнения 6
ПИСЬМЕННО



Рабочая тетрадь с.67

Задания на смекалку

УСТНО



Масса арбуза **12** кг. Он легче дыни на **3** кг и легче
тыквы

на **16** кг. Какова ма...? Какова масса тыквы?
УСТНО



15 кг
ДЫНЯ

От Кенгуру из Австралии
получена шифровка:

12342562756278.

В ней разные цифры
обозначают разные буквы,
а одинаковые цифры —
одинаковые буквы.

Что могло быть
написано в шифровке?

- (А) ДУМАЙ И ТРУДИСЬ
- (Б) ГУЛЯЙ И ОТДЫХАЙ
- (В) ПРИВЕТ ОТ КЕНГИ
- (Г) ВПЕРЕД К ПОБЕДАМ
- (Д) МОЙ ВОПРОС ПРОСТ



Д

Домашнее задание

Стр. 76 № 3, № 5.

Молодец!

