



СВОЯ

игра

# Кривая Производственных возможностей

Типы экономических систем

Спрос и закон спроса

Предложение и закон предложения

Взаимодействие спроса и  
предложения

Безграничность потребностей.

Проблема выбора.

Ограниченность ресурсов

Ценовая эластичность спроса и  
предложения.

Равновесная цена и равновесное  
количество

# СВОЯ

A large eagle is shown in flight, its wings spread wide, flying over a dark lake at night. The sky is a deep blue, and a crescent moon is visible in the upper right corner. The overall scene is serene and atmospheric.

игра

1

раунд

**Кривая  
производственных  
возможностей**

100   200   300   400   500

**Типы экономических  
систем**

100   200   300   400   500

**Спрос и закон спроса**

100   200   300   400   500

**Предложение и закон  
предложения**

100   200   300   400   500

**Взаимодействие спроса  
и предложения**

100   200   300   400   500

КОТ

В МЕШКЕ



**При увеличении предложения, увеличение качества ресурсов и технический прогресс, характеризующие растущую экономику, КПВ смещается.....**



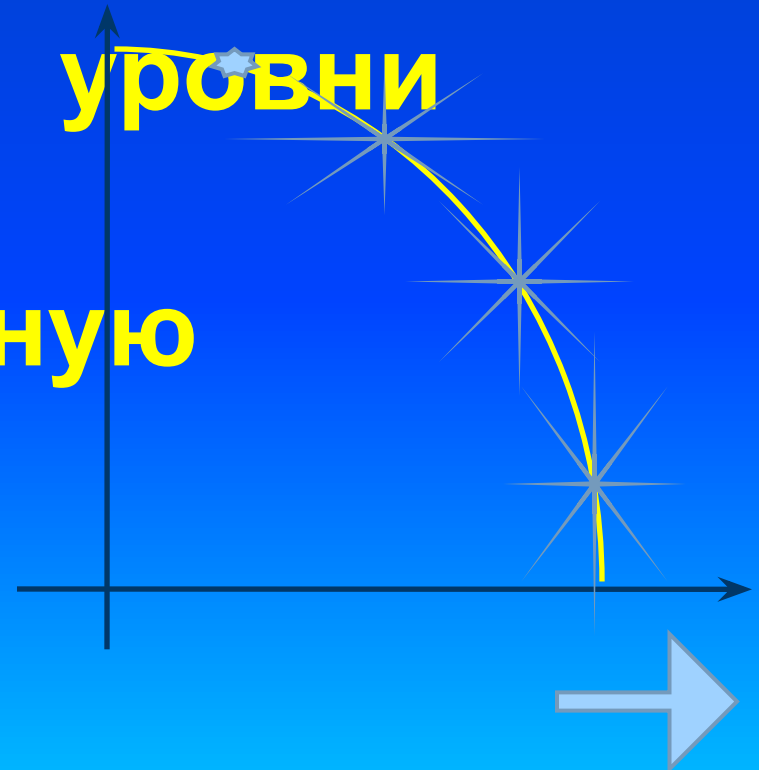
**Все точки на КПВ отражают:**

**а) распределение эффективности;**

**б) неполное использование ресурсов;**

**в) недостижимые уровни производства;**

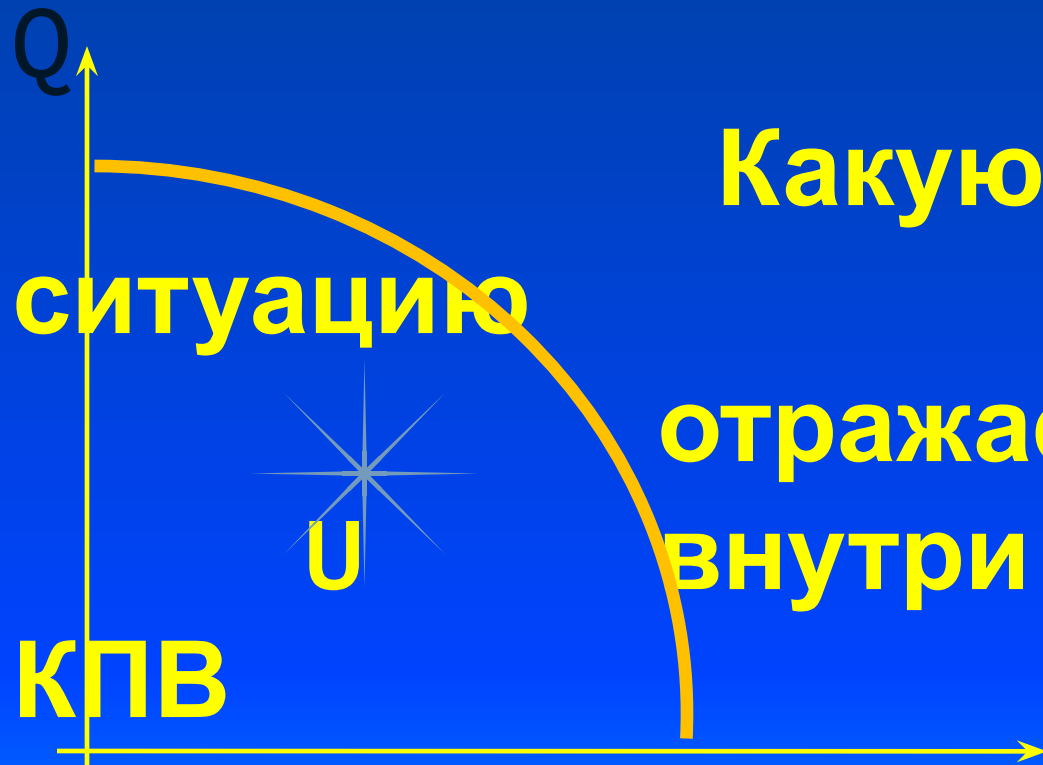
**г) производственную эффективность.**



**Кривая производственных  
возможностей показывает  
эффективное  
использование...**







Q



Какую ситуацию  
отражает точка W



расположенная

вне КПВ?



В Японии господствует частная собственность на факторы производства, но роль государства в экономической жизни очень велика. О какой экономической системе можно говорить в данном случае?



... Это способ организации экономической жизни, при котором земля и капитал находятся в общем владении, а ограниченные ресурсы распределяются в соответствии с длительно существующими традициями. О какой экономической системе идет



К какому типу экономических систем будет относиться экономика США?



Каковы основные отличия  
смешанной системы от  
командной и рыночной?



# АУКЦИОН





Перед вами схема «Кругооборот доходов и расходов» Опишите основные свойства модели кругооборота?





...можно представить в виде шкалы или кривой, показывающей количество продукта, которое потребители готовы и в состоянии купить по каждой конкретной цене из ряда возможных в течение определенного периода времени.



**КОТ**

**В МЕШКЕ**



Продолжите предложения.  
При прочих равных условиях  
величина спроса находится...

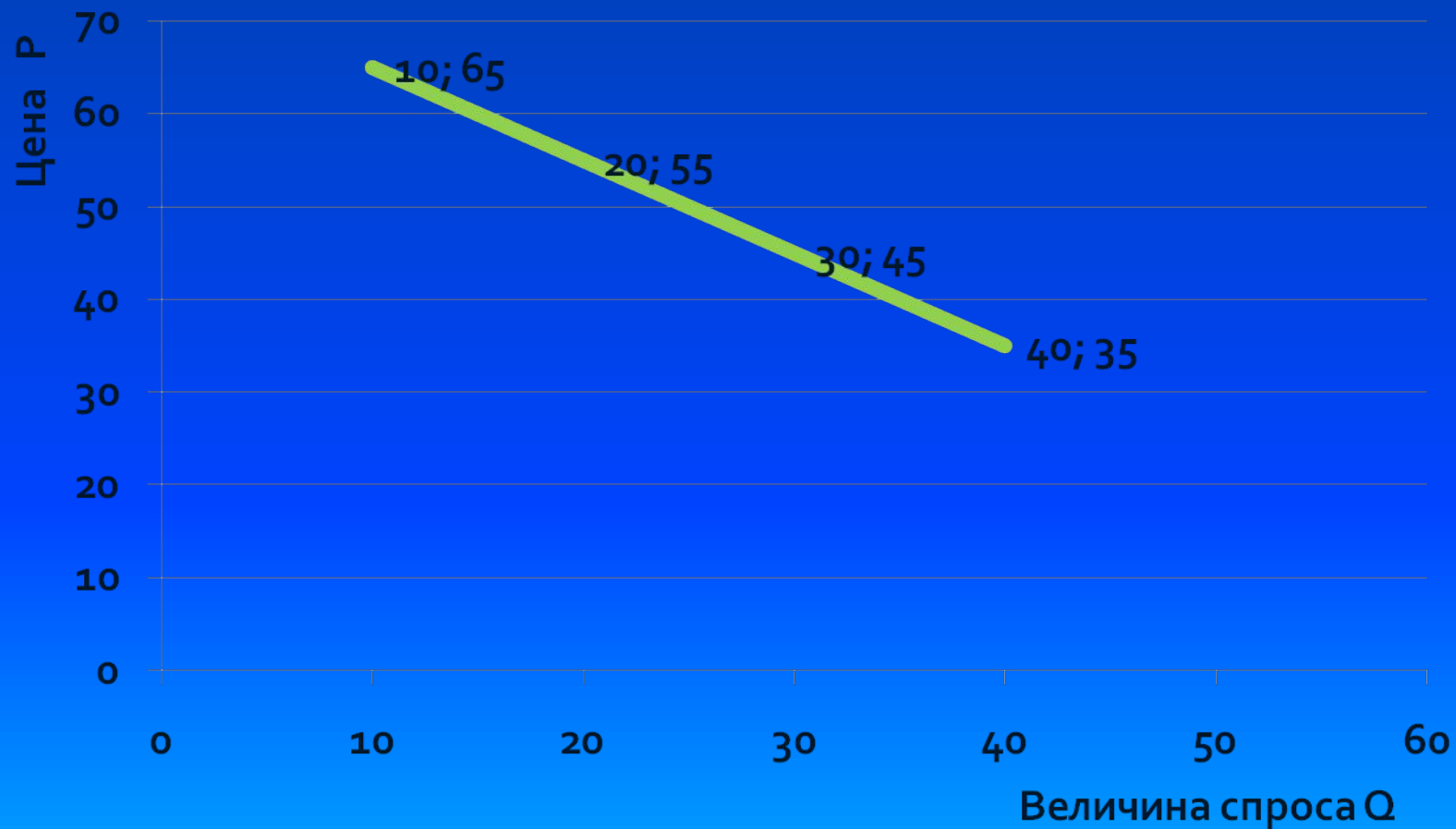


Используя шкалу спроса,  
постройте кривую спроса.

Цена(руб.) P	Величина спроса (шт) Q
10	65
20	55
30	45
40	35
50	20



# Правильный ответ



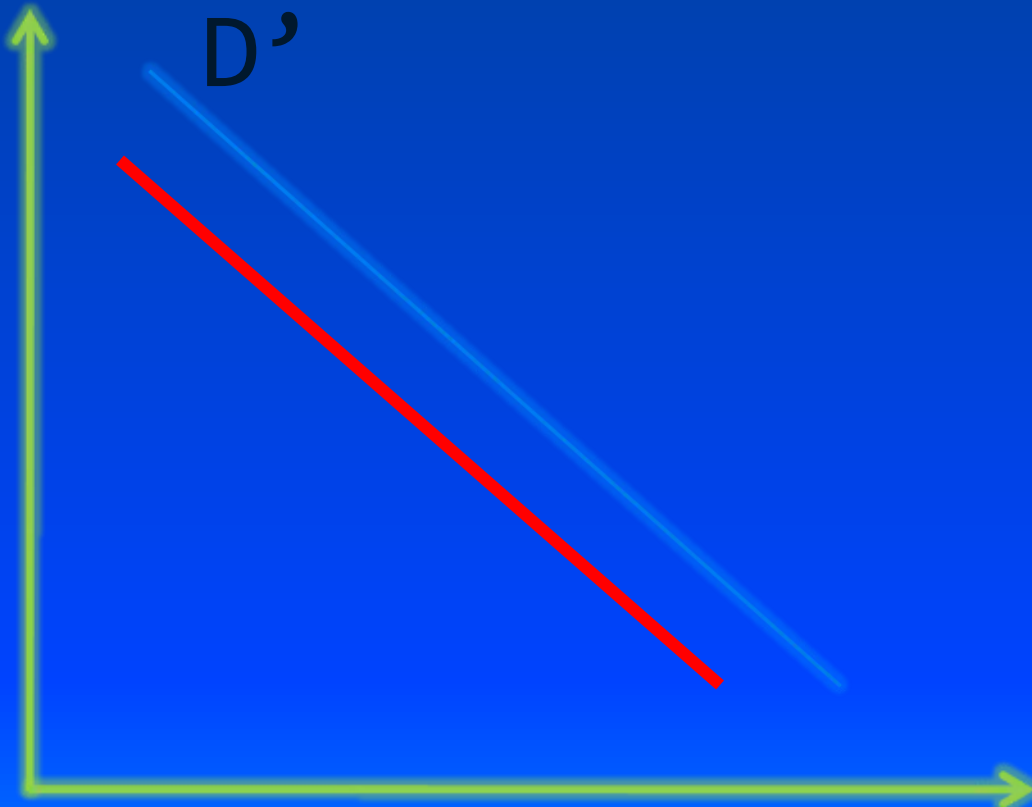
В результате рекламной кампании население стало предпочитать кока-колу квасу. Что произойдет с кривой спроса на квас?



P

D'

Q




Определите следующие сообщение из города Хаял (Великобритания) «Цены на рыбном рынке сегодня упали до такого низкого уровня, который местные комментаторы назвали «катастрофой», - и все из-за дефицита картофеля. Картофель служит одним из главных ингредиентов блюд, которое входит в меню почти любого кафе, а именно рыбы с жаренной картошкой». О каком факторе спроса идет речь?





... это можно определить как шкалу, показывающую количество продукта, которое производитель желает и способен произвести и предложить к продаже на рынке по каждой конкретной цене из ряда возможных цен в течение определенного периода времени.



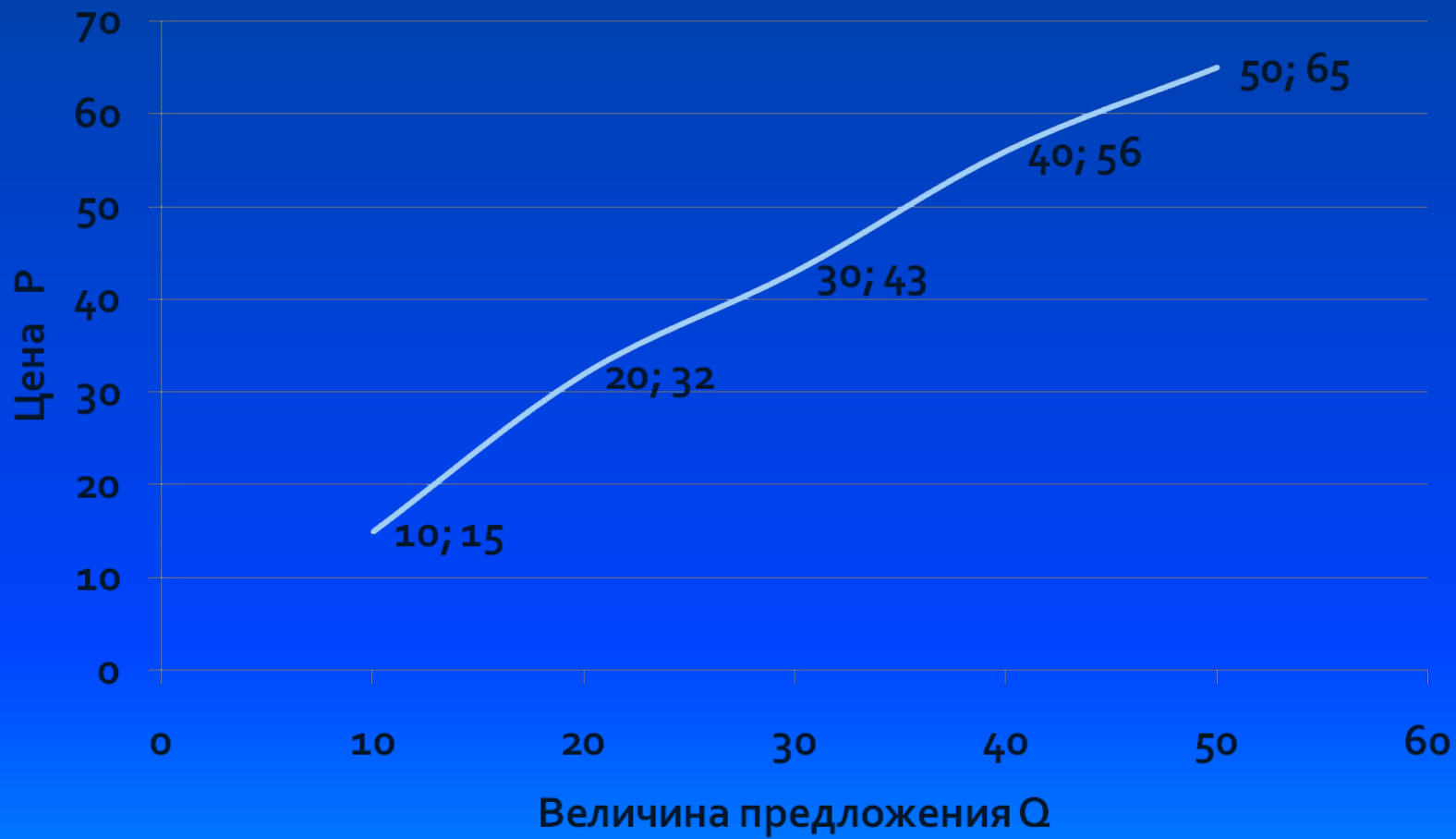
Закон предложения гласит  
при равных прочих условиях  
величина предложения  
находится в...



Используя шкалу предложения, постройте кривую предложения.

Цена P	Величина предложения Q
10	15
20	32
30	43
40	56
50	65






Предположим, что в  
производство стали внедрена  
новая технология,  
обеспечивающая экономию  
затрат. Что случится с  
предложением на рынке  
стали?






P



$S'$

$S''$

Q



«На рынке кукурузы спрос часто превышает предложение, а иногда превышает спрос».

«Цена на кукурузу повышается и падает в результате изменения спроса». В каком из этих утверждение термины «предложения» и «спроса» употребляются правильно?

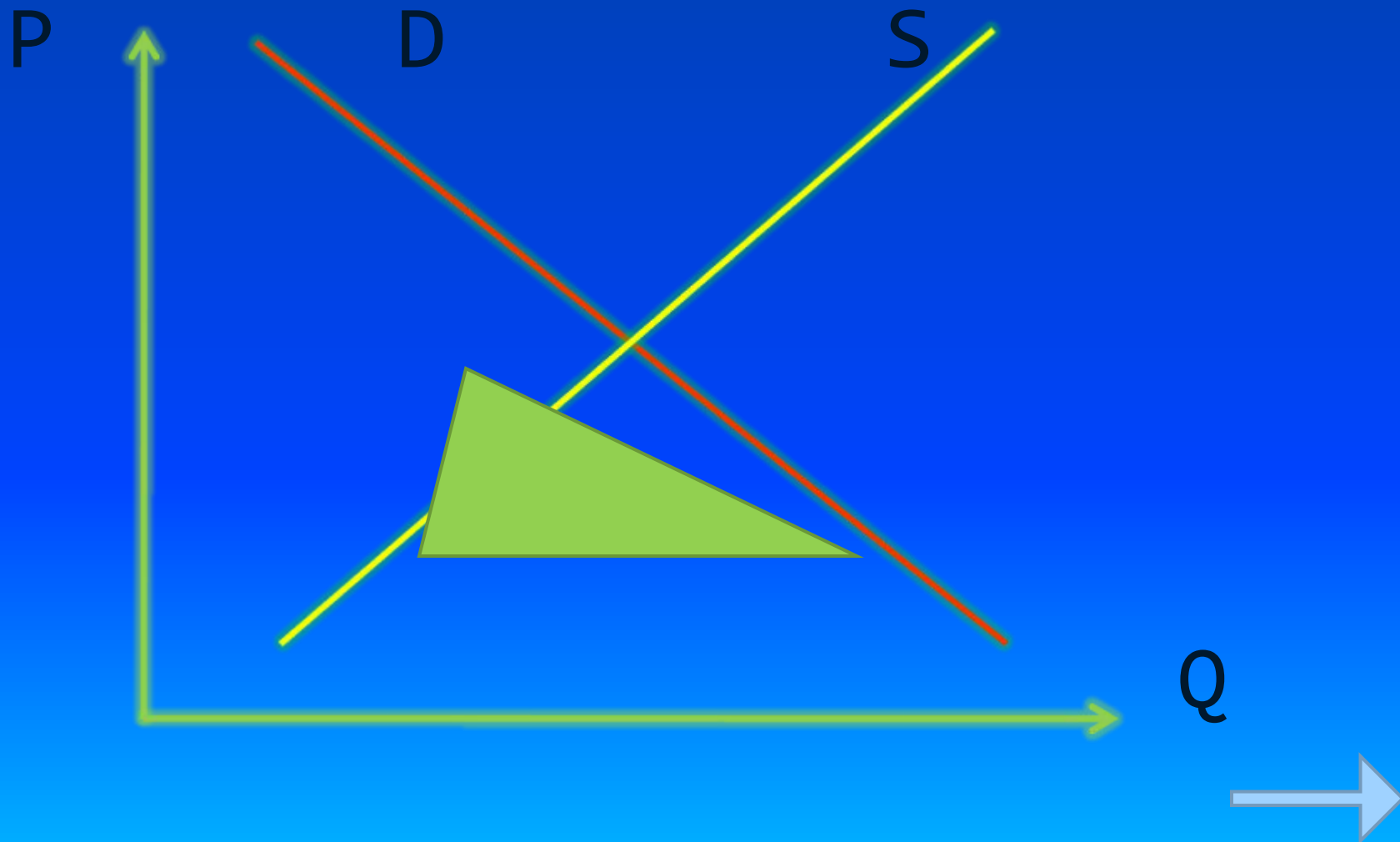


Цена, при которых  
количество товара,  
предлагаемого продавцами,  
совпадает с количеством  
товара, которое готовы  
купить покупатель,  
называется...

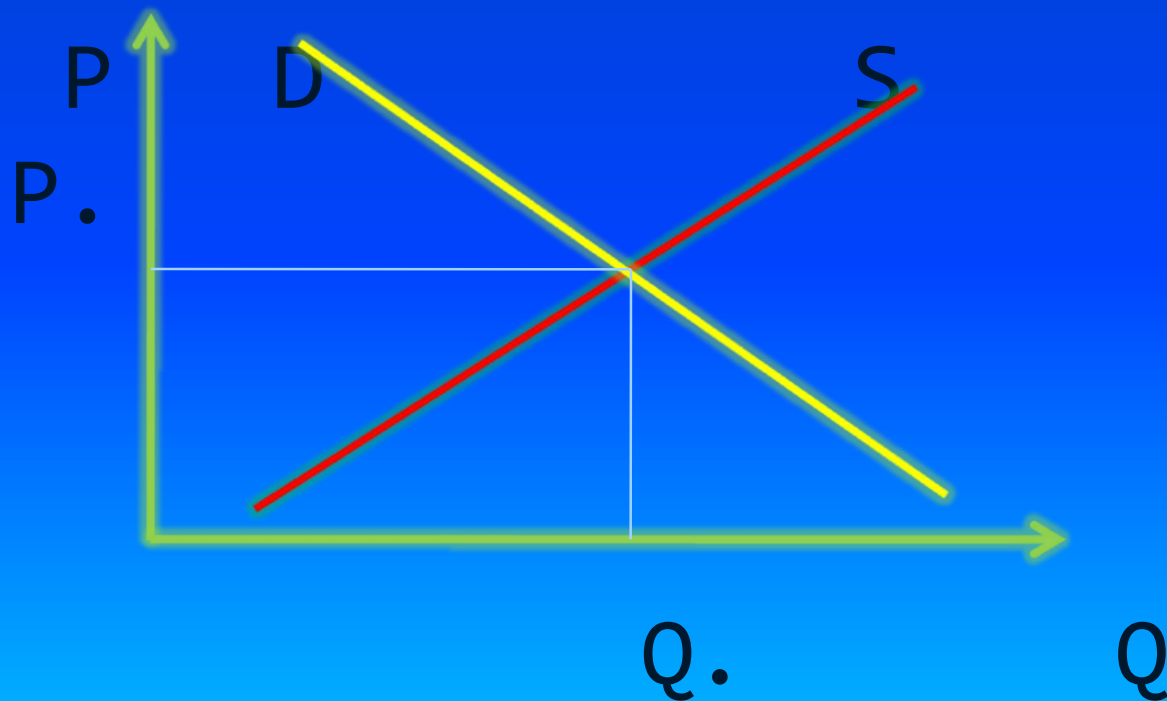


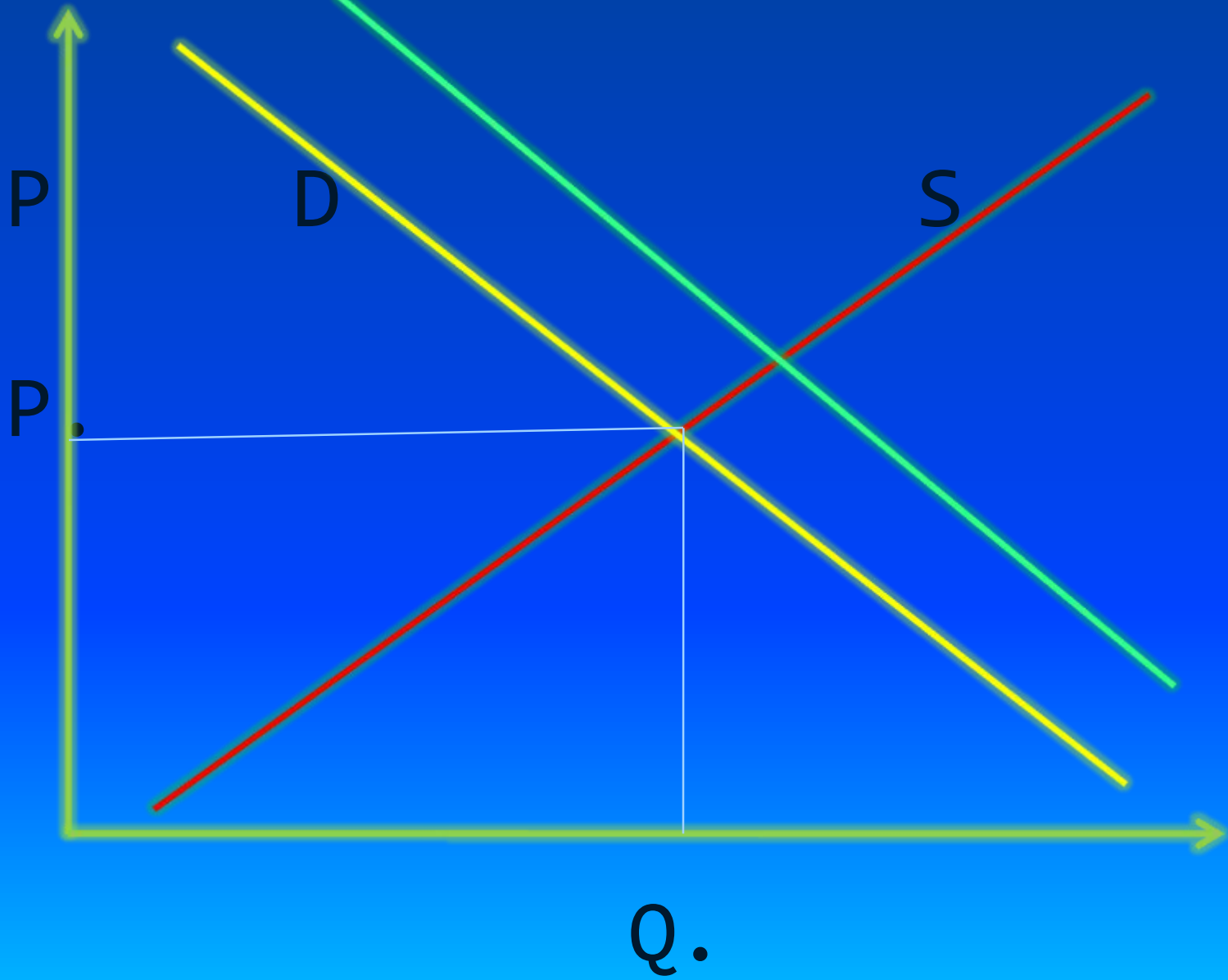


Что происходит на данном участке графика? (дефицит или избыток)





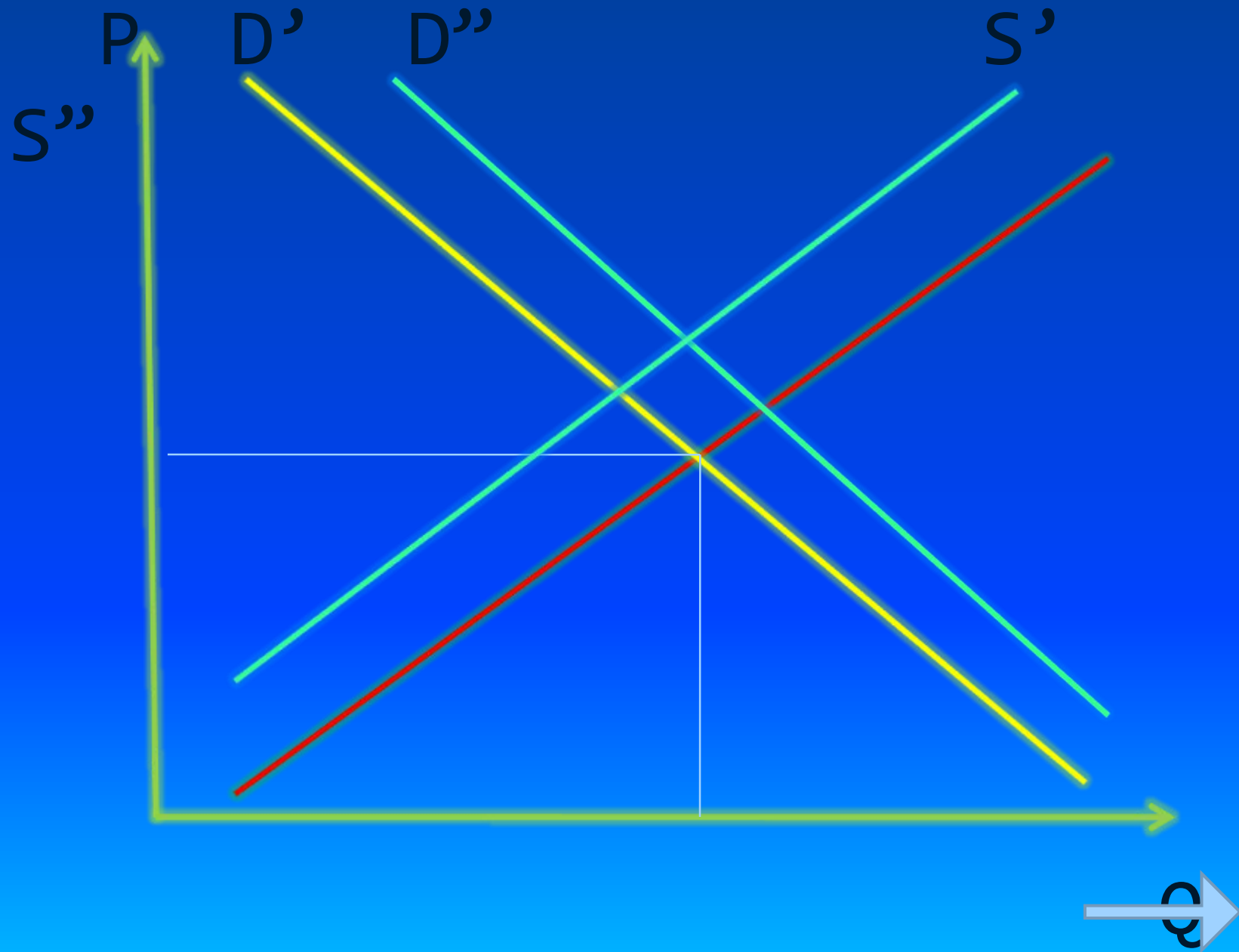
Что произойдет с равновесной ценой и равновесным количеством, если спрос возрастет, а предложение остается неизменной?






Что произойдет с равновесной ценой и равновесным количеством, если предложение уменьшится, а спрос возрастет?






Каковы последствия  
установления государством  
«Потолка» цен?



Экономика с перевода с  
греческого “oіkonoμiα”  
означает...




Ресурсы, которые  
используются людьми для  
производства экономических  
благ, называют...





Факторы производства:  
земля, труд, капитал,  
предпринимательство,  
приносят их владельцам  
доходы. Какие доходы?



Многообразиие ресурсов,  
которые имеет в своем  
распоряжение общество,  
предполагает, что и факторы  
производства многообразны.

Перечислите факторы  
производства?



«Уровень безработицы в России в 1998г. составил 11,5%». «Неурожай мандаринов в Грузии привел к повышению цен на мандарины на московских рынках». В каких из этих утверждений относится к микроэкономике?





**СВОЯ**

**игра**

**2 раунд**

**Ограниченность ресурсов.**

**Ценовая эластичность спроса и предложения.**

**Спрос и предложение.**

**Альтернативная стоимость и КПВ**

**Ценовая  
эластичность спроса  
и предложения**

600

700

800

900

**Спрос и  
предложение**

600

700

800

900

**Альтернативная  
стоимость и КПВ**

600

700

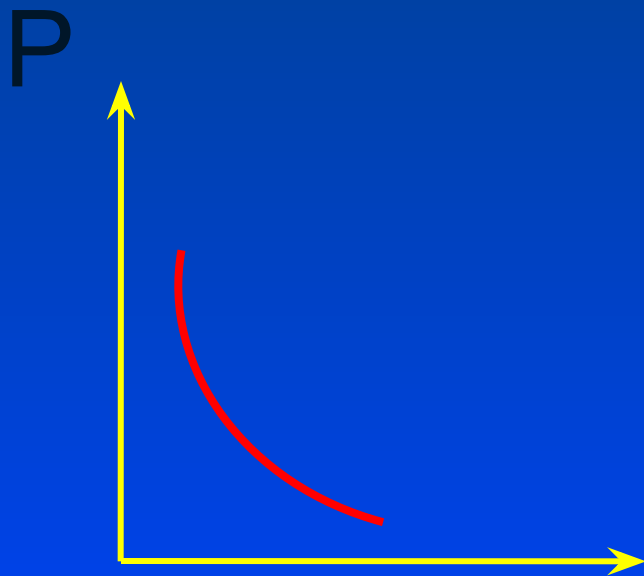
800

900



**Если при подорожании  
велосипедов на 10% величина  
спроса на них упадет на 15% то  
спрос на данный товар будет**





Данный график показывает, что при изменении цены величины спроса изменяется незначительно. Экономисты говорят, что спрос на данный товар...





**КОТ**

**В МЕШКЕ**



**При повышение цены с 25 до 28 рублей, количество покупаемого товара увеличивается с 10 до 12 шт. Рассчитайте коэффициент ценовой эластичности спроса.**



При изменении цены на тюльпаны с 0,7 до 1,2 гульденов за штуку величина их предложения увеличилась с 200 тыс. шт. до 280 тыс. шт. Эластично или неэластично по цене предложение тюльпанов?



# АУКЦИОН



Уравнение функции спроса на капусту  $Q_d=14-3P$ ; уравнение функции предложения капусты  $Q_s=-7+4P$ . Найдите равновесную цену и равновесный объем.



Допустим, функция спроса на некоторые товары равна  $Q_d=100-P$ , а функция предложения составляет  $Q_s=2P-50$ .

А) найти равновесную цену, равновесное количество и выручку.

Б) правительство решило снизить цену до 45 р., стремясь стимулировать потребление. К чему это приведет? К дефициту или к избытку.



К какому фактору производства относятся данные рисунки?

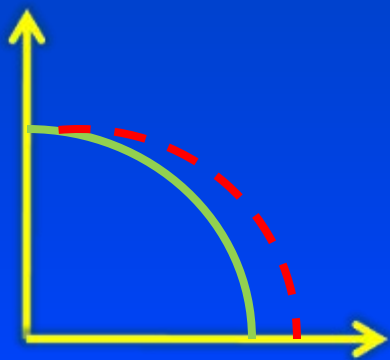


Перед Вами гвоздь и сруб  
дома – это  
взаимозаменяемые товары  
или взаимодополняющие  
товары

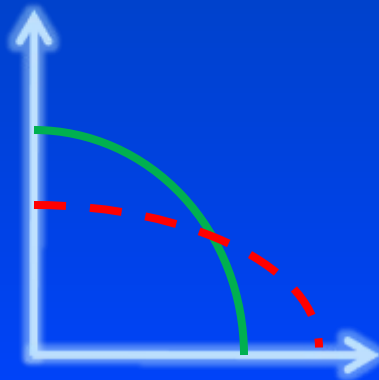




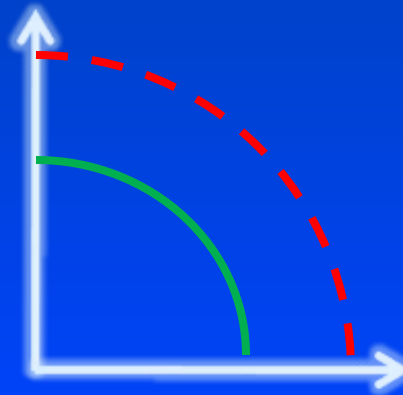
Повысилась квалификация производителей косметики. Какой вариант графика кривой производственной возможностей отражает это обстоятельство?



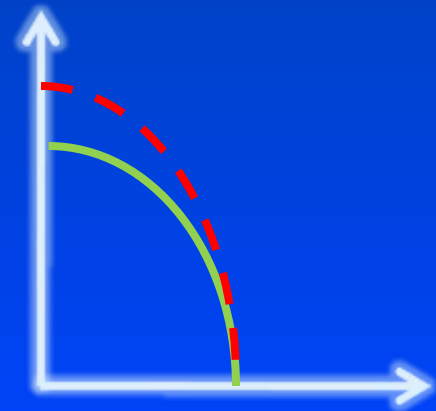
А



Б



В



Г



### **В. Антонов, Э. Голстин:**

*«Способ согласования деятельности производителей в условиях разделения труда называется экономической системой».*

### **П. Грегори, Р. Стюард:**

*«Экономическая система – совокупность механизмов и институтов для принятия и реализации решений, касающихся производства, дохода и потребления в рамках определенной географической территории».*

### **Ф. Прайор:**

*«Экономическая система включает все те институты, организации, законы и правила, традиции, убеждения, позиции, оценки, запреты и схемы поведения, которые прямо или косвенно воздействуют на экономическое поведение и результаты».*

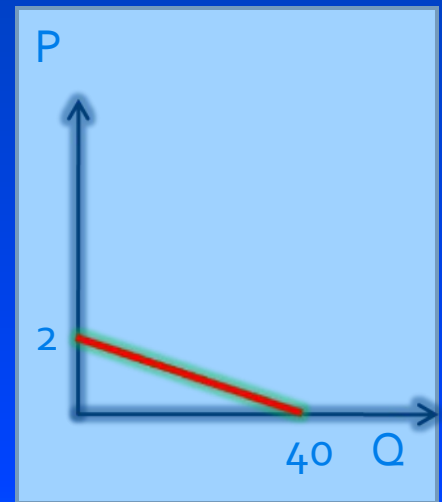
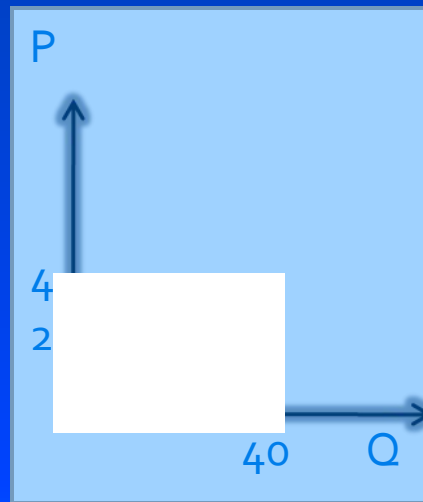
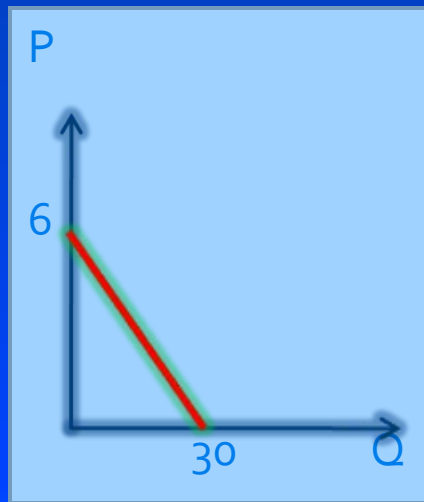


**КОТ**

**В МЕШКЕ**



Постройте кривую рыночного спроса, если заданы три индивидуальные кривые спроса потребителей А, В, С:



На какие из нижеперечисленных товаров, по вашему мнению, спрос будет эластичным по цене, а на какие – нет:

- косметический крем;
- мясо птицы;
- линзы для очков;
- обед в ресторане;
- мебельный гарнитур;
- шариковые ручки;
- автомобиль «Москвич»?





# СВОЯ

---

игра

3

раунд



Спрос

Предложение

Определите и отразите на графике, как повлияют на положение кривой спроса на теннисные ракетки следующие события.

А) Доходы населения значительно выросли.

Б) Теннисные мячи подорожали в 5 раз.

В) В стране ожидается рост цен на спортивные товары.

Г) цены на ракетки действительно выросли.

Д) Врачи убеждают, что занятия теннисом способствуют снижению избыточного веса в большей степени, чем увеличение другими видами спорта. →



Определите и отразите на графике, как повлияют на предложение йогурта следующие события:

а) В городе увеличилось число любителей йогурта.

Б) Цены на ацидофилин неожиданно вырос.

В) Подорожали фрукты, которые используются в качестве наполнителей при производстве йогурта.

Г) Местная администрация ввела дотации на производство йогурта.

Д) Городские власти закупили новейшие технологии по изготовлению йогурта для местных молокозаводов.



Спасибо за игру.

