

ЗАНИМАТЕЛЬНАЯ МАТЕМАТИКА



5 - 6
класс



Догоняй-ка

Сосчитай-ка

Отгадай-ка

Прочитай-ка

Загадай-ка



Догоняй-ка

1

2

3

4



1



2



3

[Blank writing area]

[Blank writing area]

[Blank writing area]

[Blank writing area]

[Blank writing area]



4



1

2

3

4

5

6

7

8

Сосчитай-ка



1

Расставьте в примерах знаки и, если нужно, скобки таким образом, чтобы равенства были верны:



2

Расставьте в примерах знаки и, если нужно, скобки таким образом, чтобы равенства были верны:



3

Расставьте в примерах знаки и, если нужно, скобки таким образом, чтобы равенства были верны:



4

Расставьте в примерах знаки и, если нужно, скобки таким образом, чтобы равенства были верны:



5

Расставьте в примерах знаки и, если нужно, скобки таким образом, чтобы равенства были верны:



6

Расставьте в примерах знаки и, если нужно, скобки таким образом, чтобы равенства были верны:



7

Расставьте в примерах знаки и, если нужно, скобки таким образом, чтобы равенства были верны:



8

Расставьте в примерах знаки и, если нужно, скобки таким образом, чтобы равенства были верны:




Прочитай-ка

- 1
- 2
- 3
- 4
- 5
- 6
- 7
- 8



1

Попробуй прочитай



2


Попробуй прочитай








Попробуй прочитай









1

2

3

4

5

6

7

8

Отгадай-ка



1

Пришёл мельник на мельницу. Видит в каждом углу по 3 мешка, на каждом мешке по 3 кошки, у каждой кошки по три котёнка, у каждого котёнка — по мышонку. Сколько ног?



2

Над рекой летели птицы:
голубь, щука, 2 синицы, 3 стрижа и 5 ежей.
Сколько птиц, ответь скорей.



3

На березе росло 37 яблок.
Подул сильный ветер, и 13 яблок упало. Сколько
осталось?



4

У бабушки Даши внучка Маша с другом Пашей,
кот Пушок, да пёс Дружок.
Сколько у бабушки внуков?



Сколько месяцев в году имеют 28 дней?

Январь

	ПН	ВТ	СР	ЧТ	ПТ	СБ	ВС
1		1	2	3	4	5	6
2	7	8	9	10	11	12	13
3	14	15	16	17	18	19	20
4	21	22	23	24	25	26	27
5	28	29	30	31			

Февраль

	ПН	ВТ	СР	ЧТ	ПТ	СБ	ВС
5				1	2	3	
6	4	5	6	7	8	9	10
7	11	12	13	14	15	16	17
8	18	19	20	21	22	23	24
9	25	26	27	28			

Март

	ПН	ВТ	СР	ЧТ	ПТ	СБ	ВС
9				1	2	3	
10	4	5	6	7	8	9	10
11	11	12	13	14	15	16	17
12	18	19	20	21	22	23	24
13	25	26	27	28	29	30	31

Апрель

	ПН	ВТ	СР	ЧТ	ПТ	СБ	ВС
14	1	2	3	4	5	6	7
15	8	9	10	11	12	13	14
16	15	16	17	18	19	20	21
17	22	23	24	25	26	27	28
18	29	30					

Май

	ПН	ВТ	СР	ЧТ	ПТ	СБ	ВС
18		1	2	3	4	5	
19	6	7	8	9	10	11	12
20	13	14	15	16	17	18	19
21	20	21	22	23	24	25	26
22	27	28	29	30	31		

Июнь

	ПН	ВТ	СР	ЧТ	ПТ	СБ	ВС
22					1	2	
23	3	4	5	6	7	8	9
24	10	11	12	13	14	15	16
25	17	18	19	20	21	22	23
26	24	25	26	27	28	29	30

Июль

	ПН	ВТ	СР	ЧТ	ПТ	СБ	ВС
27	1	2	3	4	5	6	7
28	8	9	10	11	12	13	14
29	15	16	17	18	19	20	21
30	22	23	24	25	26	27	28
31	29	30	31				

Август

	ПН	ВТ	СР	ЧТ	ПТ	СБ	ВС
31				1	2	3	4
32	5	6	7	8	9	10	11
33	12	13	14	15	16	17	18
34	19	20	21	22	23	24	25
35	26	27	28	29	30	31	

Сентябрь

	ПН	ВТ	СР	ЧТ	ПТ	СБ	ВС
35						1	
36	2	3	4	5	6	7	8
37	9	10	11	12	13	14	15
38	16	17	18	19	20	21	22
39	23	24	25	26	27	28	29
40	30						

Октябрь

	ПН	ВТ	СР	ЧТ	ПТ	СБ	ВС
40	1	2	3	4	5	6	
41	7	8	9	10	11	12	13
42	14	15	16	17	18	19	20
43	21	22	23	24	25	26	27
44	28	29	30	31			

Ноябрь

	ПН	ВТ	СР	ЧТ	ПТ	СБ	ВС
44				1	2	3	
45	4	5	6	7	8	9	10
46	11	12	13	14	15	16	17
47	18	19	20	21	22	23	24
48	25	26	27	28	29	30	

Декабрь

	ПН	ВТ	СР	ЧТ	ПТ	СБ	ВС
48						1	
49	2	3	4	5	6	7	8
50	9	10	11	12	13	14	15
51	16	17	18	19	20	21	22
52	23	24	25	26	27	28	29
53	30	31					

6

Почему парикмахер в Берлине скорее предпочтёт постричь двух французов, чем одного немца?



7

Возможно ли такое:
две головы, две руки и шесть ног,
а в ходьбе только четыре?



8

Группа из 4-х туристов прошла за 2 часа 7,8 км.
Сколько километров прошел каждый турист,
если они шли с постоянной скоростью?



1

___ __ __ брюшко - ___ __ __ ушка.



ОТГАДКА

1

2

3

4

5

6

7

8

9

10

2

___ ступенек - лесенка,
На ступеньках - песенка

1

2

3

4

5

6

7

8

9


10



ОТГАДКА

3

Рук много, а нога _ _ _



ОТГАДКА

1

2

3

4

5

6

7

8

9

10

4

Вот этот случай очень редкий
На голове растут _ _ _ ветки.



1

2

3

4

5

6

7

8

9

10

ОТГАДКА

5

___ __ __ ног - как ___ __ __ рук:
Вышивает шёлком круг.



1

2

3

4

5

6

7

8

9

10

ОТГАДКА

А-А-ААА

ХУРГАДА

Happy Hours
Балла - 15 руб.
Касса - 8 руб.

6

_____ рога, а не бык,
_____ ног без копыт.
Летит - воет. Сядет - землю роет.



ОТГАДКА

1

2

3

4

5

6

7

8

9

10

7

Протянулся мост на вёрст,
А в конце моста красная верста.

1

2

3

4

5

6

7

8

9

10



ДПС

ПН

ВТ

СР

ЧТ

ПТ

СБ

ВС

ОТГАДКА

8

Хоть имеет он ___ глаза, но не
смотрит всеми сразу, а глядит всегда
___ ну, а мы следим за ним.



1

2

3

4

5

6

7

8

9

10

ОТГАДКА

Все молодцы!

Успехов в дальнейшей
изучении математики



Стадио
Девочка-
Девочка-
Мальчик у
Мальчик-
Мальчик-
Улитк
Классная
Ковчак и
Мельник и
Кети
Библиотека
Книг Рек
Семь астри
Форок ж
Амолёти
Сморозин
Восподи
Актрис
Землеко
Устриц
Фороконожк
а

Подва
Лрито
Насточк
Аторо
Фсетрин
Аостово
Олектричк
Аоляна в
Лесовичо
Мельниц
Мешо
Кошка-
Кошка-
Котят
Котёно
Мельни
Мышк
Волуб
Цук Стри
Аиниц ж
А Яблок
Жерёз
ы

Ко Пё
Календар
Барикмахе
Монетк
Бабушка с
Вывеками
Головы
Вила- Нога-
Всадник на
Лориди
Отрана
Фарадоулиц
Аодуцак
Кроват
Котёно
Мос
Бельчоно
Кети
Ковиш
Фсьминожк
Аерево на
Озая Ле
о с

Источники

Баба Олен
Ладков ь
Аосоро Буйво
Коз Бычк
Алаук на
Лавочка
Видицавет
Видицавет
Бабочка-
Светофор
Светофор
-2

ВОПРОС
ВОПРОС
ВАГАДК
ВАГАДКИ-
ШУТКИ