

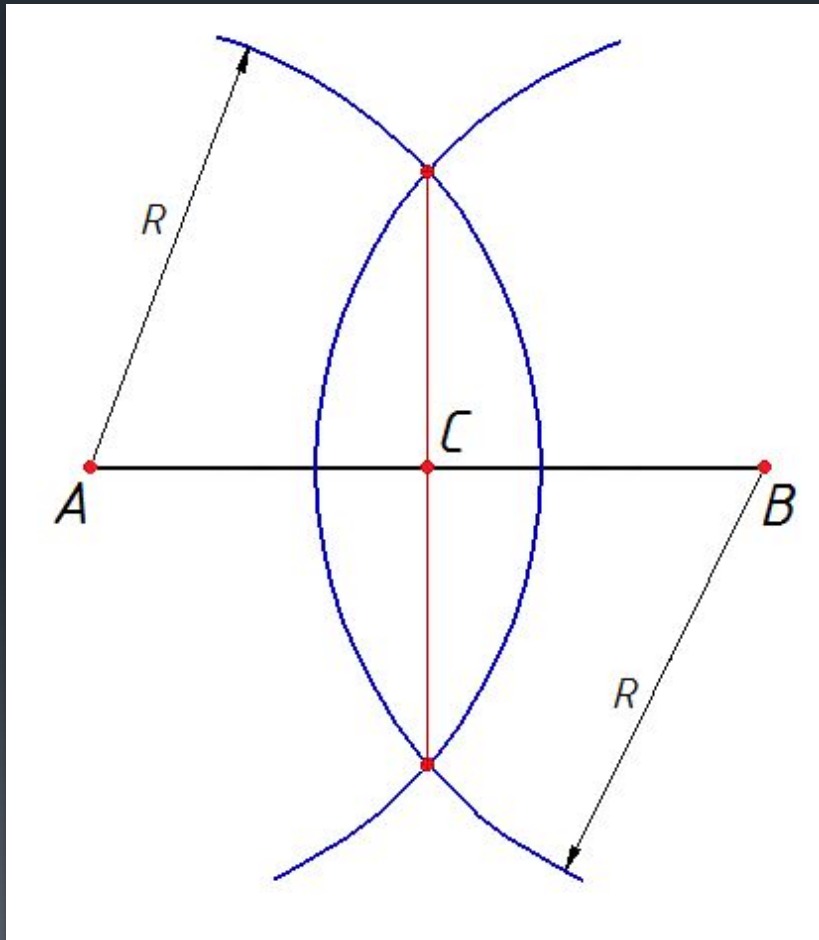
ГЕОМЕТРИЧЕСКИЕ ПОСТРОЕНИЯ

- Деление отрезков и углов.
- Деление окружности. Правильные многоугольники.
- Сопряжения.
- Лекальные кривые.

Деление отрезков и углов циркулем и линейкой

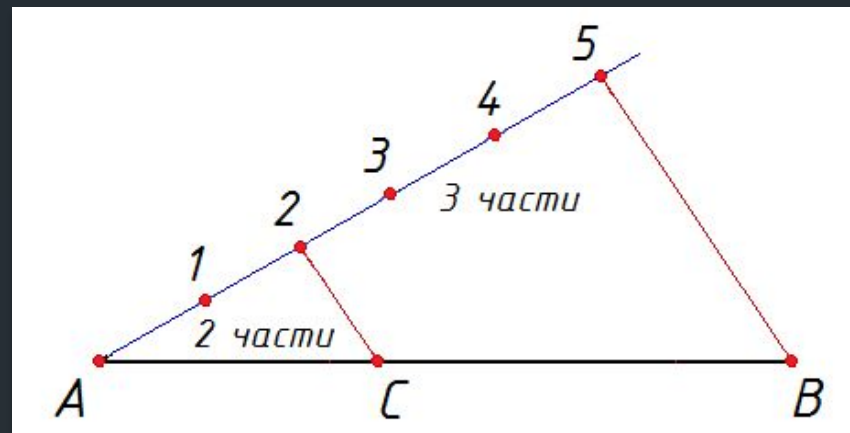
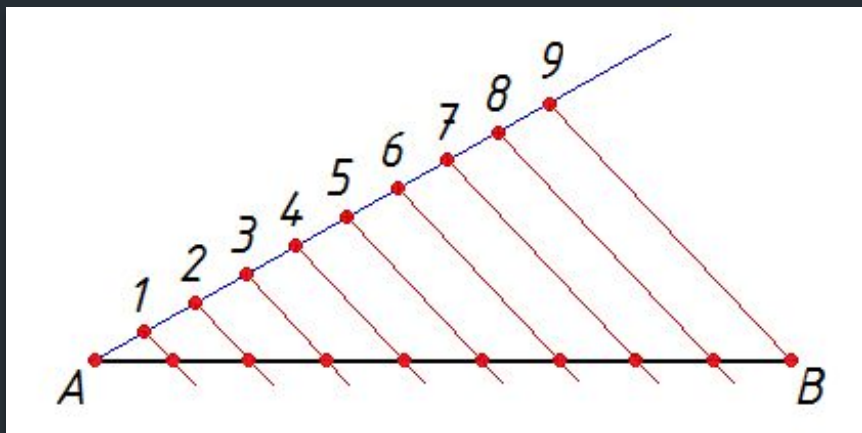


- Деление отрезка пополам
- Построение серединного перпендикуляра



1. Из конечных точек отрезка АВ построить дуги одинаковых радиусов произвольной величины, но больших половины отрезка, до их взаимного пересечения.
2. Построить серединный перпендикуляр к отрезку АВ, соединив точки пересечения дуг.
3. Точка С – середина отрезка

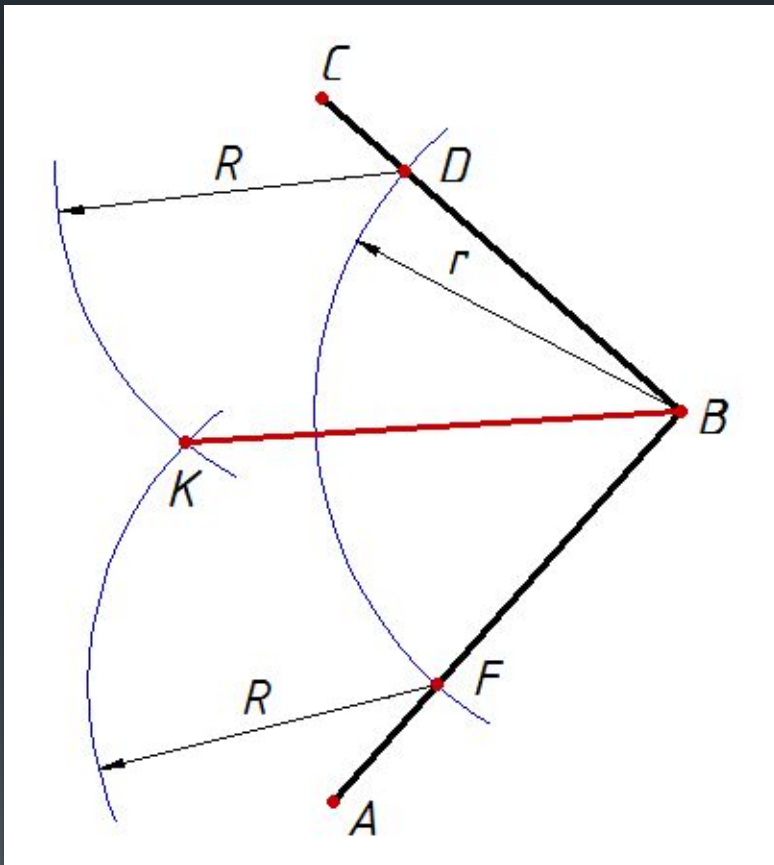
- Деление отрезка на n равных частей
- Деление отрезка в заданном соотношении



Теорема Фалеса

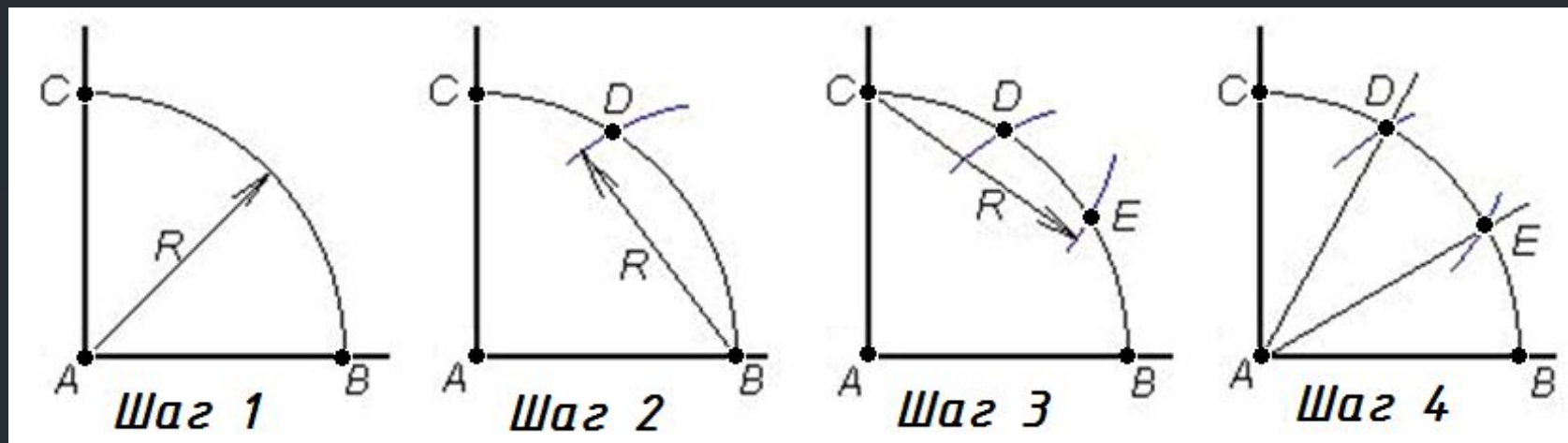
Если на одной из двух прямых отложить последовательно несколько равных отрезков и через их концы провести параллельные прямые, пересекающие вторую прямую, то они отсекут на второй прямой равные отрезки.

- Деление угла пополам
- Построение биссектрисы



1. Из вершины угла B построить дугу любого радиуса r , которая отсечет на сторонах угла отрезки одинаковой длины BD и BF .
2. Из точек D и F провести дуги любым радиусом, большим половины угла, до их взаимного пересечения в точке K .
3. BK является биссектрисой угла ABC и делит его пополам.

Деление прямого угла на 3 равные части

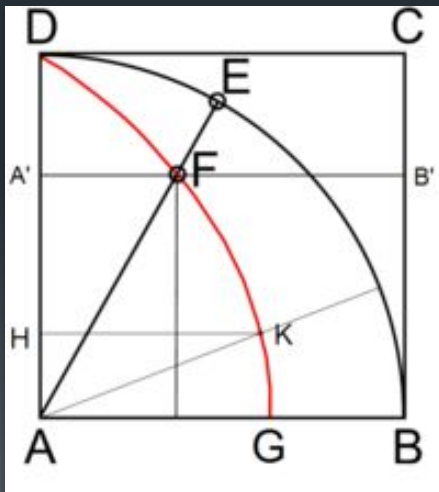


1. Из вершины прямого угла A, как из центра, провести дугу BC произвольного радиуса R.
2. Из точки B, как из центра, провести дугу, тем же радиусом R, до пересечения с дугой BC в точке D.
3. Из точки C, как из центра, провести дугу, тем же радиусом R, до пересечения с дугой BC в точке E.
4. Из точки A провести линии AD и AE, которые и делят прямой угол BAC на три равных между собой угла BAE, EAD и DAC.

Задача о трисекции угла

- задача о делении произвольного угла на 3 равные части циркулем и линейкой

Наряду с задачами о **квадратуре круга** и **удвоении куба** является одной из классических древних неразрешимых задач на построение.


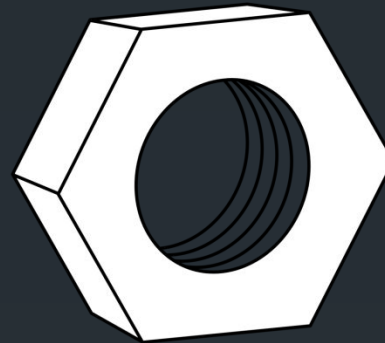


Квадратриса — плоская кривая, определяемая кинематически, была предложена в античные времена для решения задачи о трисекции угла.

Пусть EAB — некоторый угол, треть которого надо построить.

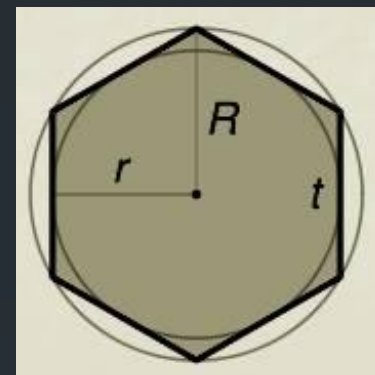
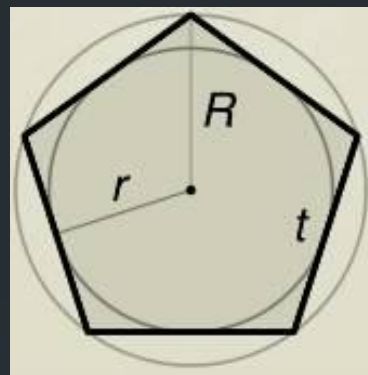
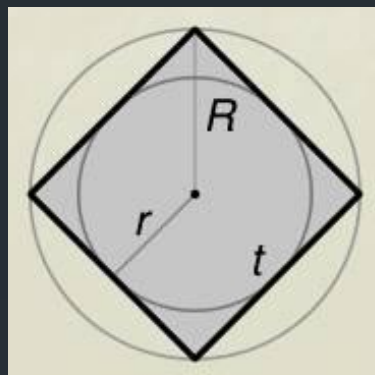
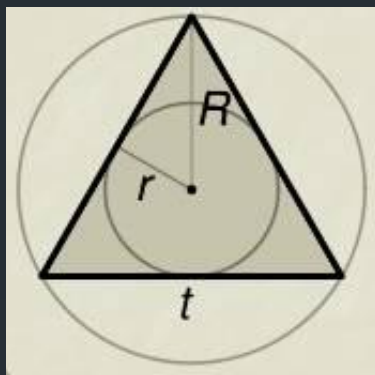
1. Находим точку F на квадратрисе и её ординату A' .
2. Откладываем на отрезке AA' его третью часть; получим некоторую точку H .
3. Находим на квадратрисе точку K с ординатой H .
4. Проводим луч AK . Угол KAB — искомый.

Деление окружности Правильные многоугольники



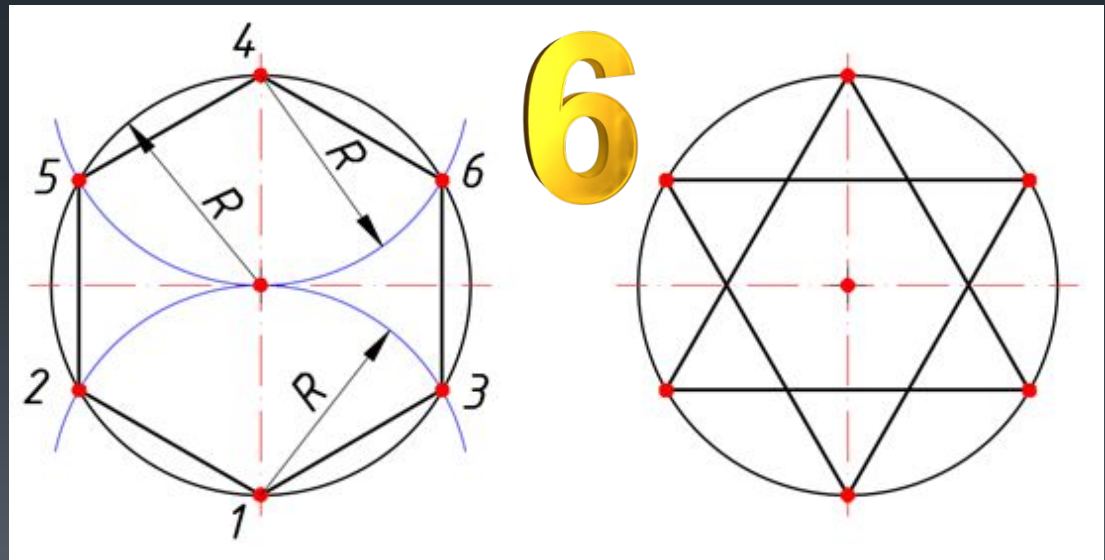
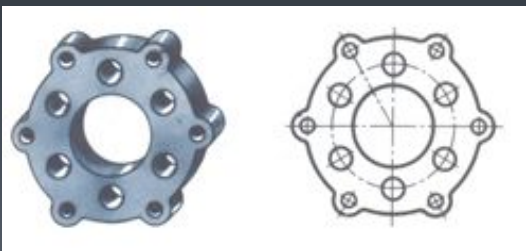
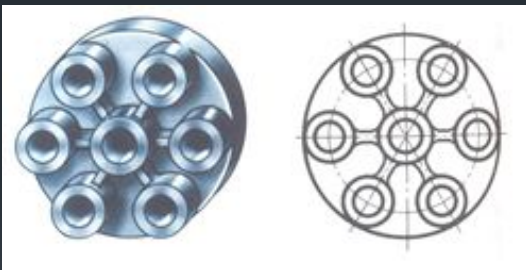
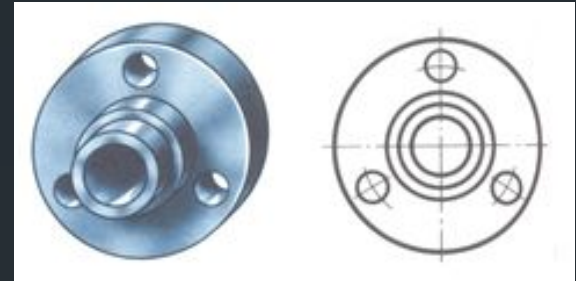
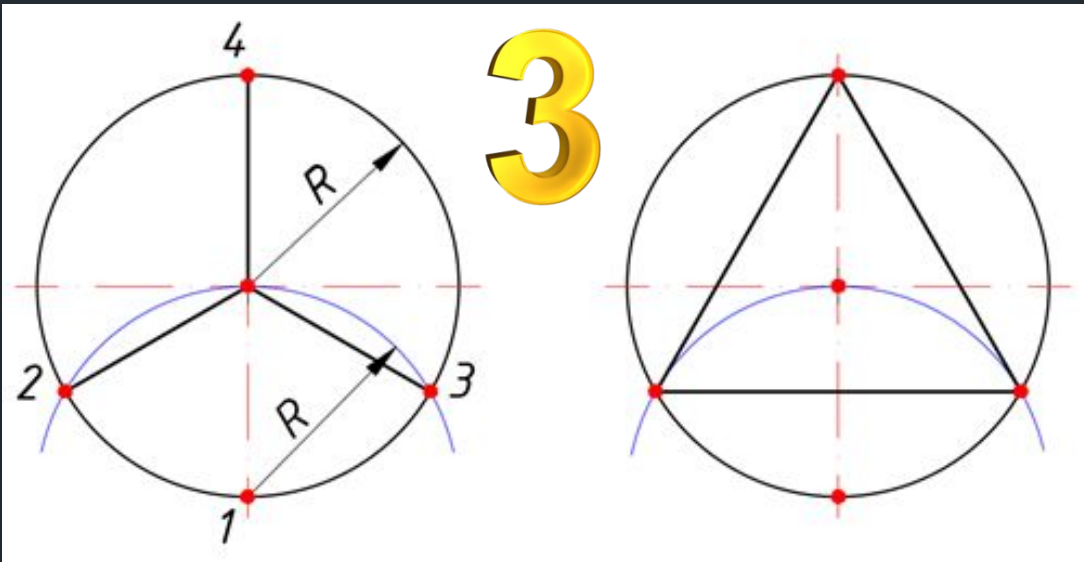
Правильные многоугольники

- выпуклые многоугольники, у которых все стороны и углы равны

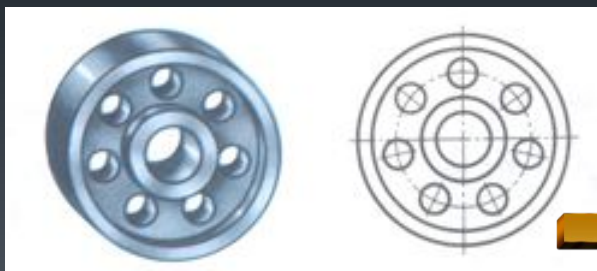
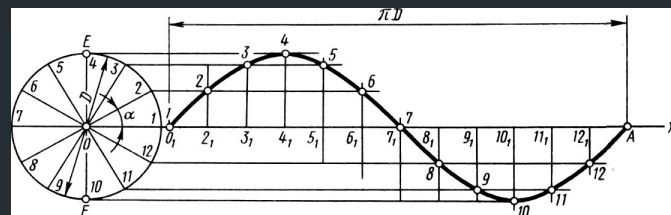
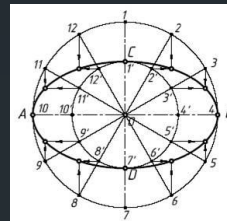
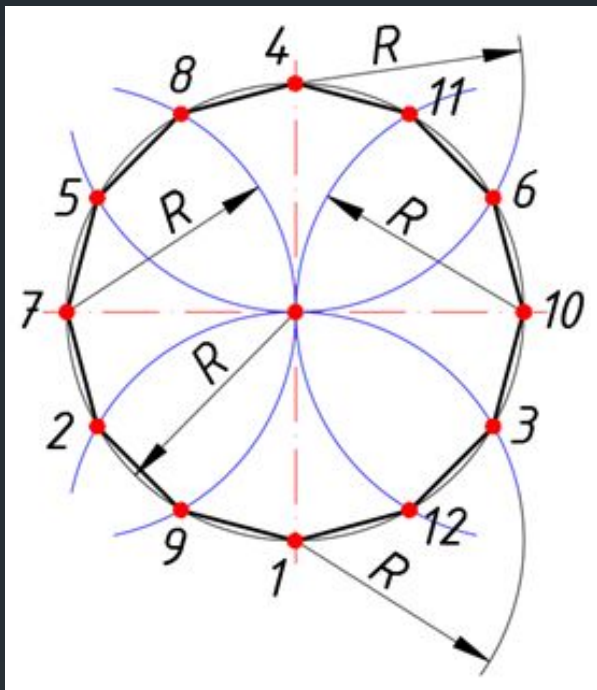


Основное свойство правильных многоугольников

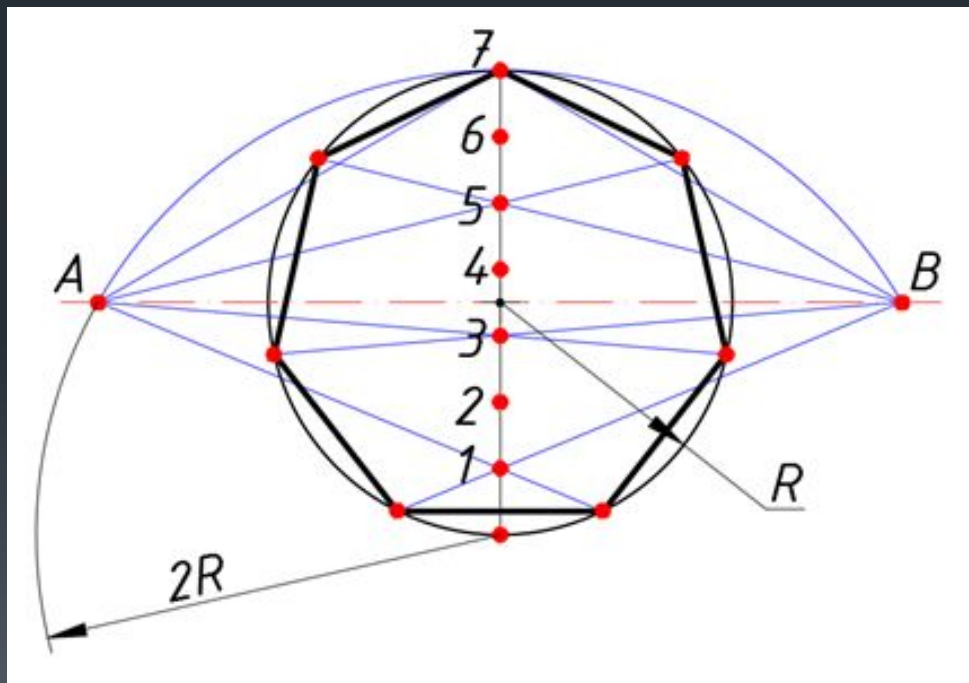
Правильный многоугольник является **вписанным** в окружность и **описанным** около окружности, причем центры этих окружностей совпадают.



12

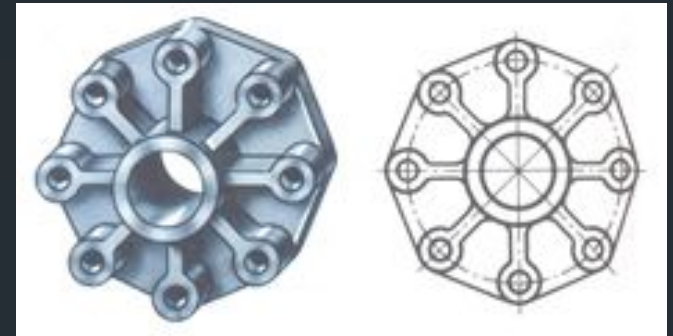
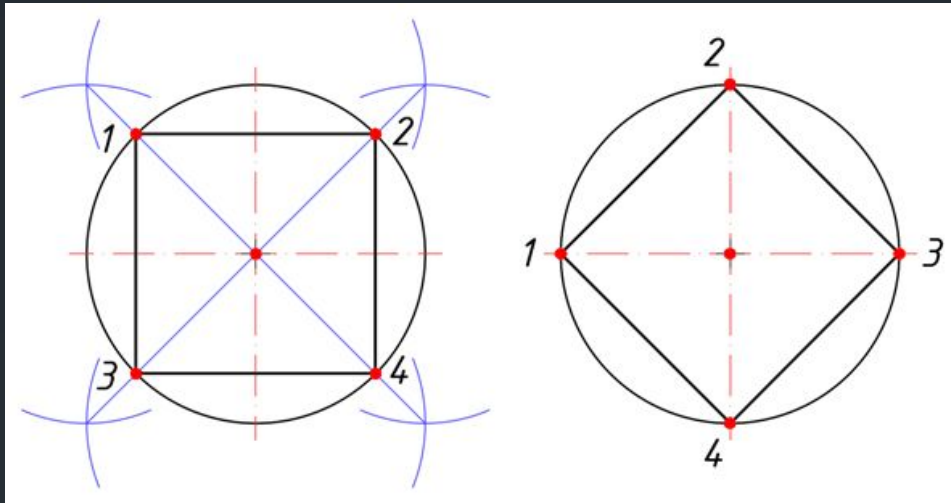


7

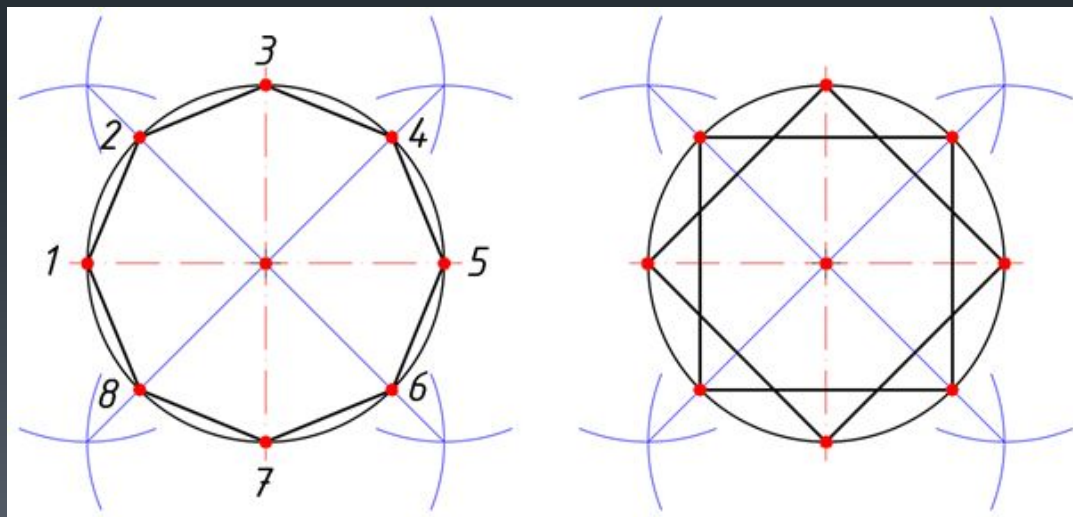




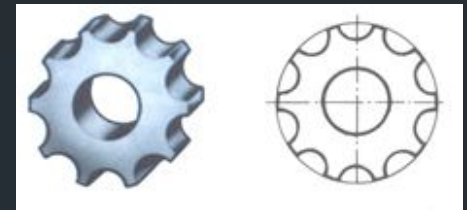
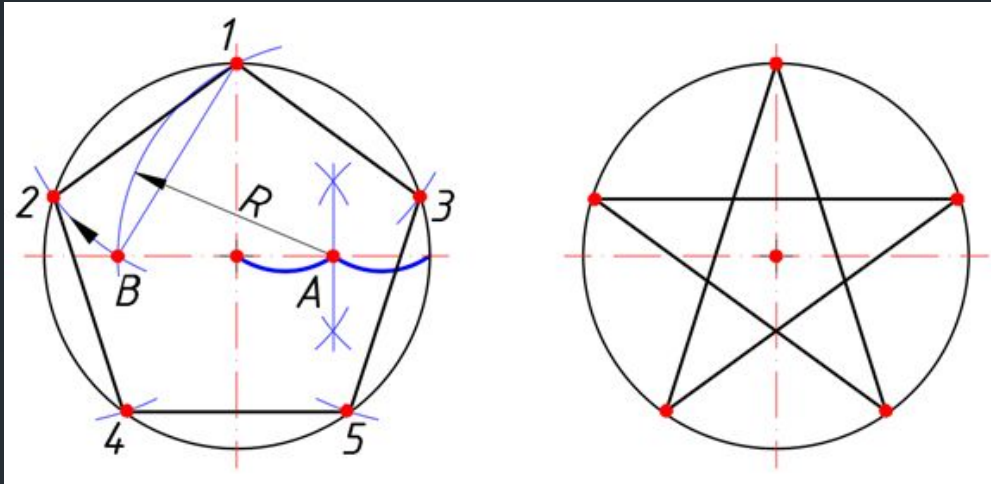
4



8



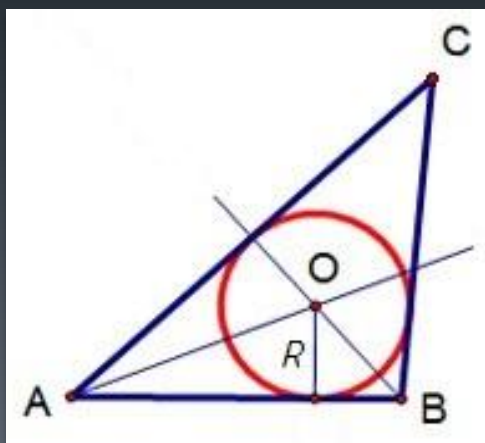
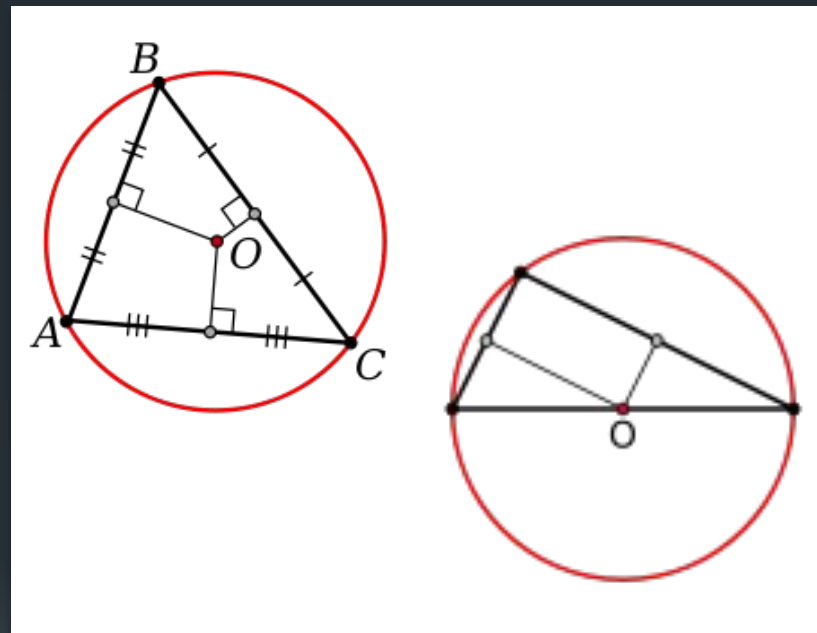
5



1. Разделить один из радиусов окружности, например правый, пополам, построив к нему серединный перпендикуляр. Точка А – середина радиуса.
2. Из точки А провести дугу радиуса $R = 1-A$ до пересечения с левым радиусом. Отрезок 1-В равен длине стороны правильного пятиугольника.
3. Перенести его циркулем из точки 1 на окружность влево (точка 2) и вправо (точка 3).
От точек 2 и 3 циркулем отложить такие же отрезки до получения точек 4 и 5.

Центр окружности, вписанной в треугольник или описанной вокруг него

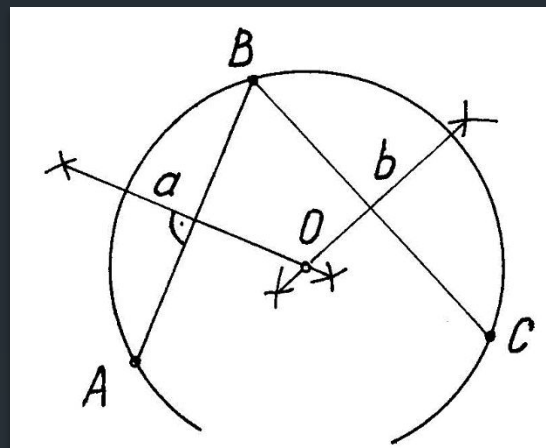
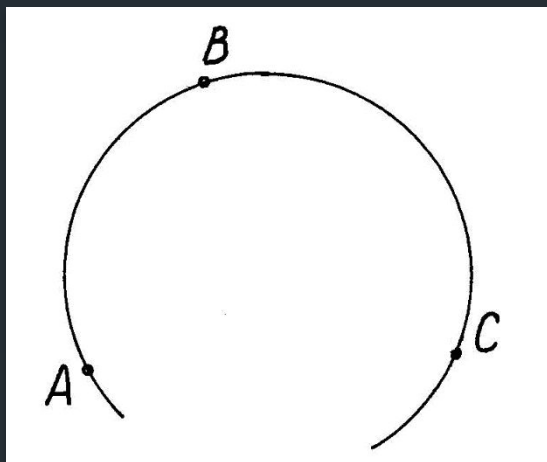
- Около треугольника можно **описать** окружность, притом только одну. Её центром будет являться точка пересечения серединных перпендикуляров.
- Центр окружности, описанной вокруг **прямоугольного** треугольника, лежит на середине его гипотенузы.



В треугольник можно **вписать** окружность, притом только одну. Её центром будет являться точка пересечения биссектрис углов треугольника.

Нахождение центра дуги

= нахождение центра окружности,
описанной вокруг треугольника



1. Выбрать любые три точки A, B и C на окружности или дуге. Соединить их отрезками.
2. Построить к отрезкам серединные перпендикуляры. Центром окружности (дуги) будет являться точка пересечения построенных перпендикуляров.

ПОСТРОЕНИЕ СОПРЯЖЕНИЙ



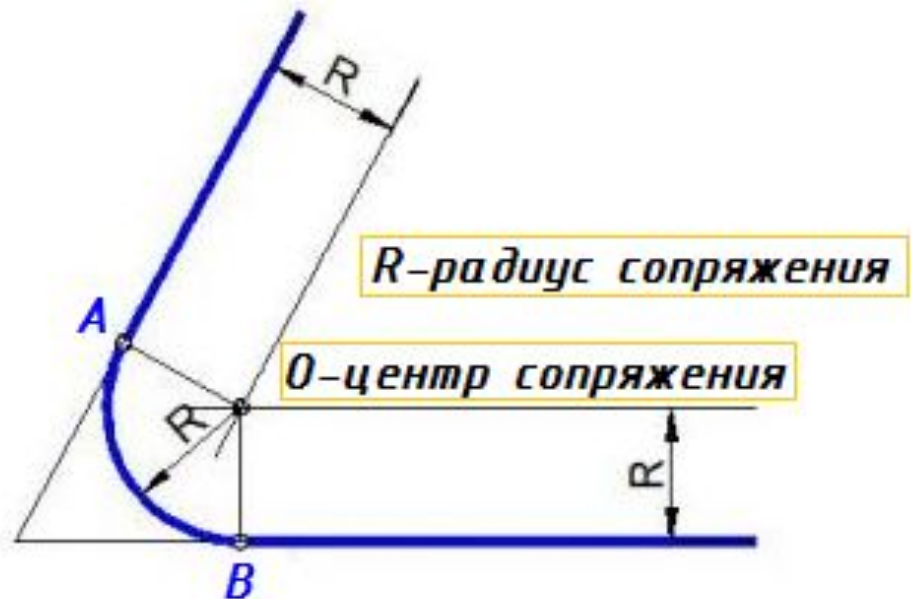
Детали машиностроительного производства



Сопряжения

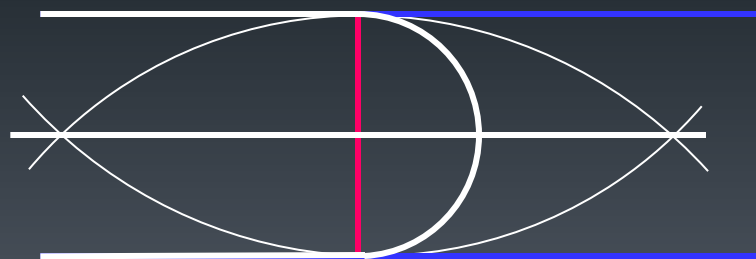
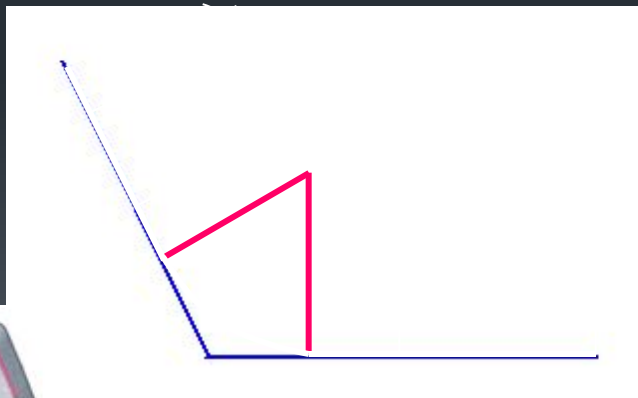
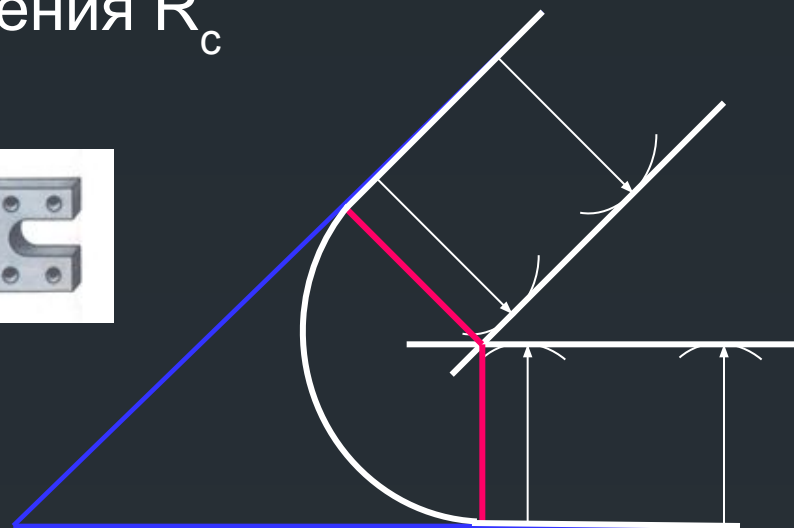
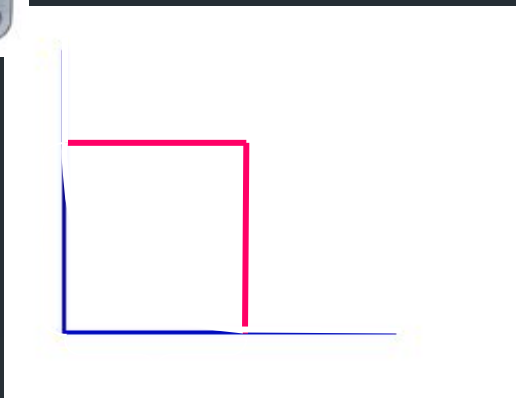
Сопряжение – плавный переход от одной линии к другой посредством дуги

Элементы
сопряжения

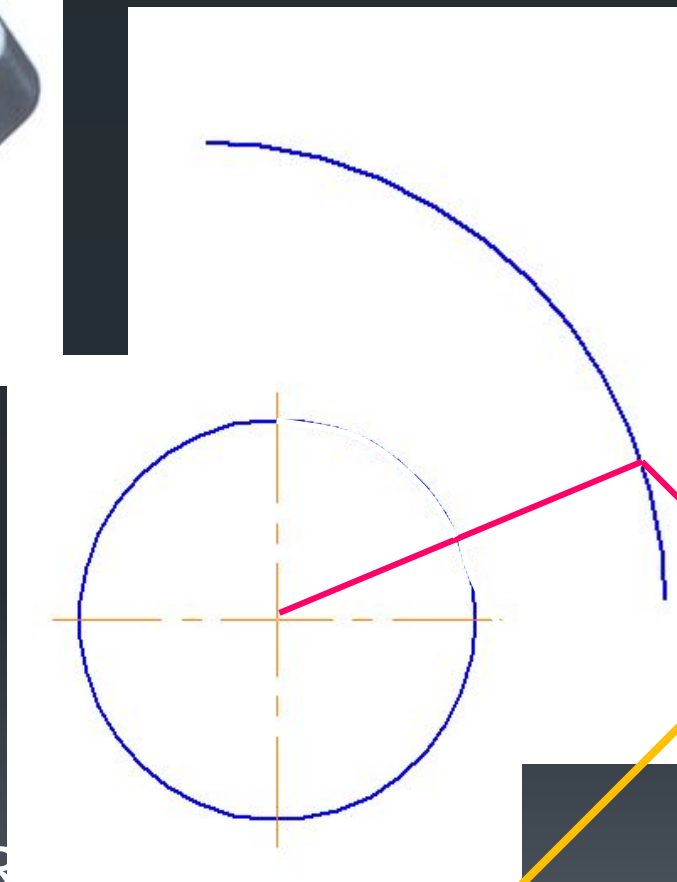
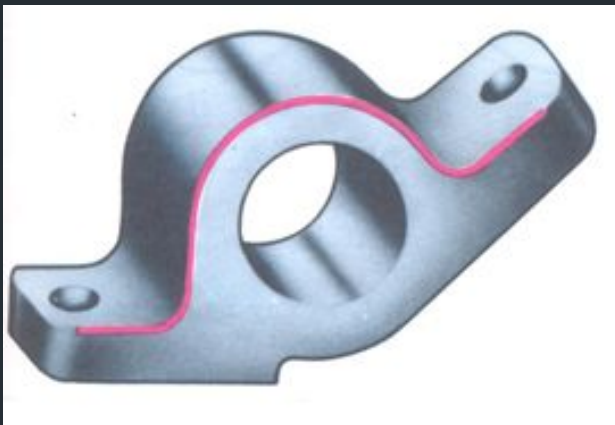


Сопряжение двух прямых

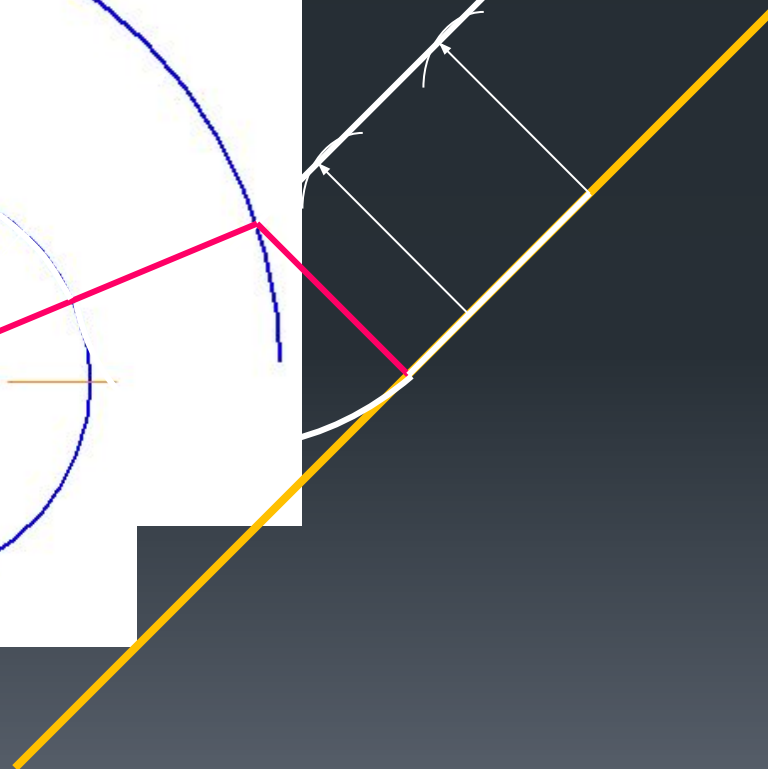
Радиус сопряжения R_c



Сопряжение прямой и окружности



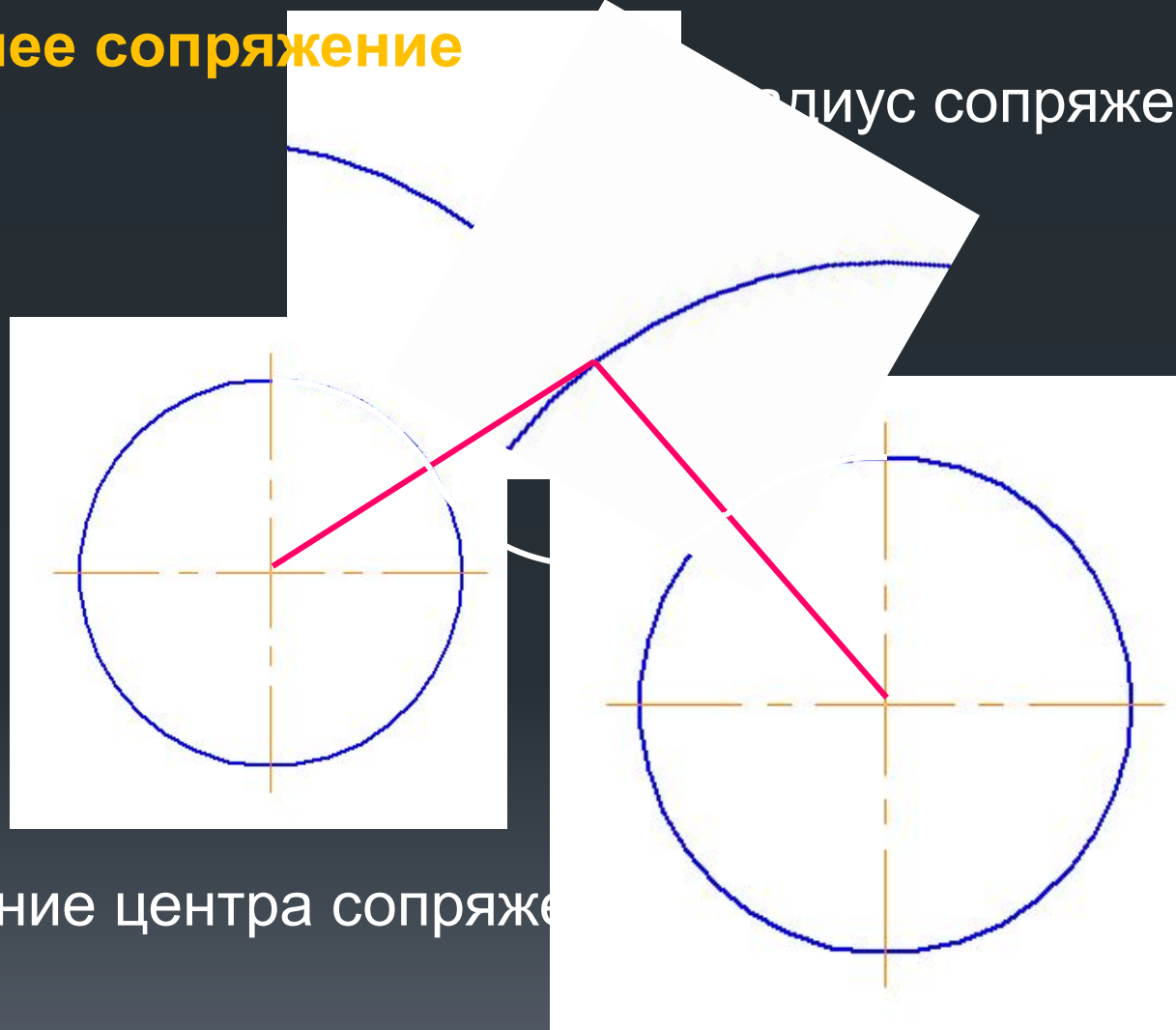
Радиус сопряжения R_f
Радиус окружности R_o



Сопряжение двух окружностей

Внешнее сопряжение

радиус сопряжения R_c



Нахождение центра сопряжения

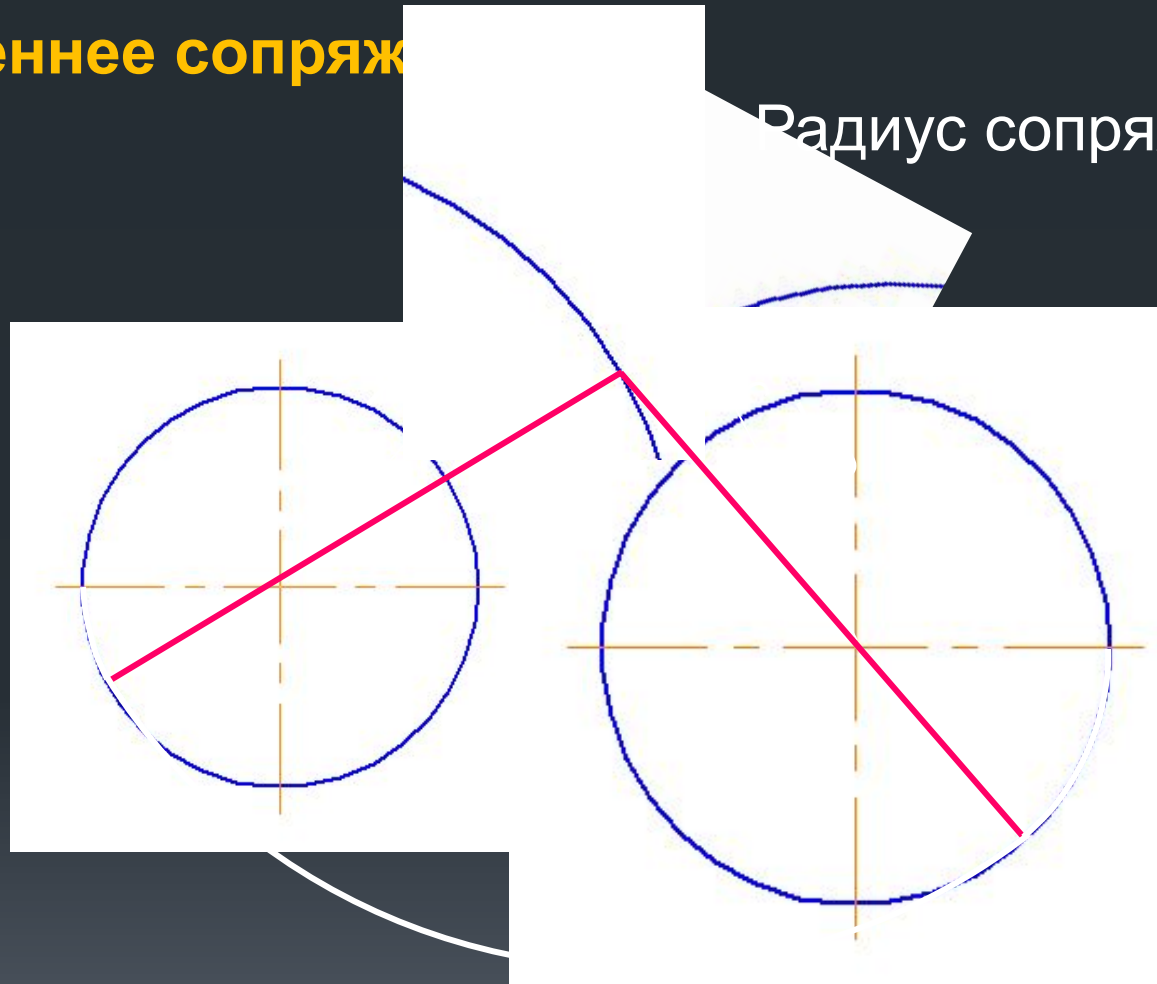
$$R_1 + R_c$$

$$R_2 + R_c$$

Сопряжение двух окружностей

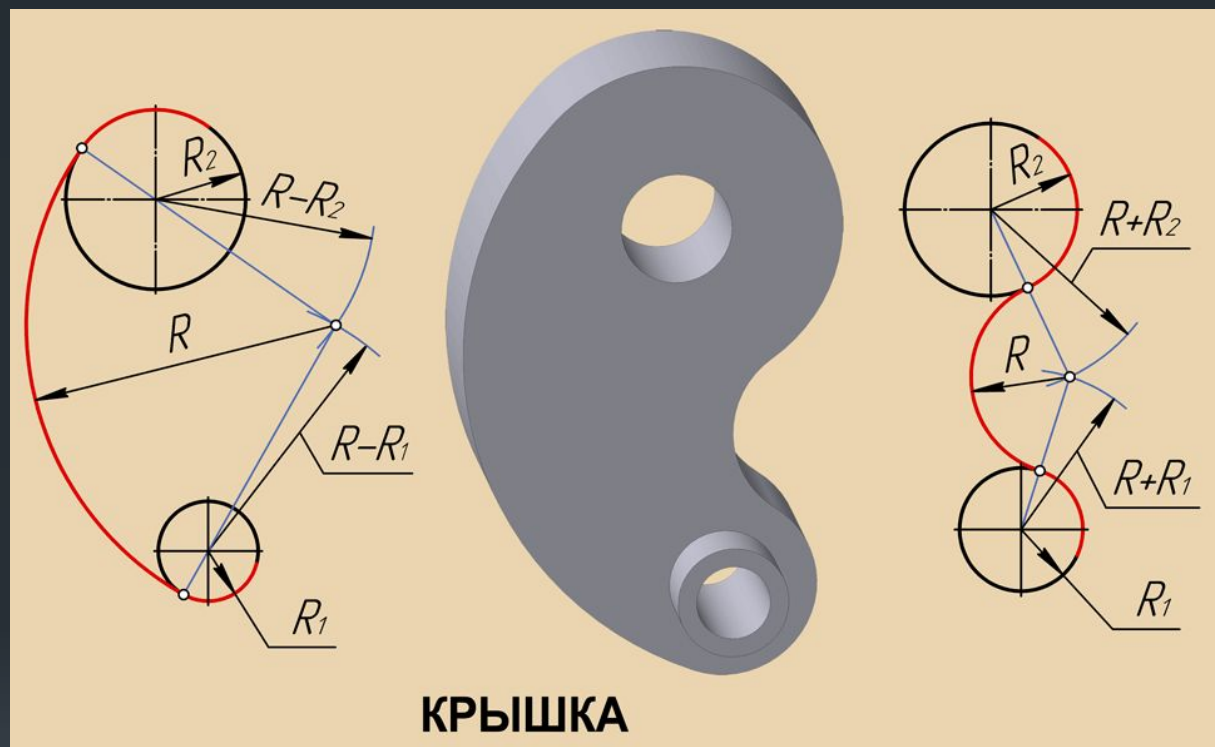
Внутреннее сопряжение

Радиус сопряжения R_c



Нахождение центра сопряжения: $R_c - R_1$
 $R_c - R_2$

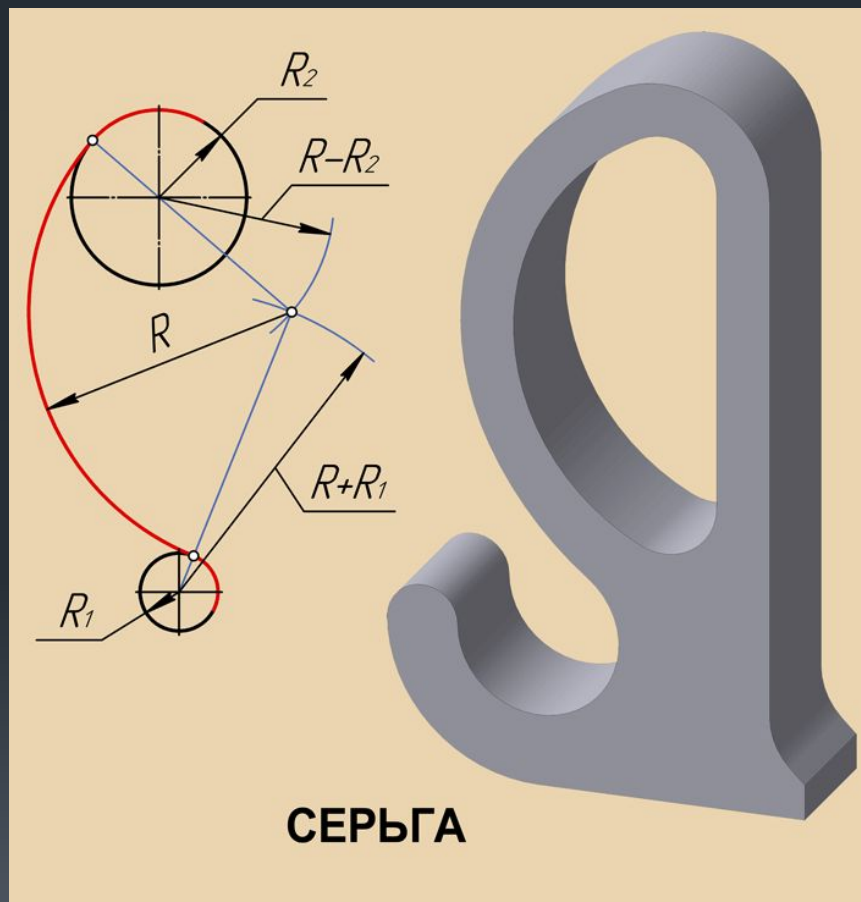
Примеры сопряжений окружностей



↑
ВНУТРЕННЕЕ

↑
ВНЕШНЕЕ

Смешанное сопряжение



R – радиус сопряжения

R1 – радиус окружности, для которой сопряжение является внешним

R2 – радиус окружности, для которой сопряжение является внутренним

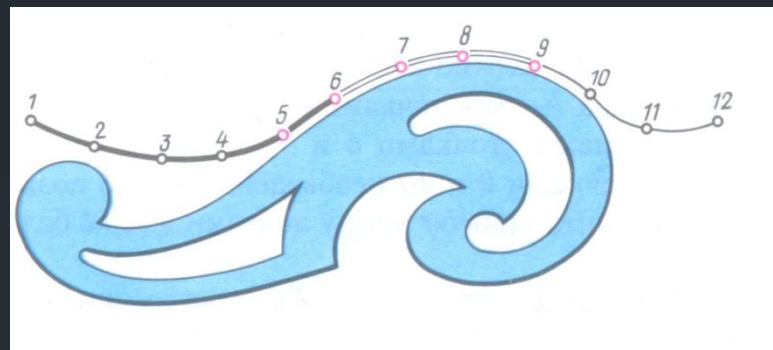
ЛЕКАЛЬНЫЕ КРИВЫЕ

плоские кривые,
вычерченные с помощью
лекал по предварительно
построенным точкам



- Эллипс
- Парабола
- Гипербола
- Синусоида
- Эвольвента
- Циклоида

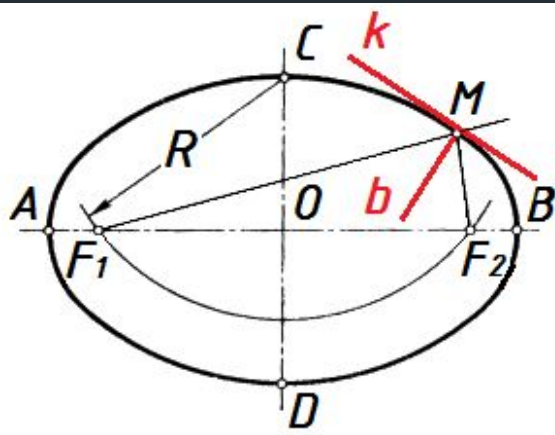
Обводка лекальной кривой



- участок кривой между точками 1-6 уже обведен
- чтобы обвести следующий участок кривой, нужно приложить кромку лекала, например к точкам 5-9. При этом лекало должно касаться части уже обведенной кривой (между точками 5 и 6).
- затем обвести кривую между точками 6-9, оставляя участок между точками 9 и 10 не обведенным.
- далее повторяют операцию, следя за тем, чтобы начальный участок подобранной кромки лекала захватывал уже обведенные точки и выполнять обводку не до конца подобранной кромки. Это позволяет получить более плавную кривую.

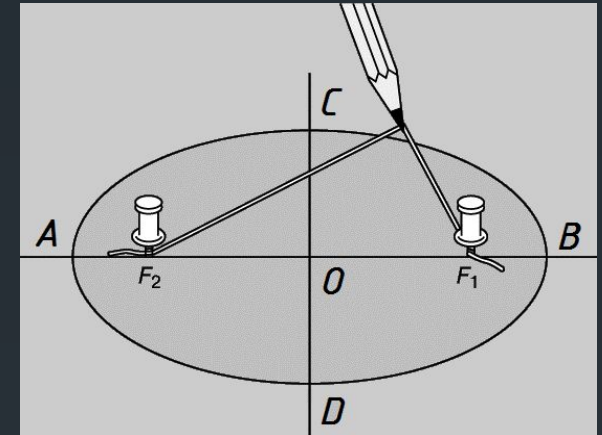
Эллипс

замкнутая плоская кривая, у которой сумма расстояний от каждой точки M до двух данных точек F_1 и F_2 (фокусов), лежащих на большой оси AB , есть величина постоянная и равная большой оси AB .



$$R=OA=OB$$
$$MF_1+MF_2=AB$$

AB —большая ось эллипса
 CD —малая ось эллипса



Нахождение фокусов эллипса:

Из точек C или D малой оси провести дугу радиусом равным половине малой оси $AO=OB$ до пересечения с большой осью.

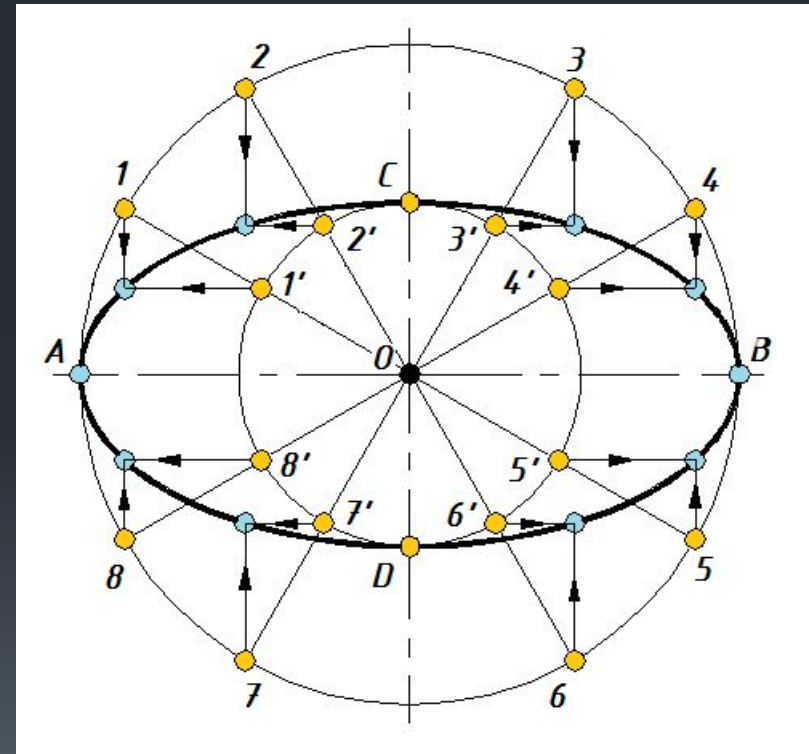
Построение касательной к эллипсу в заданной точке M :

- построить биссектрису b угла F_1MF_2
- построить перпендикуляр k к полученной биссектрисе b в точке M



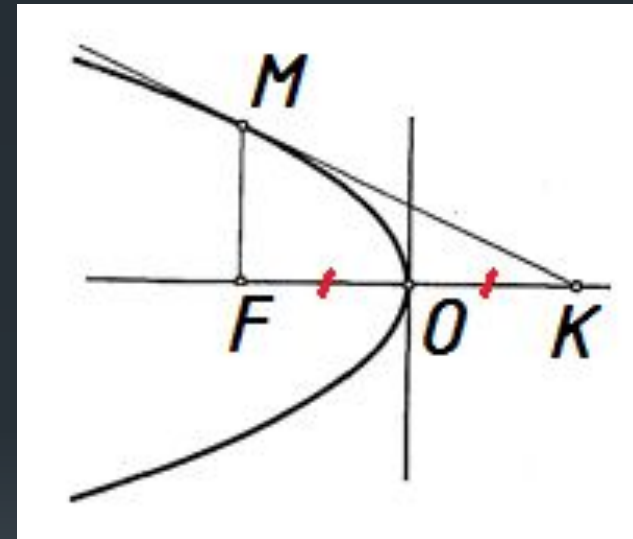
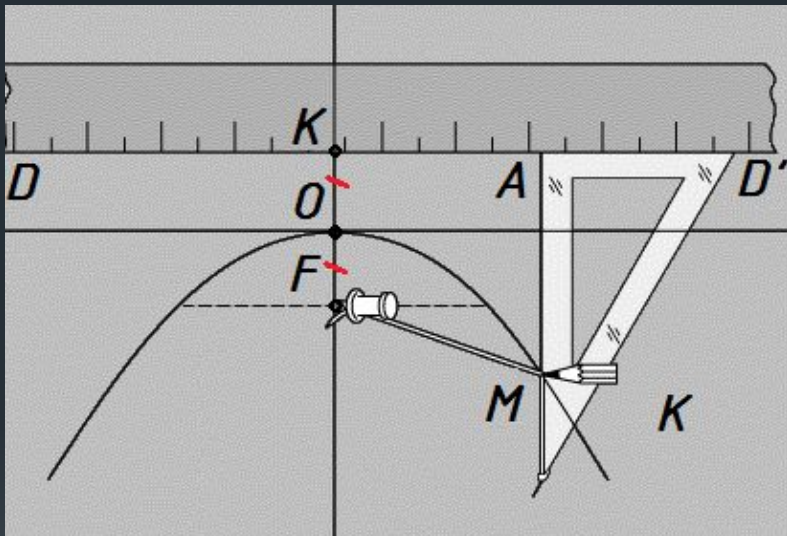
Построение эллипса

1. Построить две окружности с общим центром и диаметрами AB и CD .
2. Разделить обе окружности на 12 равных частей.
3. Из точек деления большой окружности 1, 2, 3, 4, 5, 6, 7, 8 провести прямые перпендикулярные большой оси эллипса AB .
4. Из точек деления малой окружности 1', 2', 3', 4', 5', 6', 7', 8' провести прямые перпендикулярные малой оси эллипса CD .
5. Пересечения прямых, построенных в пунктах 3 и 4 дают точки, принадлежащие эллипсу.



Парабола

плоская кривая, каждая точка которой равноудалена от директрисы DD' (прямой, перпендикулярной к оси симметрии параболы) и от фокуса F (точки, расположенной на оси симметрии параболы).



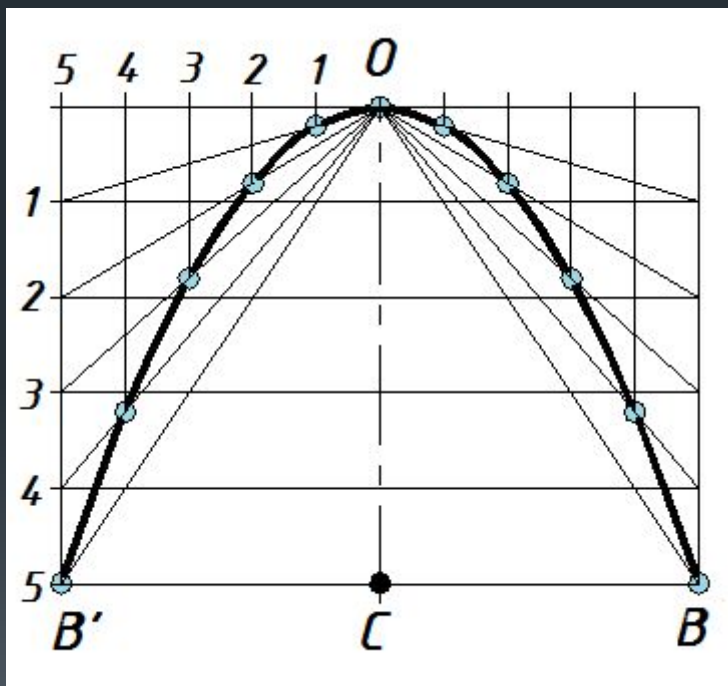
Расстояние KF между директрисой и фокусом называется параметром p параболы. Точка O , лежащая на оси симметрии, называется вершиной параболы и делит параметр p пополам.

$$KO = OF = p/2$$


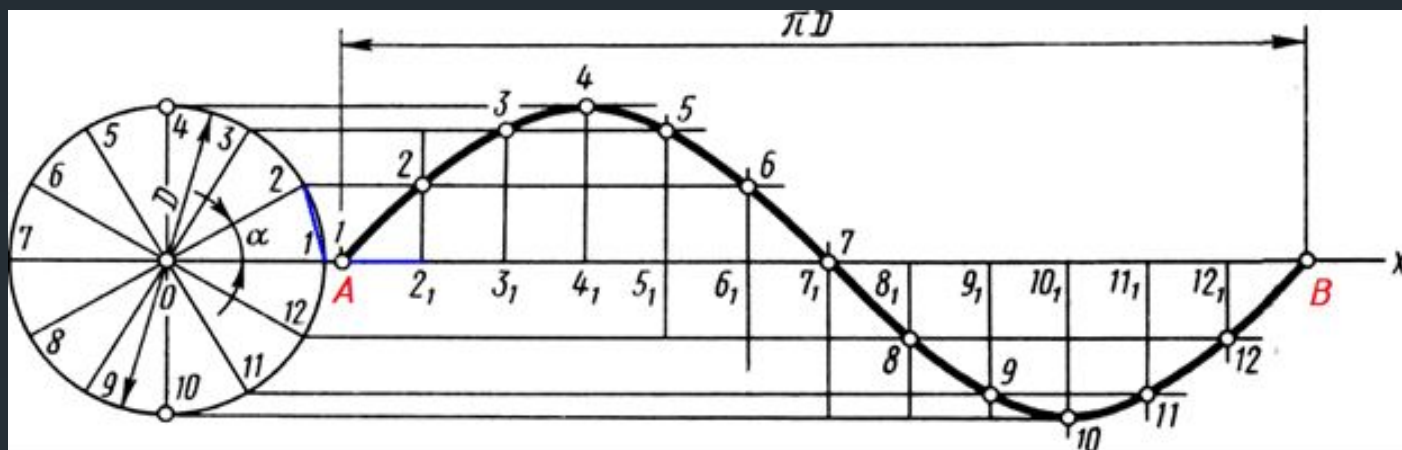


Построение параболы

1. Построить прямоугольник с размерами $BB' \times OC$ ($CB=CB'$).
2. Разделить ось параболы на какое-либо количество равных частей, например, на 5. Через точки $1-5$ провести вспомогательные прямые, перпендикулярные оси параболы.
3. Разделить обе половины габаритного прямоугольника на такое же количество равных частей и провести через точки деления линии, параллельные оси параболы.
4. Вершину параболы O соединить с вертикальными точками деления. Пересечения наклонных отрезков с одноименными вертикальными линиями дают точки параболы.



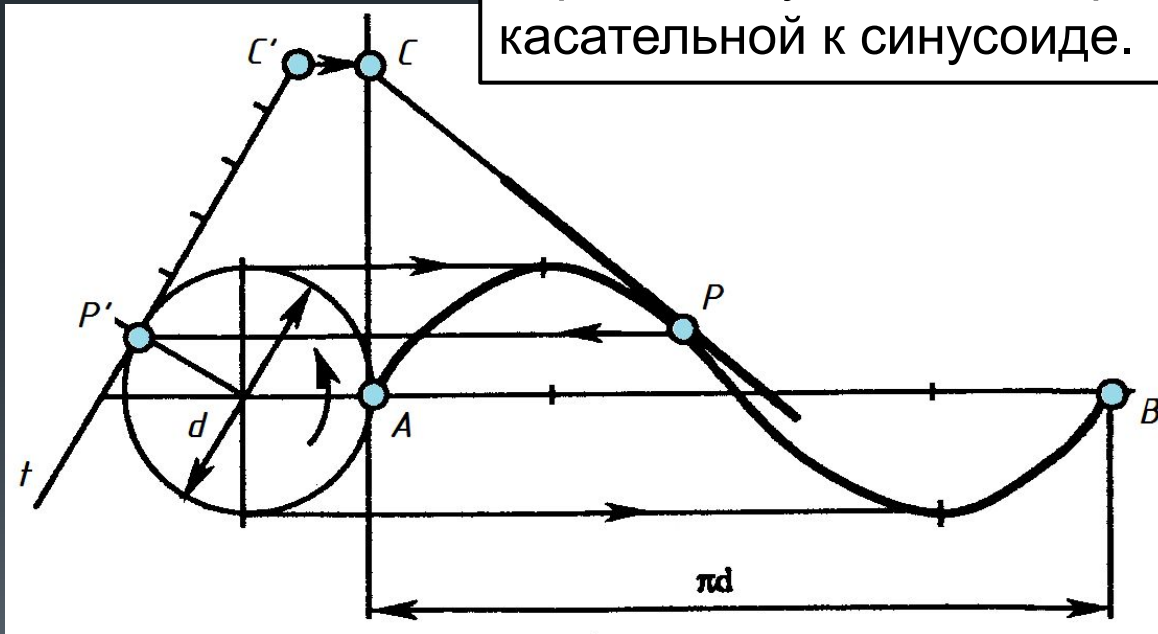
Построение синусоиды



1. Окружность разделить на 12 равных частей (точки 1-12 на окружности)
2. На оси синусоиды отложить отрезок $AB = \pi D$ (длине окружности) и разделить на тоже на 12 равных частей. **Или** на оси синусоиды отложить 12 одинаковых отрезков, равных длине хорды угла α . Получить точки (2_1-12_1) .
3. Из точек деления окружности провести прямые параллельные оси синусоиды AB , а из точек деления оси провести прямые перпендикулярные оси синусоиды.
4. Пересечения одноименных линий дают точки синусоиды.

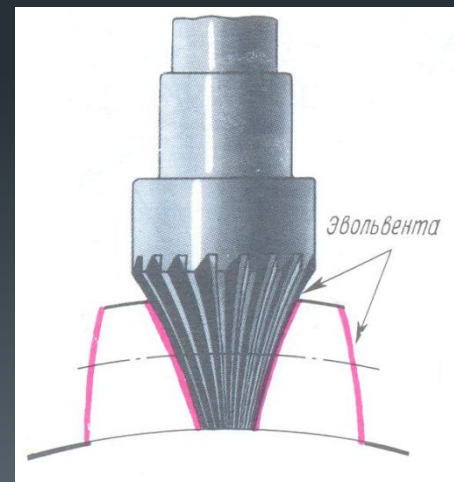
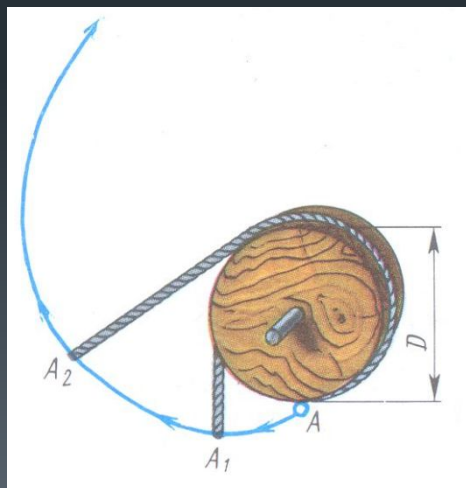
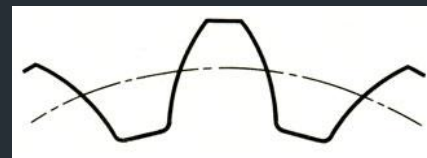
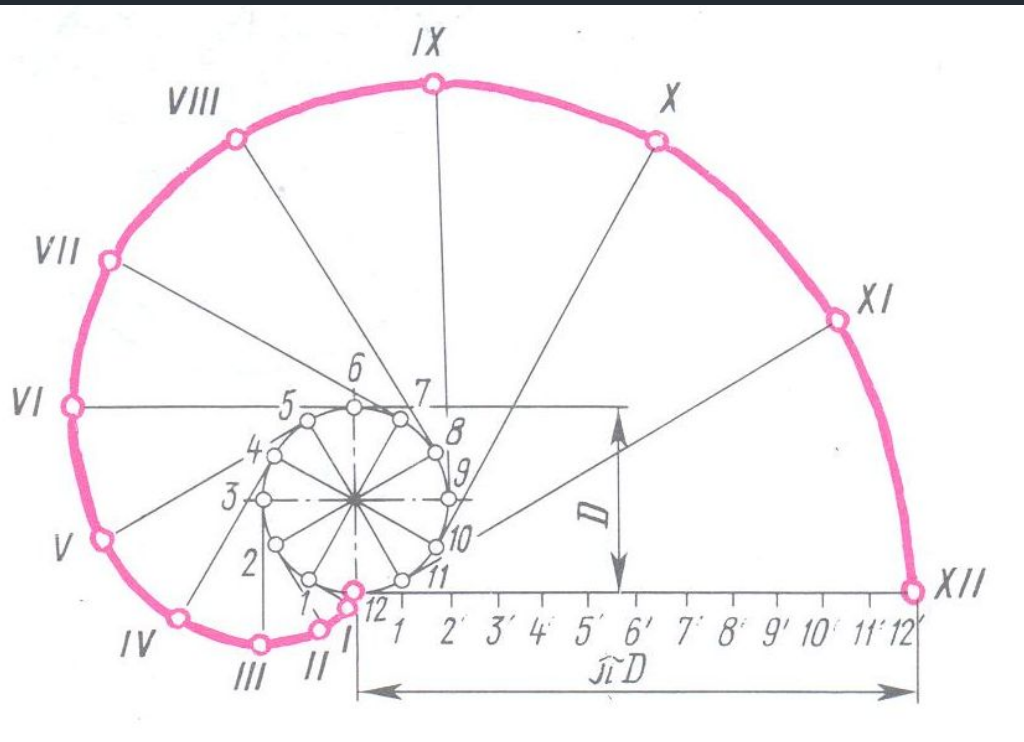
Построение касательной к синусоиде в точке P

1. Найти точку P' на окружности.
2. Построить касательную t к окружности в точке P' как перпендикуляр к радиусу.
3. Найти на касательной t точку C' ($P'C' = AP'$).
4. Построить точку C переносом на вертикальную линию. Прямая CP является касательной к синусоиде.



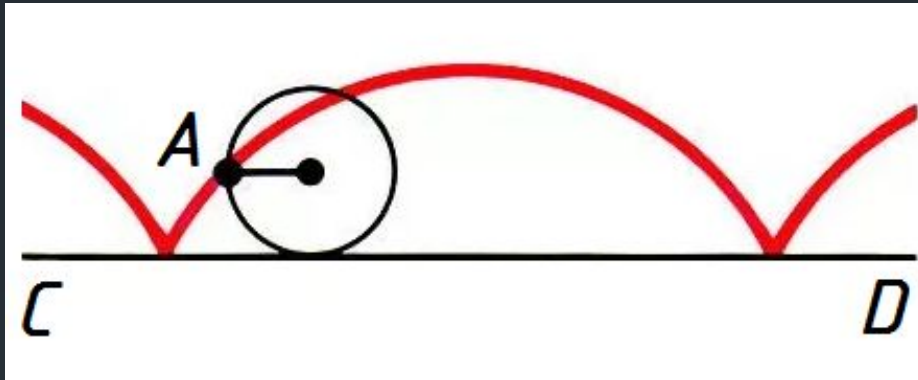
Эвольвента

окружности –
траектория любой
точки прямой линии,
перекатываемой без
скольжения по
окружности

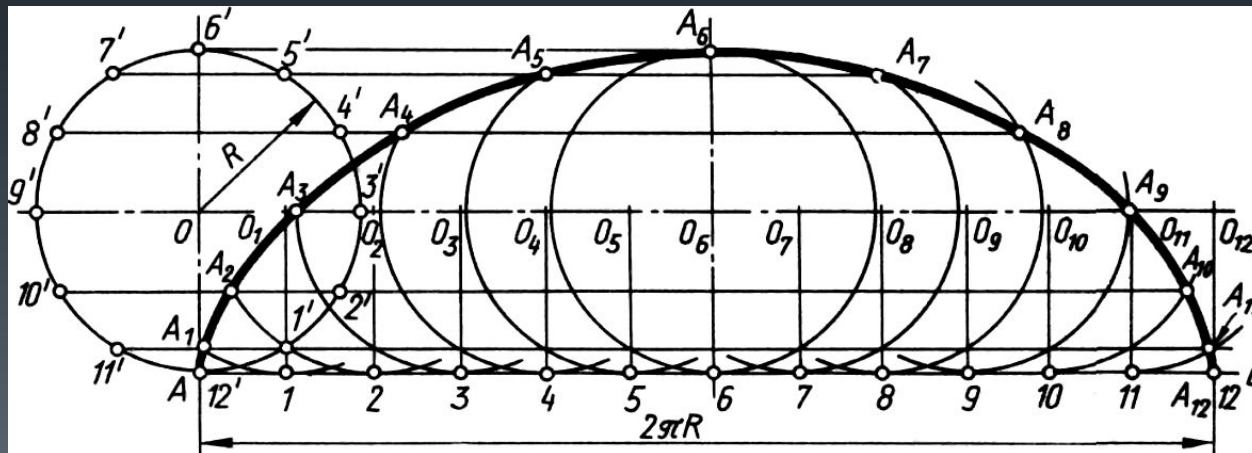


Циклоида

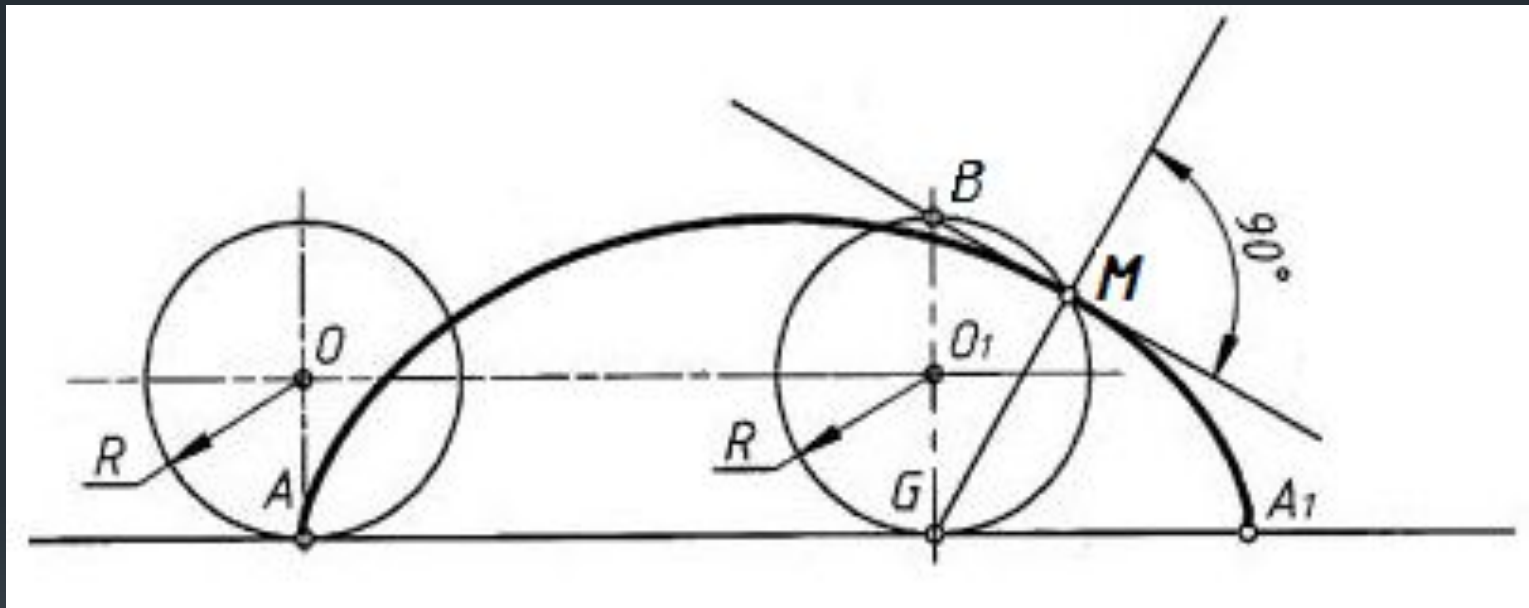
плоская кривая, которую описывает точка A , лежащая на окружности, которая катится без скольжения по прямой CD



Построение циклоиды


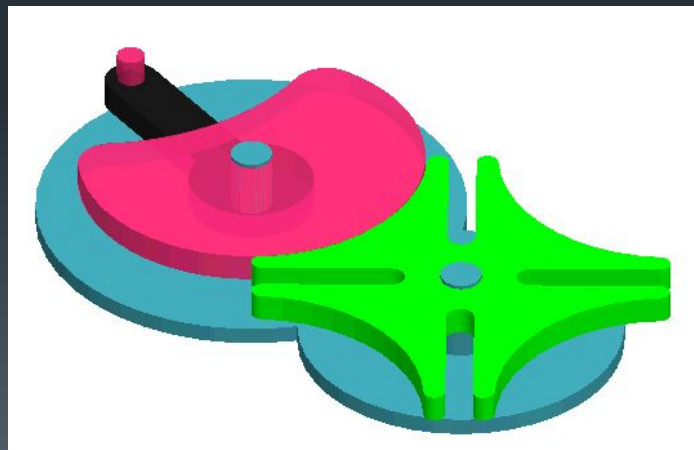
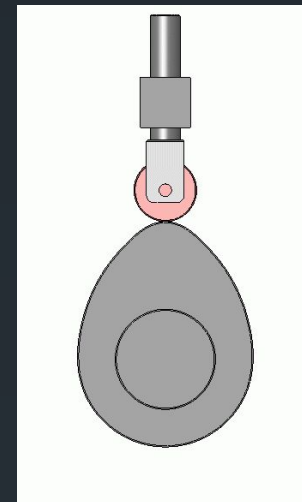
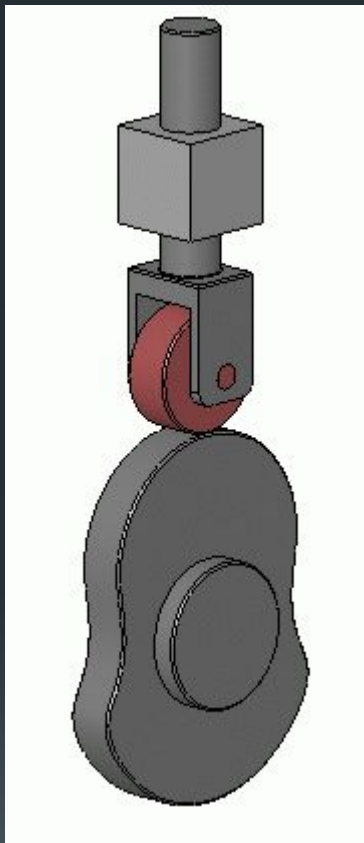


Касательная к циклоиде в заданной точке M



Касательная – перпендикуляр к прямой GM

Кулачковый механизм



Чертеж Кулачка

