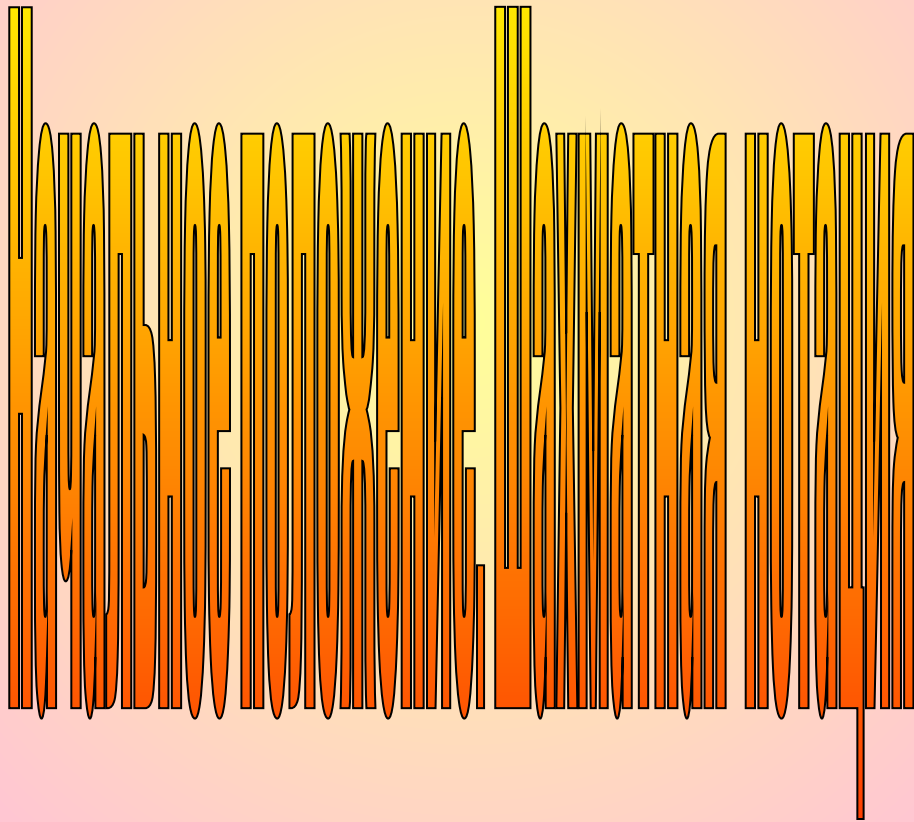



Шахматы 1класс






1. Сколько белых коней на шахматной доске? (64) и? сколько черных? (По 1) (Горюха) (остаток), белое поле)

	a	b	c	d	e	f	g	h	
8	a8	b8	c8	d8	e8	f8	g8	h8	8
7	a7	b7	c7	d7	e7	f7	g7	h7	7
6	a6	b6	c6	d6	e6	f6	g6	h6	6
5	a5	b5	c5	d5	e5	f5	g5	h5	5
4	a4	b4	c4	d4	e4	f4	g4	h4	4
3	a3	b3	c3	d3	e3	f3	g3	h3	3
2	a2	b2	c2	d2	e2	f2	g2	h2	2
1	a1	b1	c1	d1	e1	f1	g1	h1	1
	a	b	c	d	e	f	g	h	

Назвать имена вертикалей, горизонталей. Имена полей.

Начальное положение



Фрезерный фланг

Королевский фланг

Белый отряд, чёрный отряд – Друг против друга два войска стоят. Строгий порядок в отряде одном, Точно такой же – в отряде другом. В каждом отряде – ты сам погляди – оба угла занимают ладьи. Рядом с ладьями кони видны, Рядом с конями встали слоны. Кто ж посередине? Ферзь с королём – самые главные в войске своём. Чтобы не путать, какие поля тут для ферзя и для короля, Нужно запомнить одну из примет: **ФЕРЗЬ ВЫБИРАЕТ СВОЙ СОБСТВЕННЫЙ ЦВЕТ** – Белый на белом квадрате стоит, Чёрному чёрный удачу сулит. Есть свой квадрат у любого ферзя, Путать ферзей с королями нельзя! А перед всеми – ладьёй и конём, Перед слоном, королём и ферзём – Пешки-малышки встали стеной, Им начинать этот сказочный бой.