

Сьогодні
28.05.2023

Урок
№12

9



**Повторення вивченого.
Дії з двоцифровими числами.
Задача на знаходження невідомого
зменшуваного.**



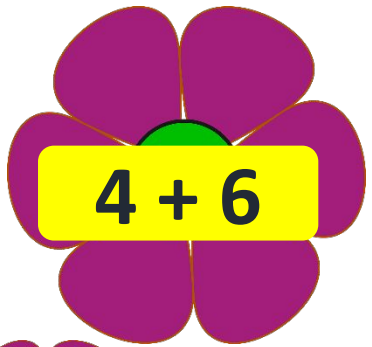

Гарно й зручно ми
сідаєм,
Щось нове завжди
вивчаєм.




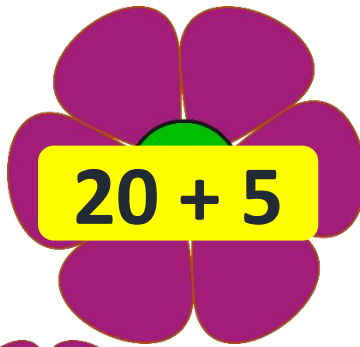
Те, що вчили - пригадаєм,
Будь уважний, починаєм!

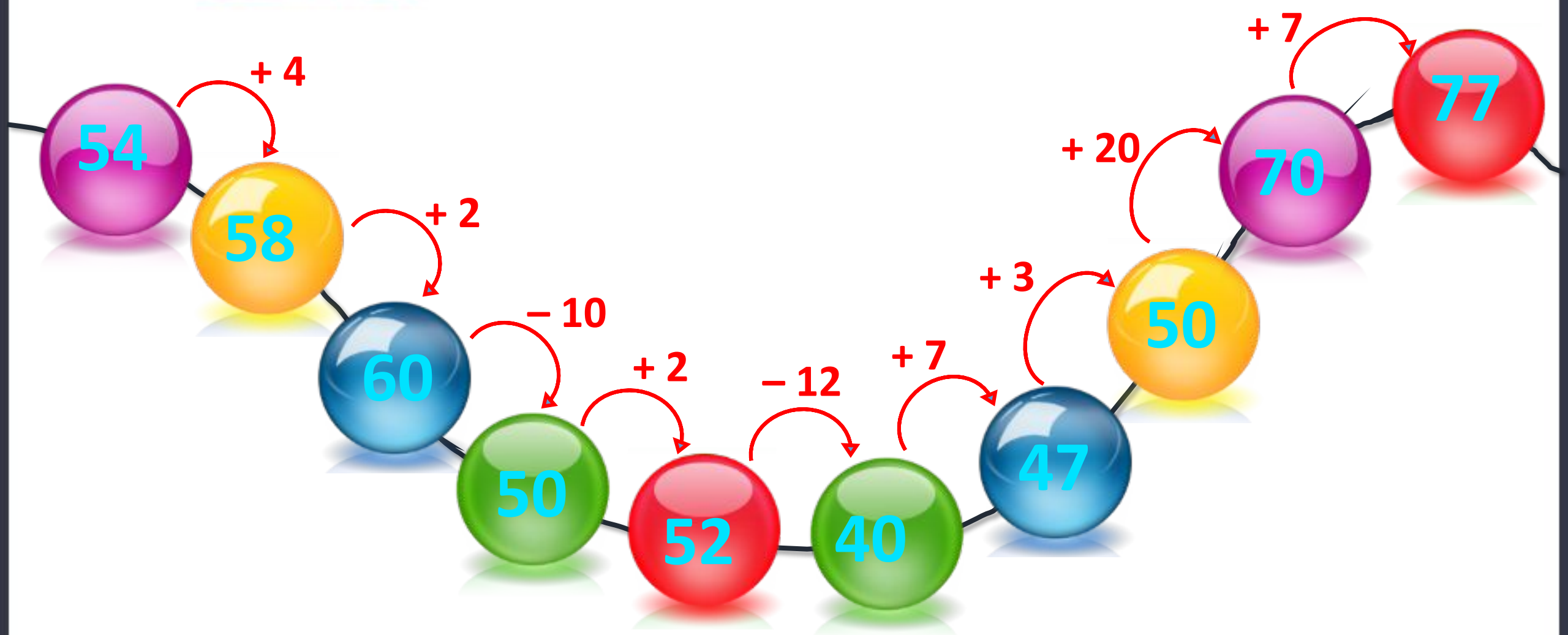


СЬОГОДН
28.05.2023

Підготовчі вправи. Гра «Створи букет»







Сьогодні
28.05.2023

Утворення попереднього та наступного круглого числа



❖ Знайди невідомий доданок.

$$20 + \boxed{50} = 70 \quad \longrightarrow \quad 70 - 20 = 50$$

$$34 + \boxed{21} = 55 \quad \longrightarrow \quad 55 - 34 = 21$$

$$\boxed{5} + 40 = 45 \quad \longrightarrow \quad 45 - 40 = 5$$




Сьогодні
28.05.2023

Робота з підручником. Формулювання запитання до задачі за малюнком

Розглянь малюнок.
Сформулуй два запитання й розв'яжи утворені задачі.



27 грн



10 грн



Скільки коштує альбом і зошит разом?



На скільки альбом коштує більше, ніж зошит?


$$27 \text{ грн} + 10 \text{ грн} = 37 \text{ грн}$$

$$27 \text{ грн} - 10 \text{ грн} = 17 \text{ грн}$$

Сьогодні
28.05.2023

Робота з підручником. Робота над завданням

❖ Розглянь малюнок. Дай відповіді на запитання.



10 грн



24 грн



25 грн



11 грн



16 грн



5 грн

- Бабуся купила батон, кефір і стакан сметани. Скільки гривень вона заплатила за покупку?
- Настя купила банани й морозиво. Скільки гривень вона витратила на цю покупку?

59 грн

27 грн



10 грн 24 грн 25 грн 11 грн 16 грн 5 грн

➡ Марійка купила яблуко за 5 грн і сметану за 25 грн.

➡ Скільки гривень потратила Марійка?

Склади ще одну задачу за цим малюнком.

$$25 \text{ грн} + 5 \text{ грн} = 30 \text{ (грн)}$$

Відповідь 30 гривень потратила Марійка.



Сьогодні
28.05.2023

**Робота у зошиті
(сторінка 51).**

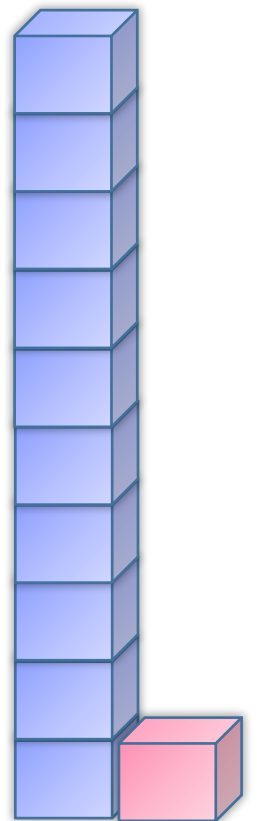


• Яке сьогодні число місяця? Запиши

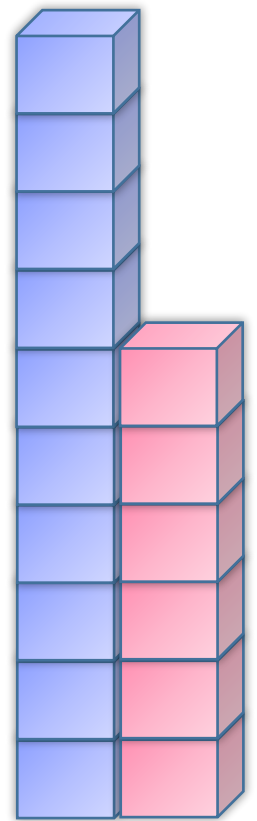
• Який сьогодні день тижня?
Зафарбуй відповідний прямокутник.




- Скільки цеглин у кожній парі стовпців? Запиши.



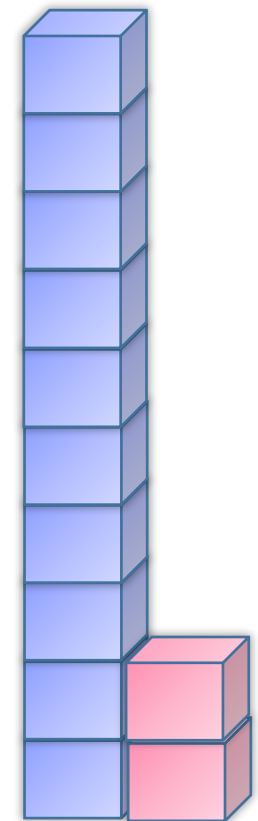
1 1




1 6



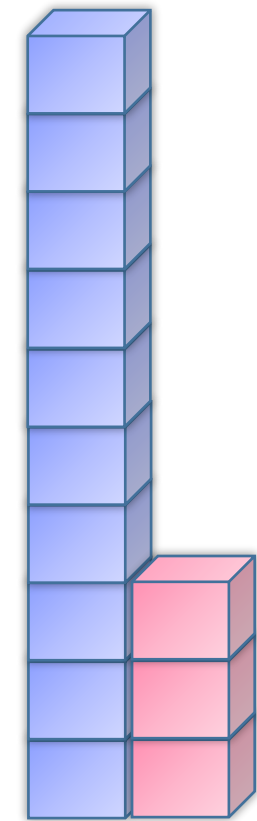
1 9



1 2



2 0



1 3

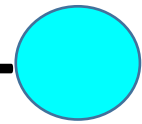



- Прочитай числа: *тринадцять, дев'ятнадцять, сімнадцять, п'ятнадцять, одинадцять, двадцять.*
- Запиши ці числа в таблицю за зразком.

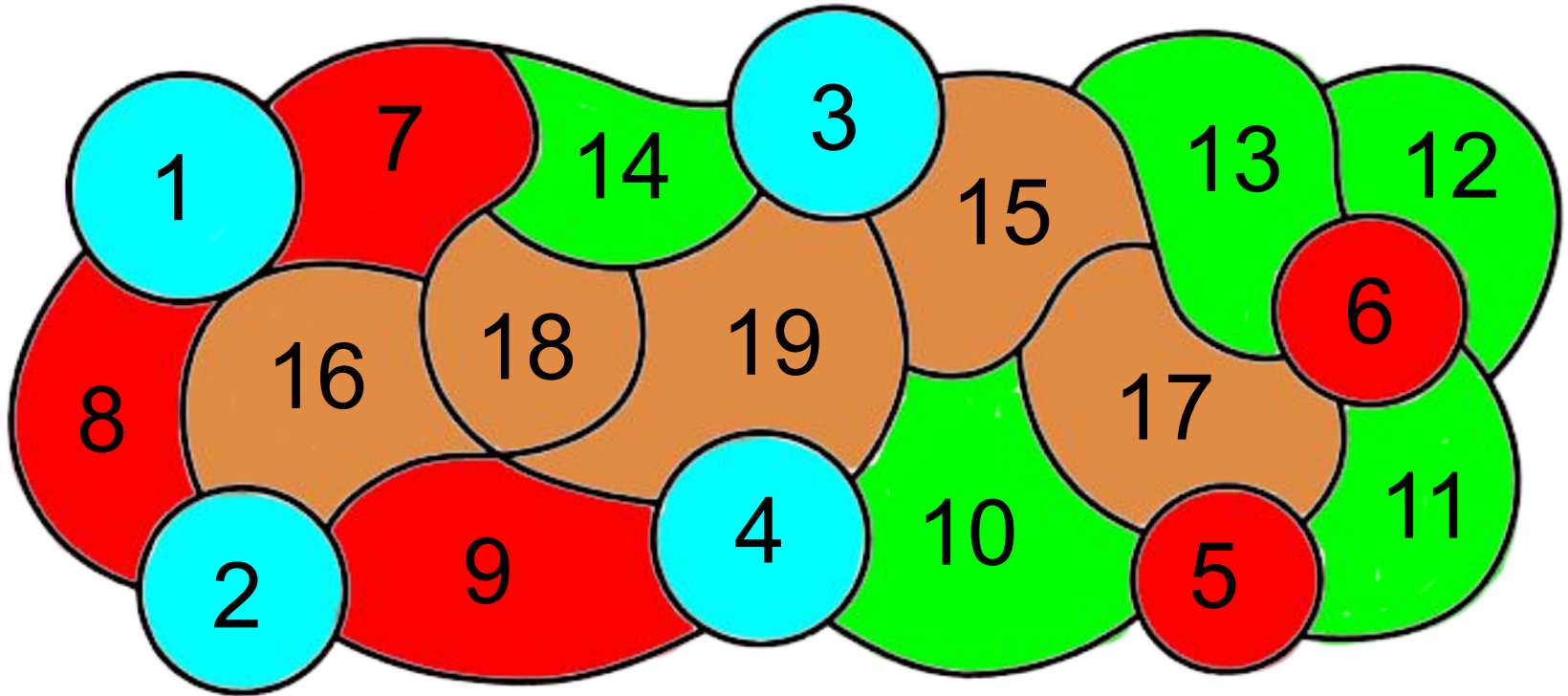


Число	Десятки	Одиниці
13	1	3
19	1	9
17	1	7

Число	Десятки	Одиниці
15	1	5
11	1	1
20	2	0

- Розфарбуй малюнок.

- від 1 до 4 — 
- від 5 до 9 — 
- від 10 до 14 — 
- від 15 до 19 — 



Петрик має 2 купюри по 20 гривень та купюру 50 гривень. Чи вистачить хлопчику грошей, щоб купити букет квітів для мами за 80 гривень?



Сьогодні
28.05.2023

(щоби відкрити інтерактивне завдання, натисніть на помаранчевий прямокутник)

**Відкрити онлайнове
інтерактивне завдання**